

領域：數學

班級：一年忠班

座號：_____ 姓名：_____

一、把答案相同的連起來

：每答 3 分，共 15 分

- | | | | |
|------------|---|---|--------|
| (1) $16-8$ | • | • | $14-7$ |
| (2) $15-6$ | • | • | $13-9$ |
| (3) $13-6$ | • | • | $12-6$ |
| (4) $12-8$ | • | • | $17-9$ |
| (5) $11-5$ | • | • | $16-7$ |

二、算算看看 (寫出計算分兩堆的過程)：每題 3 分，共 15 分

(1) $11-2=$

(2) $13-5=$

(3) $17-8=$

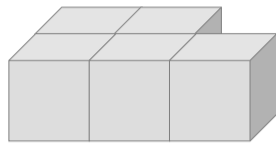
(4) $9+6=$

(5) $5+8=$

三、數數看看，下面形體各是用幾個小立方體組成的？

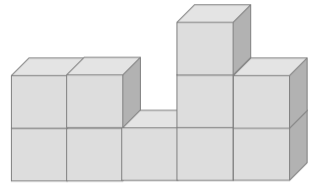
每題 3 分，共 12 分

(1)



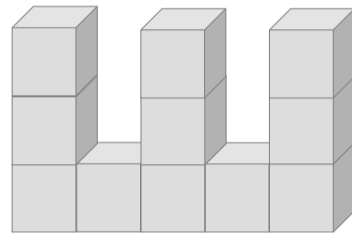
() 個

(2)



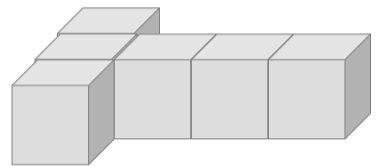
() 個

(3)



() 個

(4)



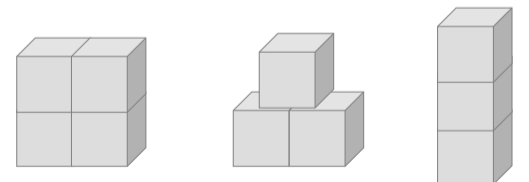
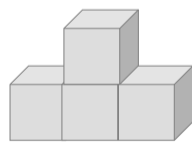
() 個

四、用左邊的圖卡可以一排排成右邊的哪一個圖形，圈出圈看看：每題 2 分，共 8 分


(1)




(2)



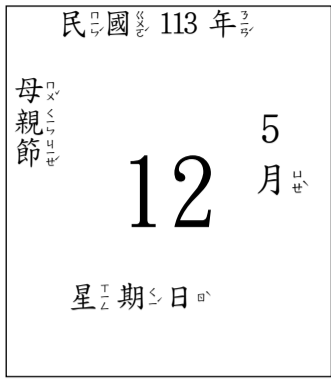
(3)



(4)



五、這是今天的日曆，回答下列問題： 每格3分，共30分



- (1) 今天是 () 月 () 日，星期 ()，是 () 節。
- (2) 昨天是 () 月 () 日，星期 ()。
- (3) 明天是 () 月 () 日，星期 ()。

六、下圖是小傑家月的日曆，看圖回答問題： 每格1分，共10分

| 2024年4月 民國113年 | | | | | | |
|----------------|-----|-----|------------|-----------|-----------|-----------|
| 星期日 | 星期一 | 星期二 | 星期三 | 星期四 | 星期五 | 星期六 |
| | 1 | 2 | 3 | 4 清境農場 | 5 清境農場 | 6 清境農場 |
| 7 | 8 | 9 | 10 爸爸生日 | 11 | 12 | 13 |
| 14 | 15 | 16 | 17 | 18 | 19 | 20 |
| 21 | 22 | 23 | 24 | 25 | 26 | 27 |
| 28 | 29 | 30 | | | | |

- (1) 小傑家在 () 月 () 日，星期 () 要出發去清境農場玩。
- (2) 爸爸生日是在 () 月的第 () 個星期 ()，是 () 月 () 日。
- (3) 明天是爸爸的生日，所以今天是 () 月 () 日。

七、把做法用算式記下來： 每題2分，共10分

(1) 小綾在夜市買了12個章魚燒，吃掉7個後，還剩下幾個章魚燒？

() 個

(2) 冰箱裡有蘋果和柳橙共16顆，蘋果有9顆，柳橙有幾顆？

() 顆

(3) 小揚今年8歲，姐姐比她大7歲，姐姐今年幾歲？

() 歲

(4) 小境排隊準備拔河，他排在第9個，後面還有7個人，共有幾個人在準備拔河？

() 個

(5) 班上共有17個學生，10個學生負責外掃區打掃，剩下的掃教室，掃教室的學生有幾個？

() 個