


得分： 一年 忠 班 號 姓 名： 家長簽名：

一、圈圈看看：每題 2 分，12 分


1. 圓形珠子多還是星星珠子多？



(圓形珠子，星星珠子)比較多


2. 圈出正確的數量。

28 隻獨角仙



3. 鐘面上，哪一根指針走得比較慢？(長針，短針)


4. 有 17 張圖畫紙和 19 個小朋友，一個人拿 1 張，圖畫紙夠不夠？
(夠， 不夠)

5. 圈出比  小的數。

17 14 0 19 18 16

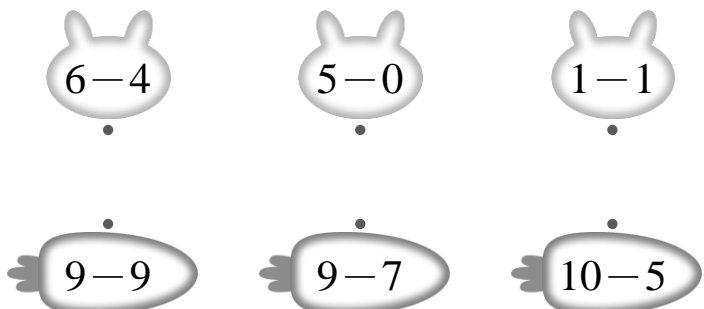
6. 數一數，多的畫掉，不夠的畫○
補上去。

15 隻鳥

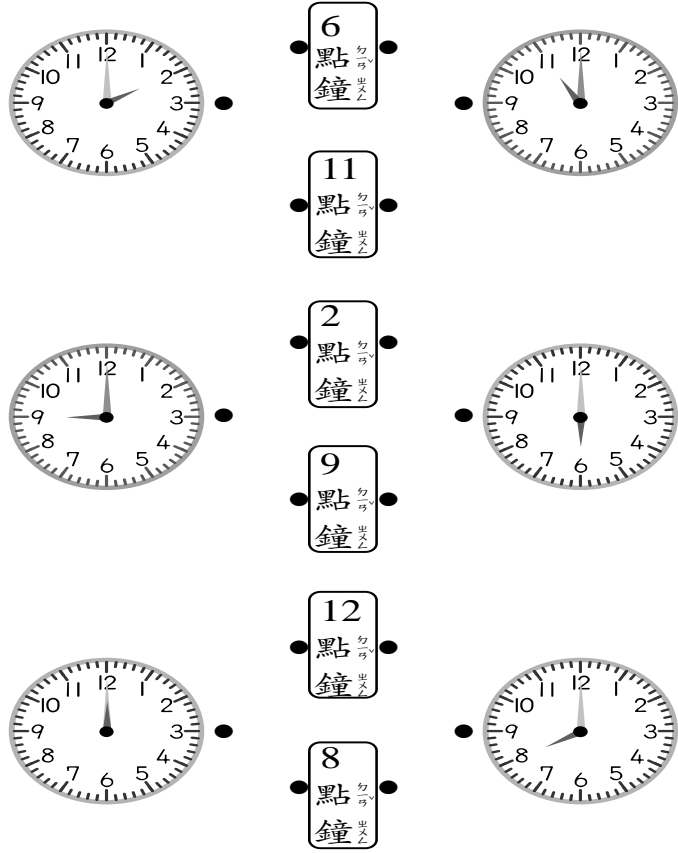


二、連連看看：18 分

1. 把答案相同的算式連起來。




2. 是幾點鐘？



三、填填看看：34 分

1. 最大的數打√，最小的數打×。



(3 分)

2. 比比看，在 裡打√。

(1) 寵物店有 17 隻小貓和 21 隻小狗，哪一種比較少？(2 分)

小貓 小狗 一樣多

(2) 媽媽包了 20 顆包子，有 24 個袋子，一個袋子裝 1 顆包子，袋子夠不夠？(2 分)

夠 不夠

3. 按照順序填填看看。(9 分)

(1) () - 17 - 16 - () - 14

(2) 30 - () - () - 27 - 26

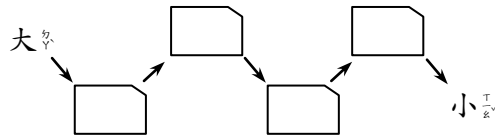
(3) 18 - () - () - 21 - 22

(4) 24 - () - 22 - () - ()

4. 把  裡 的 數 從 大 排 到 小 填 在  裡。

(4 分)

16 18 17 11



5. 在 正 確 的 裡 打 \checkmark 。(2 分)




比



早

晚

6. 在 正 確 的 裡 打 \checkmark 。(2 分)



比




早

晚



7. \blacktriangle 排在第 個 圖 形 形，前 面 有 個 圖 形。(4 分)



8. 和 合 起 來 是 。(6 分)

四、計算題。(每題 2 分, 12%)

1. $10 - 6 = (\quad)$

2. $1 + 8 = (\quad)$

3. $5 - 2 = (\quad)$

4. $5 + 4 = (\quad)$

5. $5 - 3 + 6 = (\quad)$

6. $4 + 4 - 3 = (\quad)$

五、應用題，畫 \bigcirc 算算看，寫出算式並算出答案，每題 4 分，共 24 分

1. 爸爸到冰店買了 2 份紅豆冰和 8 份芋頭冰，爸爸一共買了幾份冰？

畫 \bigcirc 做做看。

算式：

答：() 份冰

2. 一包金莎巧克力有 3 顆，買 2 包會有幾顆金莎巧克力？畫 \bigcirc 做做看。

畫 \bigcirc 做做看。

算式：

答：() 顆金莎巧克力

3. 花園裡有 4 隻蝸牛和 9 隻瓢蟲，瓢蟲比蝸牛多幾隻？畫 \bigcirc 做做看。

畫 \bigcirc 做做看。

算式：

答：瓢蟲多 () 隻

4. 冰箱裡有 9 個布丁，吃掉 5 個後，還剩下幾個布丁？

算式：

答：剩下 () 個布丁

5. 冰箱裡有 10 瓶果汁，昨天喝了 2 瓶，今天喝了 6 瓶，兩天一共喝了幾瓶果汁？

算式：

答：() 瓶果汁

6. 桌上有 10 瓶汽水 and 6 瓶牛奶，爸爸喝了 2 瓶汽水，還剩下幾瓶汽水？

算式：

答：剩下 () 瓶汽水