

國資會商科 二年 班 座號: _____ 姓名: _____

1. 下列何者正確?

- (A) 西瓜妹每天不論如何都會買 1 顆蘋果來吃, 可知西瓜妹對蘋果的需求彈性為 1。
- (B) 需求曲線由韋伯倫所提出。
- (C) 當消費者的所得提高, 一定會使財貨的需求線往右移。
- (D) 當消費者對雞排的需求彈性大於 1 時, 表示雞排的需求量變動百分比大於價格變動百分比。

2. 下列何者正確?

- (A) 當財貨的用途越多時, 其需求彈性越大, 需求曲線就越陡峭。
- (B) 財貨的替代品越多, 對該財貨的需求彈性也愈大。
- (C) 需求是指於一定期間內, 在某一特定價格下, 消費者對某財貨所願意且有能力的購買數量。
- (D) 富人沒有「慾望無窮, 但資源相對有限」之經濟問題

3. 下列何者正確?

- (A) 需求的價格彈性是指因「需求量變動」造成「財貨價格變動」的幅度
- (B) 需求曲線上的任一點, 表示在該數量下, 消費者願意且能夠購買的最低價格。
- (C) 某財貨價格上漲 1 元, 需求量減少 4 單位, 則消費者對該財貨的需求彈性為 4
- (D) 餐館的烹飪器具是屬於資本財

4. 在固定所得水準下, 當 X 財貨的價格下跌時, 會增加 Y 財貨的需求, X 與 Y 兩種財貨稱之為 (A) 互補財貨 (B) 替代財貨 (C) 劣等財貨 (D) 獨立財貨

5. 知 A、B 二人對蘋果的需要函數分別為: $A: Q_A = 100 - 2P$ $B: Q_B = 75 - 3P$, 假設市場中僅有 A、B 二位消費者, 若市價高於 25 元時, 蘋果市場的需要函數為何? (A) $Q = 175 - 5P$ (B) $Q = 100 - 2P$ (C) $Q = 75 - 3P$ (D) $Q = 0$ 。

6. 貨幣所得不變, 因財貨價格下降, 導致購買力提高而使需求量增加為 (A) 替代效果 (B) 所得效果 (C) 價格效果 (D) 移轉效果

7. 下列敘述何者錯誤?

- (A) 探討台中捷運通車後, 對台中經濟發展的影響, 是屬於實證經濟學的研究範疇
- (B) 夏天太熱, 使得裝設冷氣機的需求曲線向右移
- (C) 「政府為了刺激國民的消費意願, 所得稅率應該降低多少?」是屬於實證經濟學研究範圍。
- (D) 媽媽多給了零用錢, 使得小華對冷飲的需求曲線向右移

8. 下列何者正確? (A) (1)(2)(3)(4) (B) (2)(3)(4) (C) (3)(4) (D) (2)(4)

- (1) 炫耀財一定是奢侈品
- (2) 季芬財一定是劣等財
- (3) 劣等財不一定違反需求法則
- (4) 需求法則是指在其他條件不變的情況下, 價格與需求量呈反比關係

9. 下列哪一項因素必然導致某一財貨之需求曲線向左移動?

- (A) 該財貨價格上漲 (B) 消費者的所得減少 (C) 替代品的價格上漲 (D) 互補品的價格上漲

10. 假設奇奇、蒂蒂二人對栗子的需求函數分別為: $q_{奇奇} = 200 - P$ 、 $q_{蒂蒂} = 280 - 2P$ 。當栗子的價格為 150 元時, 二人對栗子的總需求量為多少單位? (A) 20 單位 (B) 30 單位 (C) 40 單位 (D) 50 單位

11. 假設市場上有 50 名相同的消費者, 已知個別需求函數為 $q_d = 10 - 2P$, 則市場需求函數為何?

- (A) $Q_d = 40 - 2P$ (B) $Q_d = 500 - 2P$ (C) $Q_d = 60 - 2P$ (D) $Q_d = 500 - 100P$

國資會商科 二年 _____ 班

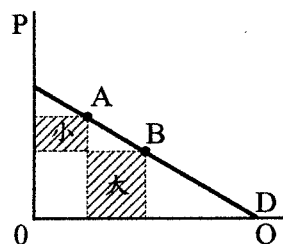
座號: _____ 姓名: _____

12. 假設茶和咖啡是為需求的替代品，糖和咖啡是互補品，當咖啡變貴時，則下列何者正確？

(A)(1)(2)(B)(2)(3)(C)(3)(4)(D)(1)(3)

(1)糖的需求變少 (2)茶的需求量增加 (3)茶的需求線往右移 (4)咖啡需求線往左移

13. 如下圖所示，需求曲線上 B 點到 A 點的需求彈性為



(A)完全彈性 (B)富於彈性 (C)缺乏彈性 (D)單一彈性

14. 一物需求彈性較大，是由於該物

(A)為必需品 (B)消費支出占所得的比例小 (C)用途較少 (D)耐用程度較小

15. 下列何者錯誤?(A)資本主義經濟的最大缺點為貧富不均(B)需求是指整條需求曲線(C)引申需求是指生產者對消費財的需求(D)負斜率的直線型需求曲線，位置較高處的彈性通常較小

16. 若花店降低花卉 10% 的價格，會增加 10% 的收入，則消費者對花卉的需求彈性為多少?(A)0 (B)1 (C)大於 1 (D)小於 1

17. 「穀貴傷民」按經濟學的解釋，消費者對穀物的需求彈性為多少?(A)0 (B)1 (C)大於 1 (D)小於 1

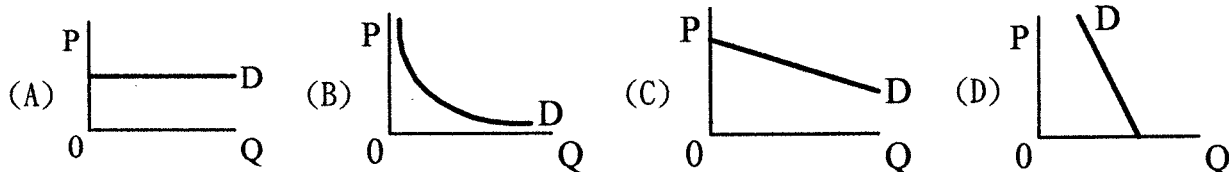
18. 情人節到來，當玫瑰花每朵 60 元時，聖傑會買 5 朵，當花價漲到每朵 100 元時，聖傑只會買 3 朵；若用弧彈性計算，則需求彈性為(A)0.25 (B)2.4 (C)1 (D)0.5

19. 承上題，當玫瑰花漲價，則消費者支出(A)增加(B)減少(C)不變(D)不一定

20. 假設喬巴對洋芋片的需求函數為 $Q_d = 80 - 2P$ ，當 $P = 25$ 時， E^d 為

(A)1/10 (B)10 (C)5/3 (D)3/5

21. 假設計程車漲價後，搭乘的人越來越少，消費者的總支出減少，則計程車的需求曲線應該是下列哪一個圖形？



22. 若日月老茶廠紅玉紅茶的需求彈性為 1.2，需求量为 200 單位，當價格上漲 15% 時，需求量为多少單位?(A)236 單位 (B)224 單位 (C)176 單位 (D)164 單位

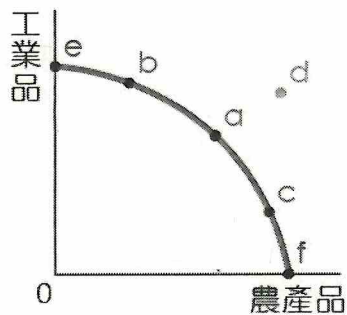
23. 製鞋廠商在評估到底要多利用人工或是資本設備，並考慮生產成本和其對環境的影響，這是屬於哪一種經濟問題?(A)生產什麼 (B)如何生產 (C)何時生產 (D)為誰生產

24. 下列何者正確?(A)在經濟體系中，企業部門是生產要素主要的提供者 (B)在經濟循環圖中，同時向要素市場購買要素及向產品市場購買產品的決策單位是政府部門 (C)混合經濟制度是以計劃經濟為主，自由經濟為輔(D)在生產可能曲線上，為了增產 3 單位的 X 財，必須減產 9 單位的 Y 財，則其邊際轉換率為 1/3

25. (1)共產主義經濟制度、(2)自由經濟制度、(3)混合經濟制度 (4)社會主義制度。在上述各種經濟制度中，政府對經濟控制力由高而低排序，依次為(A)(1)(4)(2)(3) (B)(1)(4)(3)(2) (C)(3)(1)(4)(2) (D)(2)(3)(4)(1)

國資會商科 二年 班 座號: _____ 姓名: _____

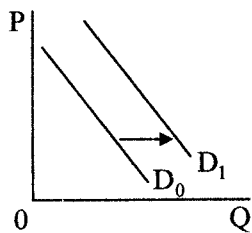
26. 下列何者正確? (A)d 點代表資源未充分利用 (B)就生產效率而言, $a=b=c$ (C)若要增加農產品的生產, 放棄工業品生產的機會成本 $a > b > c$ (D)若品質進步, 則生產可能曲線會整條線向外移動



27. 阿滴有四個工作機會, 年薪分別為: 家教 100 萬元、補習班英文老師 220 萬元、Youtuber 180 萬元、英語節目主持人 160 萬元。假設阿滴只能選擇一項工作, 試問阿滴選擇成為 Youtuber 的機會成本為若干? (A)220 萬元 (B)180 萬元 (C)100 萬元 (D)320 萬元
28. 下列何者不是總體經濟學所探討的內容?
(A)物價水準 (B)國民所得 (C)生產理論 (D)國際貿易
29. 有關「政府面對少子化現象, 應提出何種政策以避免造成經濟動盪?」的經濟學研究範疇, 下列敘述何者錯誤? (A)屬於唯善經濟學 (B)亦屬於規範經濟學 (C)是以主觀價值判斷經濟政策 (D)又稱為唯真經濟學
30. 若阿倫對奶茶需求曲線為垂直線, 則下列何者正確? (A)(1)(2)(B)(2)(3)(C)(3)(4)(D)(2)(3)(4)
(1)阿倫對奶茶的需求彈性為 1
(2)當奶茶價格由 \$50 元降為 \$40, 則阿倫的支出將減少 20%
(3)奶茶價格變動與阿倫的支出呈同方向同比例變動
(4)阿倫對奶茶的需求屬於完全無彈性
31. 以「資源有限但慾望無窮」這種眾所皆知的觀念作為基本假設, 而推論出許多經濟理論的方法, 是屬於何種研究方法? (A)數理法 (B)演繹法 (C)歸納法 (D)模型法
32. 「有鑒於人們對休閒生活的重視, 且附近地區約有 8,000 萬人口, 14 歲以下就有 1,500 萬人之多, 因此我們決定選擇此地區興建兒童主題樂園」上述說法中, 業者所考量的主要是下列哪一項問題? (A)何時生產 (B)如何生產 (C)為誰生產 (D)如何維持經濟穩定
33. 下列哪一個經濟問題, 可以利用財政政策及貨幣政策來解決?
(A)如何生產 (B)為誰生產 (C)如何維持經濟成長 (D)何時生產
34. 下列何者為真? (A)經濟學是一門選擇的科學, 同時也是自然科學 (B)在經濟學的研究範圍中, 以價格為分析重點, 亦稱為「價格理論」的是總體經濟學 (C)生產可能曲線為凹向原點的曲線, 是因為機會成本遞增 (D)生產可能曲線的兩軸代表使用兩種生產要素的數量
35. 「如何分配」的問題是屬於基本經濟問題中的哪一種問題?
(A)生產什麼 (B)如何生產 (C)何時生產 (D)為誰生產
36. 混合經濟制度與市場經濟制度的最大不同點是 (A)私有財產 (B)重視分工與專業化 (C)大量使用資本及科技不斷進步 (D)政府經濟職能的不斷提高
37. 下列何者不能用生產可能曲線來解釋? (A)機會成本 (B)稀少性 (C)市場價格的決定 (D)資源的充分利用
38. 下列敘述中, 何者為洋芋片需求量增加?
(A)老媽加發 10% 零用錢, 所以多買 2 包洋芋片 (B)洋芋片可提振精神, 所以多買 2 包 (D)預期明天洋芋片價格上漲, 所以我多買 2 包洋芋片 (C)洋芋片買 2 送 1, 價格下跌 10%, 所以我多買 2 包

國資會商科 二年 _____ 班 座號: _____ 姓名: _____

39. 下圖為綠茶的需求曲線，若紅茶與綠茶互為替代品，當需求曲線由 D_0 移至 D_1 ，此係由於下列哪一項原因所致？(A) 紅茶價格上漲 (B) 紅茶價格下跌 (C) 綠茶價格上漲 (D) 綠茶價格下跌



40. 下列何者錯誤？

- (A) 當需求函數為 $P = \frac{60}{Q}$ ，代表需求彈性為 1
- (B) 對價格越敏感的人，其需求彈性越小
- (C) 市場需求是個別需求的水平加總
- (D) 季芬財的需求曲線呈正斜率