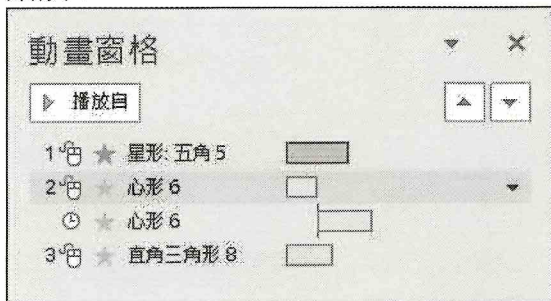


國立鳳山高級商工職業學校 111 學年度第 1 學期商會國資 2 年級數位應用第 2 次月考試卷





班級：_____ 座號：_____ 姓名：_____ 得分：_____


選擇題：100% (每題 2 分)


- () 在 PowerPoint 中，下列有關簡報放映所使用的按鍵敘述，何者有誤？(A)Page Up：切換至下一頁 (B)Esc：取消放映 (C)Shift + F5：從目前投影片開始放映 (D)←：切換至上一頁
- () 小雪要到客戶公司提案，原先預計 40 分鐘的提案會議被臨時縮短為 20 分鐘，小雪想將原先 20 頁的投影片內容在簡報時精簡為 10 頁並且不刪除原有投影片，請問小雪可以利用 PowerPoint 的哪一項功能來達成？(A)自訂放映 (B)手動放映 (C)自動放映 (D)按 F5 鍵放映
- () 建國在播放 PowerPoint 簡報時，發現有幾張投影片並未放映，請問會有這種結果不可能是下列哪一項原因造成？(A)部分投影片設定隱藏 (B)簡報被設定為依自訂放映來播放 (C)簡報被設定為單按滑鼠才能換頁 (D)簡報被設定為從中間的投影片開始播放
- () 在 Microsoft PowerPoint 中，為了掌握簡報時間與速度，在正式簡報前，使用者可以使用下列哪項功能進行預演？(A)轉場功能 (B)母片設計功能 (C)預存時間功能 (D)排練計時功能
- () PowerPoint 中，在不改變所有投影片的情況下，放映簡報時若只要依序播放其中的第 3 張、第 5 張、第 2 張的投影片，可透過下列哪一項功能來設定？(A)隱藏不放映的所有投影片 (B)「自訂放映」 (C)「自訂動畫」 (D)「投影片切換」
- () 在 Microsoft PowerPoint 中檢視某一投影片時，動畫窗格顯示如下圖所示，請依照該圖判斷下列敘述，何者錯誤？



- (A) PowerPoint 會依照圖中的編號 1、2、3，依序播放物件的動畫 (B)選編號 1，並按 鈕，編號 3 會往上移一層 (C) 此投影片中 共有 4 個動畫效果 (D)可分別設定每個動畫播放的時間長度
- () 如果想為投影片中的物件套用彈跳的動態效果，應如何操作？(A)套用自訂動畫 (B)加入 SmartArt 圖形 (C)套用轉場效果 (D)加入線上圖片
- () 茵茵經營網路商店有成，受邀到學校演講「從夢想到成功創業」與同學分享自己的創業歷程與心得，她利用 PowerPoint 製作了一份簡報資料，若她希望在簡報播放的開始，能先出現鼓掌的聲音，以引起台下的同學注意，她應該利用下列哪一項功能？(A)轉場 (B)版面配置 (C)自訂動畫 (D)新增簡報
- () 威德在旅行社擔任領隊，出發前的行前說明會，他想透過 PowerPoint 模擬行程路線的動畫，請問他最可能是利用下列哪一項功能來達成？(A)投影片轉場特效 (B)佈景主題 (C)SmartArt 圖形 (D)移動路徑
- () 如果簡報投影片縮圖左下方出現 ，表示？(A)剪下該編號投影片 (B)隱藏該編號投影片 (C)刪除該編號投影片 (D)發佈該編號投影片
- () 在 PowerPoint 中，若要切換至投影片母片檢視模式，必須透過下列哪一個標籤？(A)常用 (B)插入 (C)檢視 (D)轉場
- () 夜華在投影片母片中，設定標題的字型為 "華康中黑體" 後，接著在投影片母片的「標題及內容」版面配置中，設定標題的字型為 "新細明體"，則下列有關該份簡報的字型敘述，何者正確？(A)套用「標題及內容」版面配置的投影片，其標題字型預設為新細明體 (B)新增的投影片，其標題字型預設為華康中黑體 (C)簡報中所有投影片的標題字型，全部改成標楷體 (D)只有第 2 張投影片的標題被改為新細明體
- () 如果我們將簡報中的第 2 張投影片標題字型更改為 "華康中黑體"，接著在投影片母片中設定標題字型為 "標楷體"，則第 2 張投影片的標題字型會以下列哪一種字體來呈現？(A)標楷體 (B)新細明體 (C)華康細圓體 (D)華康中黑體
- () 將第 2 張投影片的字型樣式更改為「華康娃娃體」後，發現與其它樣式不相配，若想重新套用母片的格式，請問下列哪一種做法最合適？(A)刪除該字型 (B)按 F5 鍵 (C)更改佈景主題的字型配置 (D)按重設鈕
- () 下列有關 PowerPoint 工具鈕的敘述，何者有誤？(A) 鈕，可讓文字置中對齊 (B) 鈕，可將內文配置區內的文字改以兩欄呈現 (C) 鈕，可縮放行距 (D) 鈕，可加大文字的字型大小

16. () 下列有關 Microsoft PowerPoint 的敘述，何者正確？(A)按  鈕可為文字加上有次序性的條列編號 (B)利用文字方塊功能，可在投影片的任意位置加入文字 (C)按  鈕，可用來轉換英文字母的大小寫 (D)佈景主題只能套用至整份簡報，無法套用至特定的投影片中
17. () 在 PowerPoint 中， 鈕的功用為何？(A)設定文字的垂直對齊方式 (B)設定字元間距 (C)加大文字方塊的尺寸 (D)加寬段落間距
18. () 在 Microsoft PowerPoint 中，我們不能將編修後的簡報，儲存成下列哪一種檔案格式？(A)potx (B)html (C)wmv (D)gif
19. () 好萊塢最新電影首映活動的主辦單位將電影精彩劇照利用 Microsoft PowerPoint 的相簿功能匯入後，若想要在活動當天開啟檔案就直接播放給影迷觀賞，請問該檔案應儲存為下列哪一種檔案格式？(A)pptx (B)pdf (C)potx (D)ppsx
20. () 美茹與同事分工製作專案簡報，她負責將同事製作好的投影片，合併成一個簡報檔案，請問她應該怎麼做最有效率？(A)利用「重複使用投影片」功能插入同學製作好的投影片 (B)利用「相簿」功能一次大量匯入同學製作好的投影片 (C)新增投影片後，再利用複製與貼上技巧，逐一貼上同學製作的投影片 (D)將同學製作的內容重新輸入至新建立的簡報中
21. () 在 Microsoft PowerPoint 的『投影片瀏覽模式』中，若游標變成了  符號，則代表使用者目前正在對投影片進行何種作業？(A)新增 (B)修改 (C)複製 (D)搬移
22. () 下列哪一個應用軟體最適合用來製作簡報？(A)PowerPoint (B)Word (C)Excel (D)小畫家
23. () 在 Microsoft PowerPoint 工作環境中，下列何者可用來複製、刪除或調整投影片的順序？(A)狀態列 (B)投影片窗格 (C)快速存取工具列 (D)投影片編輯窗格
24. () 在 Microsoft PowerPoint 工作環境中，會在何處顯示使用者目前開啟的簡報檔名？(A)投影片編輯窗格 (B)標題列 (C)狀態列 (D)備忘稿編輯窗格
25. () 在 PowerPoint 中，若想快速美化數張投影片，使簡報資料風格一致，使用下列哪一種功能最有效率？(A)投影片版面配置 (B)投影片色彩配置 (C)套用佈景主題 (D)自訂動畫
26. () 套用佈景主題後，若對簡報中標題的字型色彩不滿意，無法透過下列哪一個功能來修改？(A)色彩配置 (B)母片 (C)字型色彩 (D)字型配置
27. () 麗美發現電腦中，有兩份簡報套用相同的佈景主題，但這兩份簡報中的標題、內文字、背景等色彩卻不一樣，請問發生此種情形，最可能的原因為下列何者？(A)電腦中毒 (B)有一份簡報被設定為唯讀 (C)兩份簡報所套用的色彩配置不同 (D)簡報資料毀損
28. () 套用佈景主題後，若想編輯背景圖案必須在下列何處作修改？(A)投影片 (B)範本 (C)母片 (D)頁首
29. () 明儀在簡報中加入頁碼，但因為簡報第一張是封面頁，他希望頁碼是從第二張目錄頁開始編號（如下圖），請問他該怎麼做？



- (A)設定投影片編號的起始值為 1，且標題投影片中不顯示頁首頁尾 (B)設定投影片編號的起始值為 0，且標題投影片中不顯示頁首頁尾 (C)設定投影片編號的起始值為 1，且標題投影片中要顯示頁首頁尾 (D)設定投影片編號的起始值為 0，且標題投影片中要顯示頁首頁尾
30. () 開啟某份簡報後，發現第 2 張投影片中的各個物件旁，顯示有 1、2、3……等編號，請問這個編號代表(A)物件插入的前後順序 (B)動畫播放的先後順序 (C)物件的數量 (D)動畫播放的時間
31. () 關於投影片頁首及頁尾交談窗的設定，下列敘述何者「錯誤」？(A)可設定頁尾的字型及大小 (B)按『全部套用』鈕，可將頁首及頁尾的設定套用到所有投影片中 (C)可為每張投影片加入編號 (D)可加入日期及時間
32. () 若某張 PowerPoint 投影片上出現有喇叭圖示 ，表示該張投影片(A)設有超連結 (B)有加入背景音樂 (C)設有動作按鈕 (D)有加入影片檔案
33. () 在 PowerPoint 中，分別為第 1、2 張投影片插入"舞曲"及"演奏曲"的聲音檔案後，若沒有特別設定，則播放第 2 張投影片時，背景音樂為何？(A)舞曲 (B)演奏曲 (C)舞曲及演奏曲兩首同時播放 (D)沒有音樂

34. () 請依據簡報製作流程，選出正確的順序 a.製作投影片 b.演練及調整簡報內容 c.擬定簡報大綱 d.確定簡報主題 e.蒐集相關資料 (A)decab (B)abedc (C)edacb (D)abcd
35. () 在 PowerPoint 中，下列哪一項具有「模擬按鈕的效果」功能？(A)動作按鈕 (B)美工圖案 (C)SmartArt 圖形 (D)自訂動畫
36. () 在 Microsoft Excel 中，選定儲存格 A1 後，按住 Ctrl 鍵，再拖曳選定範圍的粗框線至儲存格 C5，其作用為何？(A)將儲存格 A1 的資料搬移至儲存格 C5 (B)複製儲存格 A1 的資料至儲存格 C5 (C)刪除儲存格 A1 的資料 (D)設定儲存格 C5 顯示 "A1"
37. () 下列有關儲存格欄寬及列高的敘述，何者正確？(A)雙按 C 欄與 D 欄之間的框線可調整 C 欄的欄寬 (B)當儲存格內容顯示為"####"，表示列高高度不足 (C)Excel 會依儲存格內容自動調整欄寬 (D)雙按第 5 列的上框線，可讓 Excel 自動調整第 5 列的列高
38. () 在 Microsoft Excel 中，選取工作表第 A ~ D 欄後，拉曳第 D 欄的右框線向右，會產生下列哪一種結果？(A)第 D 欄欄寬變大 (B)第 A ~ D 欄的欄寬變大 (C)第 D 欄的欄寬被設定為最適欄寬 (D)第 A 欄的欄寬被設定為最適欄寬
39. () 在 Excel 中，儲存格內容原為「123456」，套用下列哪一種格式樣式之後，其顯示可以變成「\$123,456.00」？ (A)千分位樣式 (B)增加小數位數 (C)百分比樣式 (D)會計數字格式
40. () 在 Excel 中，如果將資料的類別格式自訂為 "000.0"，則在儲存格輸入 "7.85" 後，會顯示下列哪一個結果？(A)07.8 (B)007.8 (C)007.9 (D)700.9
41. () 在 Excel 中，在儲存格輸入 2022/11/26 的日期資料時，當儲存格填滿下列哪一個符號，表示該儲存格的寬度不足以顯示我們所輸入的資料？(A)* (B)# (C)% (D)&
42. () 在 Excel 工作表中，若要顯示已被隱藏的 D 欄，應如何操作？(A)選取 C 欄按右鍵，選取消隱藏 (B)選取 E 欄按右鍵，選取消隱藏 (C)選取整張表格按右鍵，選取消隱藏 (D)選取 C、E 欄按右鍵，選取消隱藏
43. () 如果想將 Excel 工作表中小於 60 的數值，以紅字粗體的樣式呈現，下列哪一種操作方法最有效率？(A)逐一調整儲存格格式 (B)利用設定格式化的條件功能 (C)使用取代功能 (D)利用填滿控點複製儲存格格式
44. () 在儲存格 A3 中輸入"1"後，按住 Ctrl 鍵不放，再拉曳填滿控點至儲存格 A1，則儲存格 A1 會顯示下列哪一個資料？(此操作向右向下為遞增)(A)A3 (B)0 (C)1 (D)-1
45. () 下列何者不是在 Excel 中選擇多個儲存格 (cell) 的方式？(A)以滑鼠拖曳選擇儲存格 (B)先點選一儲存格，按住 Alt 鍵再點選其他儲存格 (C)先點選一儲存格，按住 Ctrl 鍵再點選其他儲存格 (D)先點選一儲存格，按住 Shift 鍵再點選其他儲存格
46. () 在工作表名稱上按右鍵，選按下列哪一個選項，可以更改工作表的標籤色彩？(A)插入 (B)重新命名 (C)索引標籤色彩 (D)移動或複製
47. () 在 Excel 中相鄰儲存格範圍 A2:B3 及 B2:C4，扣除重複的部分，共有多少個儲存格？(A)4 (B)6 (C)10 (D)8
48. () 若在 Excel 工作表中插入一列空白列，原選定列的資料會往哪一個方向移動？(A)向左 (B)向右 (C)向上 (D)向下
49. () 在 Microsoft Excel 中，以下何者為正確的儲存格名稱？(A)F123 (B)1B2 (C)456 (D)BCD
50. () 下列何者不是常見的電子試算表軟體？(A)Calc (B)Numbers (C)Excel (D)Writer