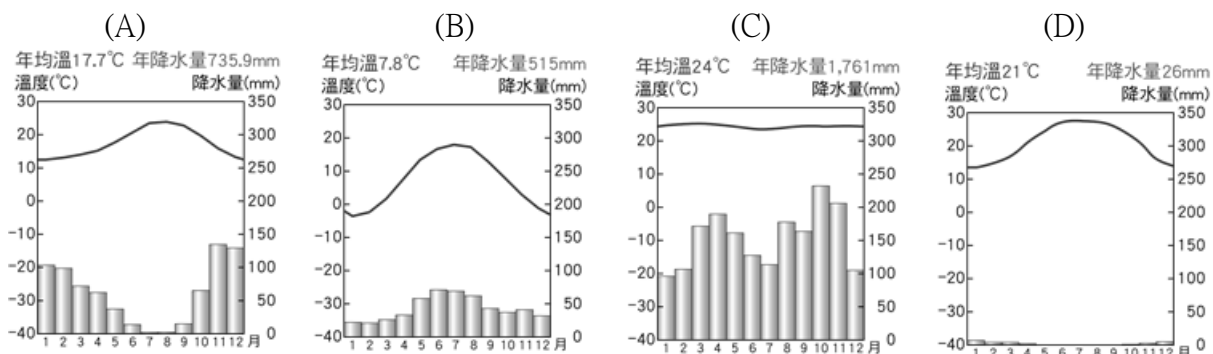


◎本試卷共 (2) 頁

※請將正確答案用 2B 鉛筆畫在答案卡上

1. () 某部落的主要維生方式如下：「焚燒草木以闢地耕種，將灰燼充作肥料以利作物生長，待地力用盡則另遷他處耕種。」該部落分布地區的氣候圖最接近下列何者？【習作】



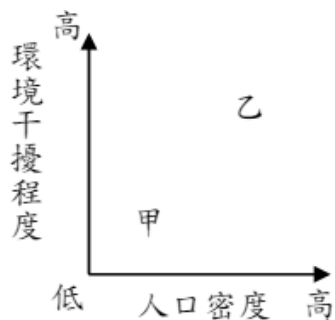
2. () 四位同學地理課時上臺報告漠南非洲大部分地區的人口特徵，哪一位的敘述最符合事實？
 (A)小乖：出生率低，死亡率高 (B)小惠：貧窮人口的比例較高 (C)龍龍：勞動人力嚴重不足 (D)阿肥：移入率大於移出率。【習作】
3. () 下圖為公平貿易標章，圖樣呈現了一個人在藍天綠地中，揮手歡呼的意象。目前有一些組織積極的推動公平貿易，主要是想要幫助非洲農民解決下列哪一項問題？
 (A)農業收入微薄 (B)飲用水不清潔 (C)電力設備不足 (D)糧食作物不足。【習作】



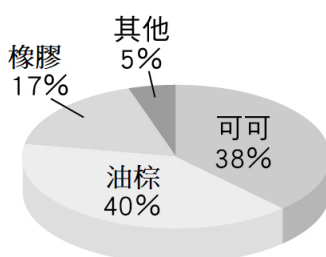
4. () 電影「血鑽石」的場景即位在飽受內戰及社會動亂之苦的西非獅子山共和國，故事中兩位主角為爭奪稀有的粉紅鑽石揭開一段悲劇故事。請問此種引起覬覦的鑽石礦與當地何種自然特性最有關係？
 (A)多地殼變動 (B)侵蝕作用強烈 (C)岩層排列整齊 (D)古老結晶陸塊。
5. () 下表為四個國家的人口資料，根據表中資料顯示，何者「最有可能」是台灣在非洲地區唯一邦交國—史瓦帝尼 (原『史瓦濟蘭』)的人口資料？ (A)甲 (B)乙 (C)丙 (D)丁。

	甲	乙	丙	丁
出生率(‰)	27	12	5	7
死亡率(‰)	20	10	8	8
人口成長率(‰)	10	5	-1	-2
平均壽命(歲)	57	71	82	78

6. () 漠南非洲居民因應自然環境差異，發展出多樣的傳統維生方式。請問：下圖甲、乙分別代表何種產業活動？
 (A)甲：採集，乙：游耕 (B)甲：游耕，乙：熱帶栽培業 (C)甲：游牧，乙：狩獵 (D)甲：熱帶栽培業，乙：採集。



7. () 下圖是非洲某一國家的主要作物生產示意圖，這些農產品也是該國對外貿易輸出的主力商品。請問：這國家會有何種經濟發展的特徵？
 (A)國民所得較高 (B)國家經濟穩定度高 (C)糧食作物進口量大 (D)高科技工業發達。



8. () 下圖為非洲甲地至乙地的天然植物變化，甲、乙兩地最有可能為下列那一氣候類型？

- (A)甲：熱帶雨林，乙：熱帶沙漠
 (B)甲：熱帶雨林，乙：熱帶莽原
 (C)甲：熱帶莽原，乙：熱帶沙漠
 (D)甲：熱帶沙漠，乙：熱帶雨林。

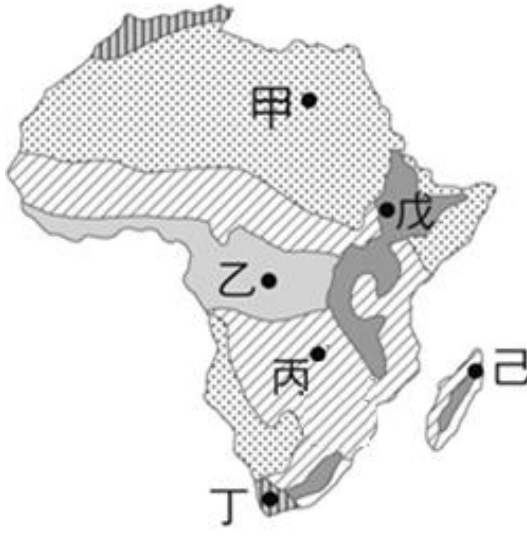


9. () 右圖位於西北非的西撒哈拉地區曾是西班牙的殖民地，原計畫舉行獨立公投，卻因摩洛哥認為西撒哈拉為其領土，反對公投並占領多數地區，自此衝突頻仍。請問：此地國界多呈直角或直線是受到哪一因素影響？

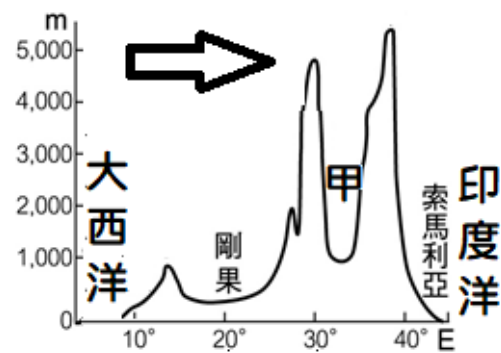
- (A)平原地形為主且海岸線平直
 (B)殖民母國發展殖民地式經濟
 (C)殖民者以經緯線劃分勢力範圍
 (D)撒哈拉沙漠阻隔而產生文化差異。



圖(一)



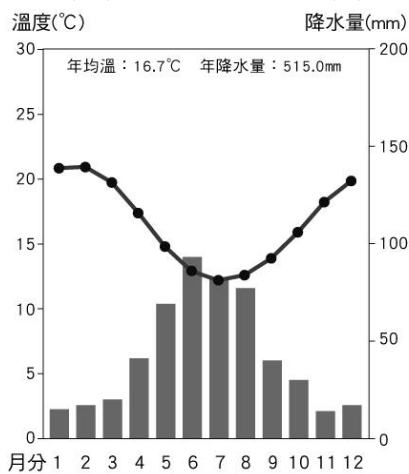
圖(二)



圖(三)

10. () 圖(一)為一幅某種地理現象的分布圖。圖中每個國家面積的大小，代表該現象數值的多少。該現象最可能為下列何者？ (A)年降水量 (B)每人平均所得 (C)國家人口總數 (D)愛滋病感染人數。

11. () 下圖為非洲某地的氣候圖。請問：此特徵應在圖(二)中何地出現？ (A)甲 (B)乙 (C)丙 (D)丁。



12. () 根據世界自然保護聯盟的數據，2022年非洲大陸有550多頭犀牛被盜獵者屠殺。引起國際動保團體大聲呼籲正視草原野生動物的生存權。請問：要逮捕這些盜獵者警方最主要應從圖(二)何地圍捕？

- (A)甲 (B)乙 (C)丙 (D)丁。

13. () 南非是世界第七大葡萄酒生產國，生產的葡萄酒約佔全球的4%。請問：圖(二)中何處是酒莊集中處？

- (A)甲 (B)丙 (C)丁 (D)戊。

14. () 圖(三)為非洲沿赤道附近的地形剖面圖。請問：圖中『甲』地形的形成與下列何者最有關係？

- (A)河流堆積 (B)雨水溶蝕 (C)冰河侵蝕 (D)斷層陷落。

15. () 請問圖(三)的方向標應標示為何？

- (A)東 (B)西 (C)南 (D)北。

高雄市立 林園高級中學 國中部 112 學年度 第 2 學期 二年級 第 3 次段考 (地理科) 答案卷

班級：

姓名：

座號：

1-5	CBADA	6-10	BCACD
11-15	DCCDA	16-20	
21-25		26-30	
31-35		36-40	
41-45		46-50	