

高雄市立大樹國民中學 109 學年度第一學期地理科八年級第二次段考試題卷

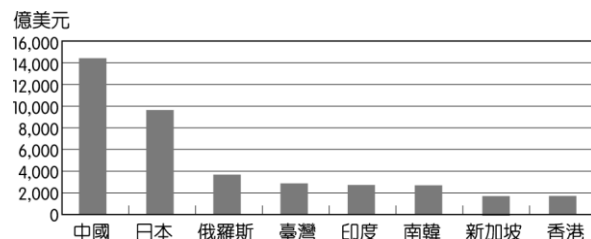
八年\_\_\_\_班 座號\_\_\_\_ 姓名\_\_\_\_\_

一、單選題(1-30 題，每題 3 分)

- ( )重慶、武漢及上海分別為長江上游至下游的重要都市，這三個長江沿岸都市中，所屬的經濟帶產值由高到低排列，下列何者正確？  
(A)東部上海>中部武漢>西部重慶 (B)西部重慶>中部武漢>東部上海 (C)東部上海>西部重慶>中部武漢 (D)西部重慶>東部上海>中部武漢。
- ( )無人機的應用很廣泛，在河北省的農夫，使用無人機噴灑農藥，顯示下列何種農業特色？  
(A)專業化 (B)生態化 (C)科技化 (D)商品化。
- ( )目前中國的公路系統正不斷的擴張，其分布情形對於下列哪一種人文活動影響最大？  
(A)經濟發展 (B)觀光發展 (C)教育程度 (D)人口擴張。
- ( )中國最大乳製品企業「伊利酸奶」由於贊助許多歌唱節目，因此逐漸在中國國內闖出名號，成為眾所皆知的乳品。請問：伊利酸奶為了確保大量乳製品原料的來源，最可能和圖中哪一個地區的畜牧業者合作？  
(A)甲 (B)乙 (C)丙 (D)丁。
- ( )近年來中國持續進行經濟改革開放政策，如果某臺商想到中國東南沿海的經濟特區設置紡織工廠，其考慮的主要區位條件最可能為何？  
(A)原料 (B)動力 (C)勞工 (D)能源。
- ( )中國近年來經濟發展相當快速，其中做為經濟改革的先驅，是位於附圖中哪一個地區的開發？  
(A)甲 (B)乙 (C)丙 (D)丁。
- ( )中國一帶一路政策中的「一路」，是指與明帝國鄭和出使西洋的哪一條路？  
(A)陸上絲路 (B)海上絲綢之路 (C)空中絲路 (D)網路絲路。
- ( )目前中國人口數約有 14 億人，高居世界第一。請問：人口數眾多對中國經濟活動的影響有哪些？(甲)勞工眾多(乙)市場廣大(丙)原料豐富(丁)技術進步  
(A)甲乙 (B)丙丁 (C)甲丁 (D)乙丙。
- ( )臺灣這幾年在中國投資設廠，以電子裝配、紡織等工業為大宗。就上述產業而言，臺商投資設廠最主要的考量因素是什麼？  
(A)資金 (B)勞工 (C)技術 (D)市場。
- ( )中國的人口分布受到戶籍制度的限制影響，因此在附圖中哪一個地區可能聚集最多的移動人口，由於沒有該戶籍因此無法獲得相關的社會福利，造成其生活上的問題？  
(A)甲 (B)乙 (C)丙 (D)丁。
- ( )中國從 2010 年以來便取代日本成為世界第二大經濟體，目前僅次於美國，然而發達的經濟活動卻造成了東西兩側的區域發展不均，形成未來的隱憂。請問：造成上述這種現象的主要原因為何？  
(A)對外交通 (B)地形高低 (C)人口素質 (D)礦產分布。
- ( )「中國深圳因民工眾多，有業者看準這股商機，推出一種用貨櫃做成的廉價旅館，住宿一個晚上的費用不到新臺幣 30 元，儘管如此，仍有許多在內陸地區找不到工作而流浪至此打工的人，負擔不起這筆費用。」上述情況可能與下列哪一中國社會現象的關係最密切？  
(A)人口數量過多 (B)通貨膨脹嚴重 (C)區域發展不均 (D)勞工成本上漲。
- ( )近年來，中國許多內陸的民工不願再到沿海地區工作，反而留在家鄉就業，使沿海地區爆發嚴重的「缺工潮」，沿海工廠只好不斷放寬條件限制，或以其他誘因來吸引員工。下列何者最可能是造成上述缺工潮的原因？  
(A)沿海地區的工廠外移 (B)內陸地區的物價高漲 (C)沿海地區薪資所得降低 (D)內陸地區就業機會增加。




14. ( ) 附圖為某年全球前八大外匯存底國家的資料，中國之所以高居榜首，且遠勝過第二位的日本達 4,000 億美元以上，這與中國在 1980 年代實施的哪一項經濟政策最為相關？  
 (A) 計畫經濟 (B) 一帶一路 (C) 西部大開發 (D) 設立經濟特區。



15. ( ) 中國改革開放後，目前國內生產毛額大幅提高，但每人平均生產值仍偏低，2016 年僅排名世界第 74 名。形成這種現象的主要因素為何？  
 (A) 人口眾多 (B) 政策管制 (C) 資源缺乏 (D) 資金不足。

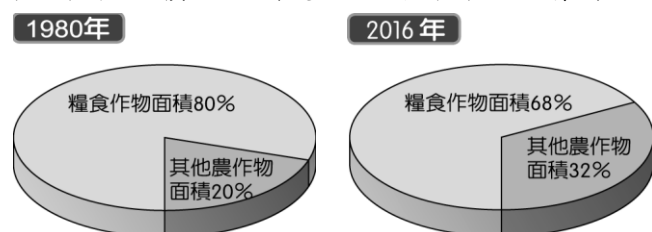
16. ( ) 附圖是位於長江下游的經濟重鎮，高樓大廈聳立反映其產業活動相當發達，該地曾因開埠以後，隨著租界建立和歐美文化大舉進入，開始興建西式別墅和洋房，出現各種不同風格的建築。請問：上文中所提到的「經濟重鎮」為何？  
 (A) 北京 (B) 上海 (C) 廣州 (D) 深圳。



17. ( ) 中國近年來經濟發展相當快速，因此設立喀什經濟特區，其地理位置向有「五口通八國，一路連歐亞」的優越條件，相當有利於發展邊境貿易。請問：該經濟特區位於附圖中何處？  
 (A) 甲 (B) 乙 (C) 丙 (D) 丁。



18. ( ) 「穹頂之下」是 2015 年 2 月中國媒體人—柴靜女士，指出關於中國嚴重空氣污染的調查片。請問：中國東北、華北平原地區的空氣污染，可能和當地發展下列何種產業有關？  
 (A) 食品加工業 (B) 鋼鐵工業 (C) 紡織工業 (D) 高科技產業。
19. ( ) 臺灣的電子業多以臺灣為生產基地，然後將產品運送至中國進行組裝，最後對外銷售。請問：臺灣電子業會進行上述分工，主要是由於中國具有哪一區位條件？  
 (A) 技術進步 (B) 工資低廉 (C) 土地寬廣 (D) 資金充裕。
20. ( ) 中國在經濟發展上的表現，以西部地區的發展最慢。其實，西部的發展深具潛力，但西部開發的優勢不包括下列哪一項條件？  
 (A) 林、礦資源豐富 (B) 鄰國眾多，利於邊境貿易 (C) 鐵路串連成新絲路，是中國距歐洲最近的地區 (D) 高科技人才眾多，技術領先全國。
21. ( ) 中國糧食作物種植面積的比例變化如附圖所示。請問：造成比例變化的最主要原因為下列何者？



- (A) 市場需求 (B) 氣候變遷 (C) 產量減少 (D) 國外進口。
22. ( ) 中國從 2008 年開通第一條高速鐵路，至 2016 年總營運里程共 2 萬公里，其中時速達 300 公里的路線超過 1 萬公里以上，占了全世界的 60%，中國高鐵在短短幾年間，已成為世界最大規模的高鐵網。請問：造成中國高鐵分布東部較西部密集的現象與下列哪一因素較不相關？  
 (A) 地形平坦 (B) 人口密集 (C) 礦產豐富 (D) 工商繁榮。



23. ( ) 臺灣的服務業遠近馳名，近年來紛紛前往中國投資設立據點，如 85°C 及王品集團等。這是由於臺灣服務業看準了中國經濟發展上的哪一項特點？  
 (A) 市場廣大 (B) 工資低廉 (C) 交通便利 (D) 技術進步。

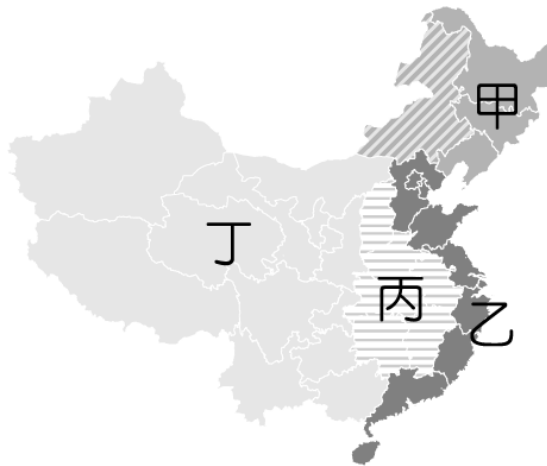
24. ( ) 中國提出的「一帶一路」經濟建設計畫規模相當龐大，希望藉由交通發展串聯周圍國家，讓中國成為該地區的經濟火車頭，該計畫路線圖如附圖所示，其沿線國家多數具有下列何項特質？  
 (A) 技術進步 (B) 資金充足 (C) 資源豐富 (D) 宗教相同。



25. ( ) 中國自 1980 年代實施經濟改革開放以後，市場需求出現改變，導致農作物的生產出現下列哪一種變化？  
 (A) 經濟作物改種糧食作物 (B) 溫帶作物改種熱帶作物 (C) 作物進口改為作物出口 (D) 糧食作物改種園藝作物。
26. ( ) 中國由於勞動力相當充足，因此在經濟發展之初帶動了工業發展，成為世界重要的經濟大國，工商業成為重要的產業活動。然而為了提供中國龐大的人口數量，農業活動也進行了相關改良。請問：上述的農業改良應為下列何者？  
 (A) 農田耕作面積變多 (B) 農業就業人數上升 (C) 農作出口數量上升 (D) 單位面積產量增加。
27. ( ) 美國搜索引擎龍頭 Google 在闖別中國兩年後，2012 年宣布重返中國市場，並加大投資規模，該公司執行長承認：「公司無法承擔缺席中國廣大市場所帶來的損失。」請問：中國市場廣大和下列何者的關係最大？  
 (A) 國內礦產豐富 (B) 土地面積廣大 (C) 高額國民所得 (D) 人口總數眾多。
28. ( ) 中國的農業活動具備了下列哪一項條件，因此在今日工商業快速發展的過程中，仍為中國境內重要的基礎產業？  
 (A) 工業原料 (B) 出口產品 (C) 糧食供應 (D) 環境保育。
29. ( ) 中國的人口數約占全世界五分之一，最早期在 1954 年的調查約 6 億多人，今日已達 14 億人，影響中國的社會發展甚鉅。下列為目前中國所存在的人口問題，其中哪一項受到經濟改革開放的影響最為明顯？  
 (A) 男女性別比例懸殊 (B) 教育水準低落 (C) 城鄉流動快速 (D) 老年比例漸增。
30. ( ) 目前中國正積極全面性的發展經濟，希望帶動各地工商業活動。為達成相關產業的全面發展及擴散，減少區域差異，則以下列何者措施最為重要？  
 (A) 興建交通運輸 (B) 引進國際移工 (C) 農業強制轉為工商業 (D) 推廣農民移居大城市。

## 二、題組(31-35 題，每題 2 分)

◎中國的經濟發展由改革開放政策揭開序幕，然而由於各地發展的時間及條件各異，形成不同的發展差異。下列為該國主要四大經濟區分布圖。請問：



31. ( ) 圖中哪一個區域工業發展較早，但卻隨著時間的變化而由盛轉衰，因此目前的發展方向為協助該地區轉型，以振興當地的工業活動為主？  
 (A) 甲 (B) 乙 (C) 丙 (D) 丁。
32. ( ) 圖中哪一個地區因對外交通不便，經濟發展腳步較緩慢？  
 (A) 甲 (B) 乙 (C) 丙 (D) 丁。
33. ( ) 圖中丙地區近年來具備下列何者有利條件，因此吸引東部的工廠遷移至此，成為未來發展潛力最被看好的地區，有利當地的經濟崛起？  
 (A) 原料豐富 (B) 市場廣大 (C) 工資較低 (D) 技術進步。
- ◎中國在 1980 年代改革開放後，經濟發展相當快速，境內的工業產值在 2012 年正式超過世界龍頭——美國，以 3.7 萬億美元高居世界第一，請問：
34. ( ) 目前該國的工業發展依地區特性而有不同，北部以重工業為主，南部則多從事輕工業。請問：主要原因為下列何者？  
 (A) 交通 (B) 原料 (C) 勞工 (D) 市場。
35. ( ) 中國西部地區由於何項條件的影響，未能在改革開放時發展工商業活動，因此形成今日東、西部之間的經濟發展差距甚大？  
 (A) 勞力不足 (B) 面積狹小 (C) 缺乏礦產 (D) 交通不便。

~~~~~試題結束~~~~~