

高雄市立大樹國民中學 108 學年度第二學期公民科七年級第 3 次段考試題卷

七年 班 座號 姓名

\* 除電腦答案卡外，一律不准使用鉛筆作答，請用藍或黑色筆作答，違者該題不予計分。

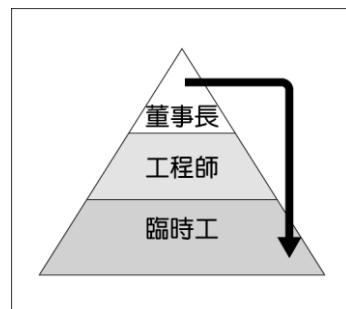
一、單選題：(1-30 題：每題 3 分/31 題：每題 2 分，共 92 分)

- ( ) 根據教育部的統計數據，幼兒園專任教師約 243 萬人，其中女性約占總數的 97.8%，可知男性在專任教師中的比例不足 3%。大部分民眾認為：「因為女生較細心，比起男生更適合照顧小孩。」而某位幼兒園園長則表示：「面試時考量的是專業而非性別。」請問：閱讀完上述內容，下列何者的解讀正確？ (A) 社會排擠弱勢族群 (B) 性別角色仍受傳統觀念影響 (C) 園長的行為構成性別歧視 (D) 政府保障女性工作權。
- ( ) 《做工的人》是臺灣的工地工程師兼作家林立青撰寫的散文集，書中有一篇章名為〈臺灣媳婦〉，描述陸籍新住民與丈夫在工地工作時飽受歧視。例如工地警衛刻意使用臺語，捉弄她聽不懂，但其實她明白其中的嘲笑、惡意，但為求溫飽只能裝傻。請問：上述內容反映出下列社會中哪一方面的不公平？ (A) 貢獻程度 (B) 需求滿足 (C) 責任負擔 (D) 利益分配。
- ( ) 日本新天皇德仁在 2019 年 5 月 1 日即位，根據 1889 年訂下的《皇室典範》，皇位僅能由男性繼承。由於新天皇僅育有一女，因此是否需要修法讓女性也能繼承皇位引發民眾討論。請問：皇位限制女性不得繼承，對社會公平正義方面，顯現出哪一方面的不公平現象？ (A) 利益分配 (B) 貢獻程度 (C) 責任負擔 (D) 需求滿足。
- ( ) 臺灣新住民子女人數已超過 40 萬人，財團法人臺北市賽珍珠基金會為認養扶助跨國婚姻子女的社福組織，至今已陪伴千餘名經濟弱勢新住民子女成長。請問：該基金會在協助改善社會中哪一方面的不公平？ (A) 需求滿足 (B) 貢獻程度 (C) 責任負擔 (D) 利益分配。
- ( ) 附表為主計總處公布 2018 年家庭收支調查，最高所得家庭可支配的所得比最低所得家庭高出約 6 倍，創下近六年新高。此反映出下列社會中那一方面的不公平？

	前 20% 所得家庭	最低 20% 所得家庭
可支配的所得	209.9 萬元	34.5 萬元

(A) 需求滿足 (B) 貢獻程度 (C) 責任負擔 (D) 利益分配。

- ( ) 老師於黑板上畫出附圖，請同學判斷屬於下列何種現象？(A) 社會流動 (B) 社會團體 (C) 社會正義 (D) 社會規範。
- ( ) 電影產業長年存在性別失衡、種族問題，已成立超過 100 年的美國電影製作公司華納兄弟，於 2018 年宣布將為婦女、有色種族、身心障礙者，以及代表性不足的群體，提供更多幕前幕後的保障名額，確保有多元化的演員、工作人員參與，促進娛樂產業的多元共融。



請問：上述華納兄弟公司的作為與下列何項敘述無關？ (A) 改善社會不公平現象 (B) 提供改善社會地位的機會與途徑 (C) 鞏固既有的社會地位 (D) 打造友善的就業環境。

- ( ) 可菲於網站上看到的資訊如附圖，請問：這是哪一種推動改善社會不公平現象的力量？(A) 政府單位 (B) 民間團體 (C) 個人努力 (D) 國際社會。
- ( ) 衣索比亞總理阿邁德，從小在貧窮村莊長大，他回憶「過去是從河裡取水，13 歲前從未見過電力或柏油路。」對於科技有興趣的他，於青少年時加入軍隊，擔任無線電操作員，升任中校後進入政府，擔任要員。由於他上任後積極解決邊境衝突，於 2019 年獲頒諾貝爾和平獎。根據題目判斷下列關於阿邁德的敘述何者為真？ (A) 他長大因財富而擁有高社會地位 (B) 雖從小資源缺乏，但仍有改變社會地位的機會 (C) 成為總理代表他的社會地位由上而下移動 (D) 獲得諾貝爾獎是因他天生具備較多優勢。

**性別平等創意海報徵件比賽**

主題：破除性別刻板印象  
 參加資格：就讀公私立學校之在學學生、收件日期12月31日止  
 主辦單位：行政院性別平等處



自1979年伊斯蘭革命後，伊朗神職人員以保護為由，認為女性不能感染現場陽剛氣氛，或目睹男性衣衫不整，因此被禁止進場觀看。然而在國際足球總會以及女權提倡者施壓下，在40年後首次開放女性觀眾進入體育場觀賽。

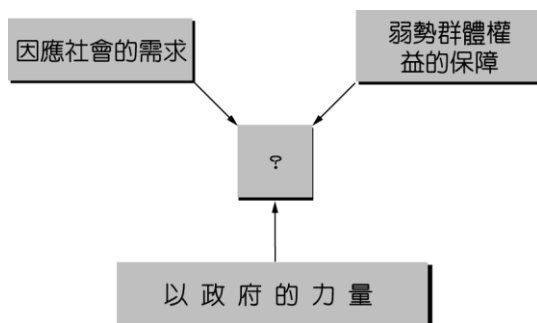
10. ( ) 根據附圖新聞報導的內容判斷，下列敘述何者正確？(A) 伊朗女性的社會地位已全面提升 (B) 伊朗男性遭受到性別歧視 (C) 伊朗女性取得資源的能力與機會較男性多 (D) 伊朗男性有較多的權勢與資源。
11. ( ) 大衛週末看了一部印度電影《我和我的冠軍女兒》，內容描述一位父親打破傳統刻板印象，訓練女兒成為角力選手的故事。他告訴吉塔：「如果妳成功拿到金牌，不只是妳的成功，而是印度女性的成功，因為未來會有無數女孩因為妳的成功而改變她們的人生，她們會知道人生不是只有一條已被社會指定的路可走。」最終，吉塔寫下了運動女子角力賽事的紀錄，成功奪得金牌。請問：大衛對於這部電影的解讀何者正確？ (A) 努力用功讀書有機會改變社會地位 (B) 印度社會存在嚴重的貧富差距 (C) 拿到金牌社會地位才能向上流動 (D) 個人的努力可以協助改善自身社會地位。
12. ( ) 教育部公布統計數據，107 學年高中以下偏遠地區學校核定校數共有 1168 所，為提升偏鄉教育品質，均衡城鄉學校教育資源，108 年度國教署投入 22.48 億元，109 年投入約 22.6 億元，挹注偏遠地區學校設施設備、學生多元試探及教師專業發展等項目，以穩定偏遠地區師資和提升教學品質。請問：針對偏鄉學校增加補助，以改善學校教育品質的做法，符合哪一原則的內涵？ (A) 機會均等原則 (B) 差異原則 (C) 自由原則 (D) 負擔能力原則。
13. ( ) 美國政治哲學家羅爾斯提出「社會正義」的觀念，以減少不公平的現象。關於羅爾斯的觀點，下列敘述何者有誤？ (A) 對不同面向的弱勢群體提供一樣的照顧 (B) 每個人都應該享有基本的自由與權利 (C) 確保每個人都有公平的機會取得資源 (D) 給予弱勢的人擁有合理的差別待遇。
14. ( ) 美國政治哲學家羅爾斯主張「公平即正義」，若要達成公平正義，其原則不包括下列何者？ (A) 自由原則 (B) 機會均等原則 (C) 差異原則 (D) 普遍原則



15. ( ) 公民課時分組討論追求公平正義的社會所應有的做法，下列哪一組的回答最為正確？

選項	組別	回答內容
(A)	第一組	參與淨灘活動，回饋社會
(B)	第二組	民眾捐款給慈善單位，盡一分心力
(C)	第三組	政府制定有助於財團的法律
(D)	第四組	向身心障礙者假借人頭戶開樂透彩券行

16. ( ) 工業革命後，貧富差距擴大，社會大眾逐漸意識到社會問題無法僅靠個人、家庭的力量解決，應由國家介入處理，國家處理的方式不包括下列哪一項？ (A) 建立社會互助機制 (B) 驅逐弱勢實現富強 (C) 運用公權力分配公共資源 (D) 提供適當的金錢與服務。
17. ( ) 附圖是小嵐研究報告的架構圖，根據圖中資料顯示，她研究的議題可能是下列何者？



- (A) 社會變遷 (B) 社會運動 (C) 社會互動 (D) 社會安全。

18. ( )關於社會安全的觀念與發展，下列哪一個同學的報告內容最正確？

(A) 社會安全成為國家的制度或政策，是由東方國家開始發展起來的。



(B) 幸福是與他人共享得來的，因此文化傳承是社會安全思維的基礎。



(C) 工業革命前，社會安全制度主要是由鄰里、富人或宗教團體提供施捨與救濟。



(D) 社會安全的目的是為了保障富人的權益，同時改善窮人的生活。



19. ( )「社會安全」制度的建立是希望人民能夠普遍擁有基本生活的保障，此可由下列哪一項政府施行的措施加以理解？

(A) 文化部推動文化體驗教育，希望擴展學校藝文教育的內容 (B) 國防部編列軍事預算穩定成長，強化戰力以維護國家安全 (C) 行政院成立專案小組協助震災區居民，辦理災後救助工作 (D) 地方政府爭取主辦國際賽事，期能進行體育人才互動交流。

20. ( )人性尊嚴的意義是指每一個人都是自主、自決的獨立個體，都是具體存在並且具有意義的生命，它是《憲法》上最高價值，而《憲法》中各項基本權利便是人性尊嚴之具體化，以保障人的最基本生活需求為目的。請問：下列關於社會安全與人性尊嚴的關聯，何者解釋最正確？ (A) 社會安全制度是為了建構符合人性尊嚴的生活 (B) 重視人性尊嚴價值不利於社會安全的具體實踐 (C) 社會安全制度須犧牲《憲法》保障的基本權利 (D) 人民所有的權利都已經包含在社會安全範疇內。

21. ( )行政院院長拍板定案基本工資調漲方案，自 2020 年起基本工資上漲至 23,800 元，四位同學正在討論這則新聞的立法用意，哪位同學的想法最接近我國提高基本工資建構社會安全制度的概念？ (A) 小喜：調漲基本工資無助於增進勞工福祉 (B) 小新：基本工資是要保障工作能力不足者 (C) 小彥：基本工資是照顧勞工最低生活水準 (D) 小九：提高工資對勞資與社會是有害的。

22. ( )我國《憲法》規定對於老弱殘廢，無力生活，及受非常災患者，國家應予以適當之扶助與救濟，制定《社會救助法》由國家編列預算提供救助，使其能夠維持基本生活。請問：下列何者是此法律幫助的對象？ (A) 遊艇遭竊的老闆 (B) 經濟困難的低收入戶 (C) 被家暴的新移民 (D) 受陸客限縮影響的餐廳。

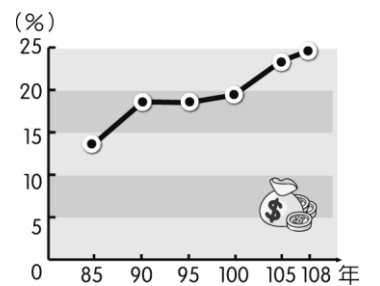
23. ( )下列何者不是我國目前社會安全制度下推動保障工作權的範疇？ (A) 政府設置就業服務中心，提供就業諮詢等業務 (B) 設置職訓中心，提供職業訓練 (C) 青年人與銀髮族試辦青銀共居的長照政策 (D) 勞工失業時，提供失業給付以維持其基本生活。

24. ( )國家基於維護人性尊嚴，使人民可以選擇理想的生活方式和職業，除了在社會中自由的發展，還享有國家提供之基本生活水準的保障。請問：為體現上述社會安全制度，我國訂有法律保障人民權益，而下列何者為非？

(A) 《社會救助法》 (B) 《勞動基準法》 (C) 《就業保險法》 (D) 《菸害防制法》。

25. ( )附圖為我國歷年來社會福利占中央政府支出比例，由此圖推斷，以下何項敘述正確？

(A) 108 年的社會福利支出接近總支出的 1/4 (B) 民眾浪費公共資源導致社會福利支出大幅增加 (C) 高齡人口使用社會福利服務的比例為全國最高 (D) 大約有 13% 的人口數未能享受社會福利服務。

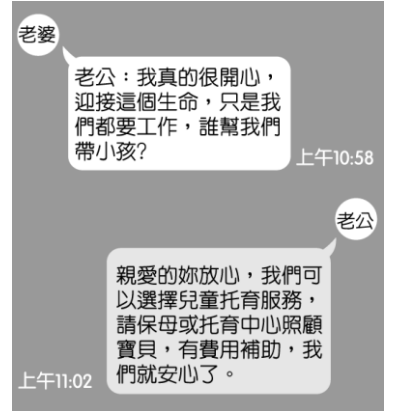


26. ( )我國有各種社會福利措施，針對不同的對象給予不同的照顧與支持，下列對應何者正確？

(A) 身障者——需要托育或課後照顧服務 (B) 少年——需要年金保險制度 (C) 新住民——設置無障礙空間 (D) 老年——關懷訪視服務。

27. ( )我國提供多元社會福利服務，以滿足民眾在社會、經濟、健康等方面的需求，但現實也面臨一些問題的發生，下列何者屬之？ (A) 高齡化造成預算增加，迫使政府放棄提供老人照護資源 (B) 少子化導致兒童人口大幅減少，福利措施並無設置必要 (C) 許多人將社會福利視為免費，可能造成公共資源的浪費 (D) 國內民眾福利意識低落，服務措施大多被外籍人士佔用。

28. ( )附圖是一對夫妻在手機上的心情對話。請問：兩人對話內容，先生所提及的社會福利政策應與哪一項法律有關？(A)《兒童及少年福利與權益保障法》 (B)《老人福利法》 (C)《勞動基準法》 (D)《社會救助法》。



29. ( )家中四姊妹正為了如何照顧年老長期失能的母親召開家庭會議，根據我國老人福利政策實施現況，下列哪一位的說明完全正確？(A)大姐：政府單位會全面承擔照顧老人的責任 (B)二姐：相關政策都規定在《社會救助法》中 (C)三姐：可依需求向政府申請日間照顧的服務 (D)小妹：鼓勵失能老人進入職場工作延緩失能。

30. ( )某基金會幫助一群身心障礙的孩子，早上由老師帶領從基隆郊外工廠搭車到臺北車頭叫賣，過程中製作、包裝與販賣是要訓練他們肢體靈敏度，獲得人際自信，使他們可以勇敢面對社會自力更生，又幫助家庭經濟。請問：基金會老師的作法相對於政府的措施作為，下列哪一選項較類似？(A)提供生活補助以保障經濟安全 (B)依其個別需求提供保健醫療服務 (C)提供特殊教育以維護其受教育之權益 (D)依其就業意願及就業能力提供職業訓練。

31. ( )驥韻想瞭解我國社會福利制度的推行現況，他決定參加一些活動來收集資料，以下何者符合他的需要？

(A) =====防疫措施=====  
實務工作與交流研討會

(B) =====新住民座談=====  
就業權益保障與生活輔導

(C) =====軍事論壇=====  
國造潛艦之國防實力論述

(D) =====雙語教育=====  
國家政策發展藍圖說明會

## 二、題組：(32-35 題：每題 2 分，共 8 分)

(一)假設有機會參與設計一個社會的基本結構，包括政治體制、法律、教育、稅制、社會制度等等，你在設計時會考量什麼？舉例來說，假如你知道自己會作為男性生存在社會中，那麼在理性自私的考慮下，你會設計一個對男性有利的社會。所以羅爾斯認為，應該讓那些設計社會制度的人處於「無知之幕」後面，把自己的「有知」排除，每個人並不知道其自身的特質與身分地位，才不會圖利自己，如此能做出公平的決策與制度。

32. ( )羅爾斯認為「無知之幕」存在的目的為何？(A)消除性別歧視 (B)改善社會地位 (C)增進個人利益 (D)追求公平正義。

33. ( )下列何項政策最有可能是採用羅爾斯的理念來設計的？(A)垃圾費隨袋徵收 (B)身心障礙者專用停車格 (C)立委選舉限制女性參選 (D)提供低收入戶豪宅居住。

(二)勞動部公布 2019 年同酬日為 2 月 23 日，等於女性需要比男性多工作 54 天，才能獲得相同年薪。「同酬日」是指平均男性一整年的薪資，女性須額外再工作幾天，才能賺取到跟男性相同的薪資，其凸顯出男女薪資差距大的問題。勞動部表示，平均薪資不僅因性別影響，在工作性質、年資、學經歷、工作績效等因素皆有差異，每年透過發布同酬日，喚起兩性同酬的公共意識，也呼籲各界共同為縮小男女薪資差距而努力。

34. ( )為改善上文中不公平現象，下列何種做法最可行？(A)全面提升女性的工作能力 (B)修法強制女性不用加班 (C)政府制定相關政策與法律協助改善 (D)公益團體募款贊助。

35. ( )政府制定哪一法律，給予不同性別者在職場上有公平的機會與合理的待遇？

(A)《性別平等教育法》 (B)《性騷擾防治法》 (C)《勞動基準法》 (D)《性別工作平等法》。

試題結束，共 4 頁