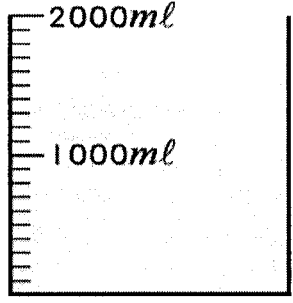


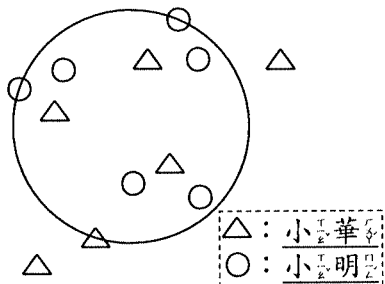
一、選擇題：每題 2 分，共 10 分

- ( ) 有一個正方形的邊長和一個正三角形的邊長一樣長，哪一個圖形的周長比較長？  
① 正三角形 ② 正方形 ③ 一樣長 ④ 無法比較。
- ( ) 下面的容器中裝了多少水？  

  
① 1 公升 6 毫升 ② 1 公升 500 毫升  
③ 1 公升 600 毫升 ④ 1650 毫升。
- ( )  $806 \times 5$  的積會有幾個 0？ ① 3 個 ② 2 個  
③ 1 個 ④ 5 個。
- ( ) 木棍長 35 公分，竹竿長是木棍長的 4 倍，電線杆長是木棍長的 5 倍，木棍、竹竿和電線杆合起來的長度是幾公分？ ① 35 公分 ② 140 公分 ③ 315 公分 ④ 350 公分。
- ( )  $998 - \square = 402$ ， $\square$  中的數大約是 ① 600  
② 900 ③ 500 ④ 700。

二、填填看：每格 1 分，共 23 分

- 9000 毫升 = ( ) 公升
- 1865 毫升 = ( ) 公升 ( ) 毫升
- 6 公升 80 毫升 = ( ) 毫升
- 3176 毫升 = ( ) 公升 ( ) 毫升
- 5 公升 = ( ) 毫升
- $9009ml = ( ) l ( ) ml$
- 4 公升 705 毫升 = ( ) 毫升
- 8 公升 8 毫升 = ( ) 毫升
- 3 公升 200 毫升 = ( ) 毫升
- $2097 毫升 = ( ) 公升 ( ) 毫升$
- $6l15 ml - 2l800 ml$   
= ( )  $ml - ( ) ml$   
= ( )  $ml$   
= ( )  $l ( ) ml$

12. 小華和小明玩丟沙包遊戲。



- (1) 小華丟在圖形內部的沙包有 ( ) 個，在圖形周界上的有 ( ) 個，圖形外部的有 ( ) 個。
- (2) 小明丟在圖形內部的沙包有 ( ) 個。

三、填入 >、< 或 =：每格 2 分，共 10 分

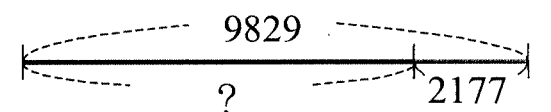
- 2 公升  $\square$  11 公升
- $753ml \square 7l$
- $7005ml \square 7l 20ml$
- 3 公升 400 毫升  $\square$  4030 毫升
- 6900 毫升 ( ) 6 公升 90 毫升

四、圈圈看：每題 1 分，共 5 分

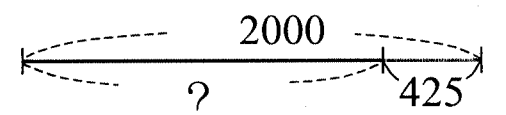
- 誠澤家的單人浴缸容量大約是 (12 公升，120 公升)。
- 哪個數最接近正確答案？圈圈看。  
 $597 - 101$   
( 300      400      500 )
- 子恩存了 403 元，想要買一個 899 元的禮物送給媽媽，大概還要再存多少元才夠？  
( 400 元， 500 元， 600 元 )
- 1 瓶鋁罐可樂的容量大約是 ( 35 毫升， 350 毫升 )。
- 下面飲料瓶上的標示，哪一個是表示容量？  
( 20% ， 1200g ， 200 大卡 ， 1l )

五、算算看，( ) 中的數是多少？：每題 3 分，共 9 分

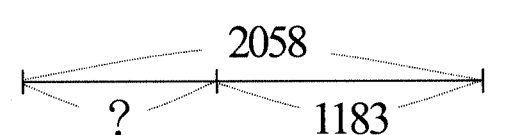
1. ( ) + 2177 = 9829



2.  $2000 - ( ) = 425$



3.  $2058 - ( ) = 1183$



六、寫出直式算算看：每題3分，共9分

1.  $257 \times 4 = ( \quad )$

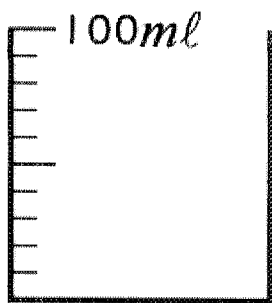
2.  $179 \times 3 = ( \quad )$

3.  $128 \times 6 = ( \quad )$

七、畫畫看：每題2分，共4分

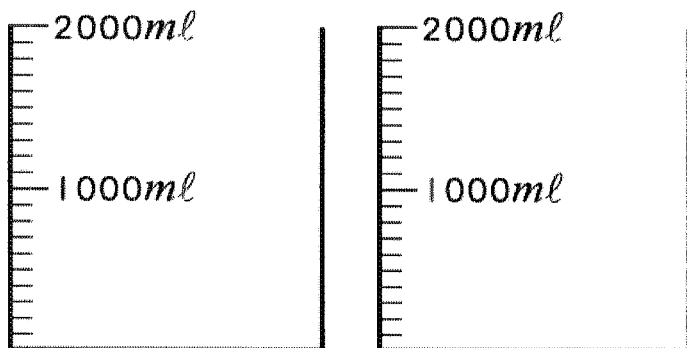
1. 畫出指定的水量。

70 毫升



2. 畫出指定的水量。

3 公升 400 毫升



八、寫出算式做做看：共30分

1. 鶴聲國小三年級的學生參加校外教學。他們中午在餐廳吃飯，1 桌坐 15 人，共坐了 9 桌，還有 6 個空位。

(1) 三年級學生共有多少人？(5分)

(2) 三年級學生要搭遊園小火車，一列小火車有 5 節車廂，1 節車廂有 25 個座位，一列小火車還不夠幾個座位？(5分)

(3) 紀念商品店的玩具熊，1 隻賣 189 元，老師買了 5 隻，共要多少元？(5分)

2. 一杯木瓜牛奶有 335 毫升，恩義買了 6 杯木瓜牛奶，一共有幾公升幾毫升？(5分)

3. 有一張三角形色紙，三邊長分別是 12 公分、16 公分和 20 公分，色紙的周長是幾公分？(5分)

4. 寫成一個算式做做看。(5分)

大雄的爸爸比媽媽大 5 歲，他的爸媽已經結婚 18 年了，結婚時爸爸是 33 歲，大雄的媽媽現在是幾歲？