





一、選擇題 每答 2 分，共 10 分

() 1.  是 一個 印章，可以蓋出什麼形狀？ ①  ②  ③ 。

() 2. 靜香要到文具店買鉛筆，下面哪一件事會最後發生？ ① 付錢 ② 進入文具店 ③ 選鉛筆。

() 3. 小夫家住 8 樓，往下走 3 樓到小杉家玩，小杉家住幾樓？ ① 11 樓 ② 5 樓 ③ 6 樓。

() 4. 胖虎今年 7 歲，妹妹比他少 2 歲，妹妹今年幾歲？ ① 9 歲 ② 7 歲 ③ 5 歲。

() 5. 桌上有 6 個紅豆口味的銅鑼燒和 0 個奶油口味的銅鑼燒，桌上共有幾個銅鑼燒？ ① 5 個 ② 6 個 ③ 7 個。

二、連連看：左邊的題目可以用哪個算式表示？ 每答 2 分，共 6 分

<p>① 媽媽買了 5 個麵包，吃了 2 個，還剩下幾個麵包？</p>	<p>• •</p>	<p>5 + 5</p>
<p>② 公車上有 5 個男生和 2 個女生，共有幾個人？</p>	<p>• •</p>	<p>5 + 2</p>
<p>③ 一瓶養樂多 5 元，想買 2 瓶養樂多，要付幾元？</p>	<p>• •</p>	<p>5 - 2</p>

三、填一填 每答 2 分，共 28 分

1. 把正確的答案圈起來：

① 可以堆高，但不容易滾動的  是 、。

② 有平平的面，也有彎彎的面是 、。

③ 不能堆高，只能滾動的是 、、。

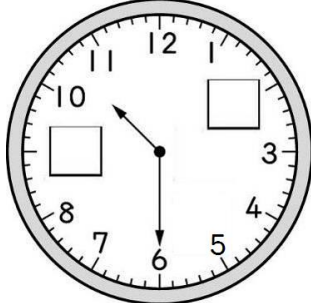
2.

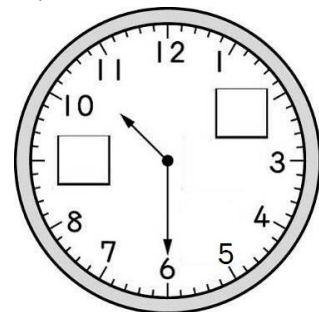
2 小時前，我吃了點心銅鑼燒。

現在時刻

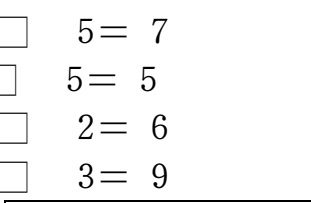


() 點鐘的時候，哆啦 A 夢在吃點心。

3. 先在  中填入正確的數，再回答問題：



短針指在 () 和 () 之間，長針指在 ()，代表現在時間是 () 點半。

4. 在  中填入 + 或 - 來完成算式：

(1) 2 5 = 7


(2) 10 5 = 5

(3) 8 2 = 6

(4) 6 3 = 9

背面還有題目唷！

三、數數看 每答2分，共10分



- ① 圓形有()個。
- ② 長方形有()個。
- ③ 三角形有()個。
- ④ 正方形有()個。
- ⑤ 三角形比圓形多()個。

四、算一算 每答1分，共10分

(1) $4 + 2 = ()$	(2) $1 + 5 = ()$
(3) $5 + 5 = ()$	(4) $2 + 8 = ()$
(5) $7 + 0 = ()$	(6) $9 - 9 = ()$
(7) $8 - 6 = ()$	(8) $8 - 7 = ()$
(9) $10 - 5 = ()$	(10) $9 - 3 = ()$

五、先畫○，再算算看 每題4分

1. 這次數學考試，胖虎答對5題，大雄答對2題，誰答對的題目比較少？少幾題？

畫○：

算式：

()比較少，少()題。

2. 哆啦A夢的百寶袋裡有7個竹蜻蜓，借了3個給大雄後，還剩下幾個竹蜻蜓？

畫○：

算式：



剩下()個。

六、連一連 每答2分，共12分





12點

4:30




7點

2:00



9點半

3:00



七、寫出算式和答案 每題4分

1. 大雄玩套圈遊戲，第一次套中7個，第二次沒套中，兩次共套中幾個圈？

共套中()個。

2. 冬至那天，小夫共吃了9顆湯圓，5顆是紅湯圓，其它是白湯圓，請問白湯圓有幾顆？

有()顆。

3. 一盒銅鑼燒有5個，媽媽買了2盒，共有幾個銅鑼燒？

有()個。

4. 靜香做了4條手環，要送給7個朋友一人一條，還不夠幾條？

不夠()條。

記得要檢查3次唷~



