

台中市北屯區四維國民小學109學年度第一學期一年級數學領域 第一次定期評量試卷

出題教師:陳亮吟老師

一年級 班 座號: 姓名:

一、填填看看。 40%

1. 分分看看、合起來，填入正確的數字。

(1) (2) (3)

8	
	5

4	5

7	
2	

2. 按照順序填填看看。


(1)

10		8		6
----	--	---	--	---

(2)

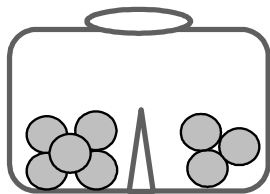
3. 下面物體很像哪一種立體圖形?

請填代號。



() ()	() ()	() ()	() ()

4. 8顆球可以分成多少和多少?



分成 () 和 ()

5. 比較多的打√，比較少的打×。

<p>()</p>	<p>()</p>
------------	------------

6. 比一比，最長的在()打√，最短的打×。

(1)

() () ()

(2)

ㄅ ()
ㄆ ()

7. 下面哪些物品沒有平平的面? 請打√。

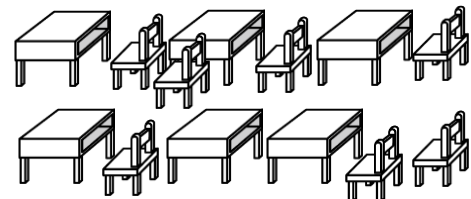
① ()

② ()

③ ()


④ ()

8. 看圖回答問題。



- (1) 有 () 張。
- (2) 有 () 張。
- (3) 比 () (多, 少)。

9. 從右邊開始數，請問圈起來的車子排在第幾輛? 第()輛。



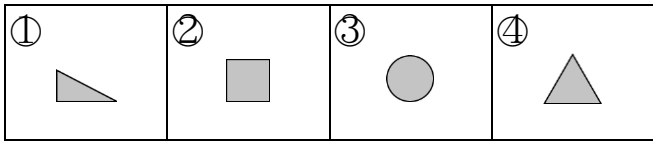
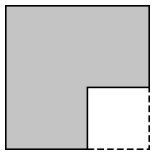
10. 按照由厚到薄的順序填入1、2、3。

① ()

② ()

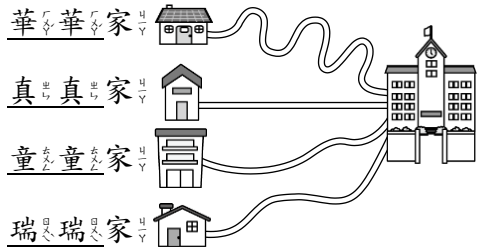
③ ()

11. 白色部分的形状要怎么放入哪一个图形中，才会拼成正方形？填入代号。()



二、圈一圈看看。18%

1. 以下是一位小朋友从家到学校的路线，请把正确的答案圈起来。



(1) 哪一位小朋友从家裡到學校的距離最短？(華華, 真真, 童童, 瑞瑞)。

(2) 哪一位小朋友从家裡到學校的距離最長？(華華, 真真, 童童, 瑞瑞)。

(3) 請問華華家到學校的路線是？

(直線, 曲線)。

(4) 請問真真家到學校的路線是？

(直線, 曲線)。

2. (1) 圈出第7顆星星。



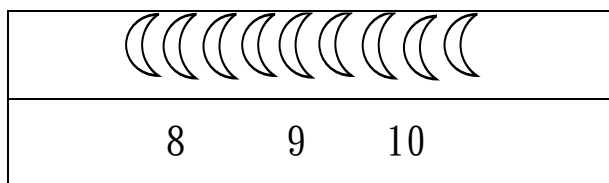
(2) 圈出7顆星星。




(3) 圈出第7顆星星。



3. 數一數，圈出正確的數字。




4. 請把最高的人圈起來。



三、配合圖題。22%

1. 請回答下列問題。



(1) 從右邊開始數，排在第()個。

(2) 從左邊開始數，排在第4個的是



(3) 總共有幾個布丁？請在 [] 中，

畫出一樣多的○。




(4) 全部有()個小朋友，桌上有

()個。

(5) 一個小朋友拿一個()，(夠, 不夠)。

2. 下面是樂樂組合完成的圖案。請根據題目回答問題。



(1) 三角形有()個。

(2) 圓形有()個。


(3) 正方形有()個。

(4) 長方形有()個。

(5) 總共有()個圖形。

四、連連看看。20%

1. 下面的動物各有多少隻？請連連看看。



①	• •	7	• •	⑥ 六
②	• •	5	• •	⑦ 五
③	• •	6	• •	⑧ 七
④	• •	8	• •	⑨ 十
⑤	• •	10	• •	⑩ 八