

命題教師：鄭惠文

____年 ____班 座號：____ 姓名：____

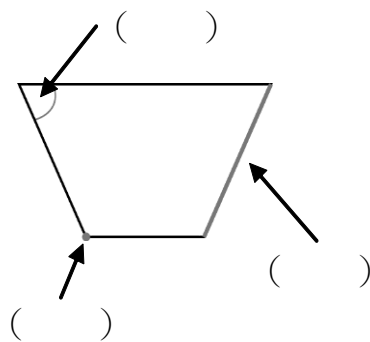
一、選擇題：每題 2 分，共 20 分

- () 1. 甲比乙重，乙比丙重，這三個物品誰最重？
①甲 ②乙 ③丙
- () 2. 周界的長度，叫作什麼？
①周長 ②內部 ③外部
- () 3. 三個邊都一樣長的圖形是？
①三角形 ②圓形 ③正三角形
- () 4. 下面哪一個算式的積最小？
① 6×6 ② 9×3 ③ 7×8
- () 5. 鐘面上，分針從 12 走到 4，是走了幾分鐘？
①4 分鐘 ②20 分鐘 ③25 分鐘
- () 6. 鐘面上的時針接近 2，還不到 2，可以怎麼說？
①2 時 ②快要 2 時 ③2 時多
- () 7. 1 籠包子有 7 個，媽媽買了 4 籠，共買了幾個包子？
①15 個 ②28 個 ③56 個
- () 8. 用天平稱重時，物品比較輕的一邊會如何？
①向下垂 ②向上翹 ③兩邊會平平的
- () 9. 長方形有幾個邊？幾個頂點？
①4 個邊 3 個頂點 ②和正方形一樣 ③5 個邊 4 個頂點
- () 10. 鐘面上有 1~12 的數字，8 時 5 分的時候，鐘面上的分針會指在哪個數字？
①5 ②8 ③1

二、看圖填填看看：每題 2 分，共 44 分

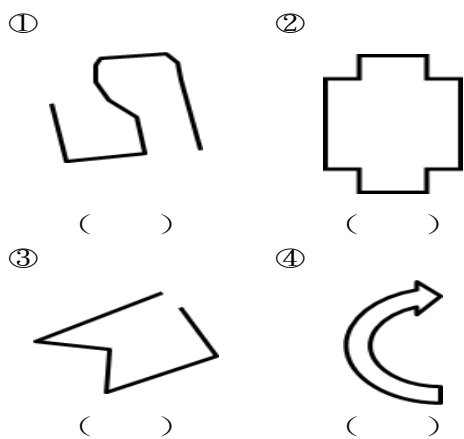
1. 學校舉辦音樂表演，從上午 9 時開始，到上午 11 時結束，共經過()小時。
2. 大明下午 6 時 30 分開始吃晚餐，30 分鐘後吃完，吃完後的時間是()時()分。
3. 哥哥上午花了 3 個小時晨跑，在上午 10 時回到家，請問哥哥出門的時間是上午()時。
4. 2×7 的被乘數是()，乘數是()，積是()。
5. 一個盒子裡裝有 6 個甜甜圈
(1) 小安買了 2 盒，是買了()個甜甜圈。
(2) 小真買了 4 盒，是買了()個甜甜圈。
(3) 誰買的比較多？()多()盒，也就比()多()個。
6. 1 本書和 3 個砝碼一樣重，3 本書和()個砝碼一樣重。
7. 填填看看，寫出平面圖形各部位的名稱。(請填代號)

ㄅ. 頂點 ㄆ. 角 ㄇ. 邊



8. 下面哪一些圖形有周界？在()裡

打✓，沒有的打✗：



9. 媽媽的體重比哥哥輕，爸爸的體重比哥哥重，請圈出正確答案：

體重最重的是(爸爸、媽媽、哥哥)

體重最輕的是(爸爸、媽媽、哥哥)

三、計算題：每題 2 分，共 16 分

$8 \times 4 =$	$7 \times 7 =$
$5 \times 7 =$	$6 \times 2 =$
$2 \times 8 =$	$9 \times 6 =$
$3 \times 5 =$	$4 \times 6 =$

四、應用題：每題 4 分，共 20 分

1. 弟弟用長 6 公分的橡皮擦量課本的寬度，共量了 5 次，課本的寬幾公分？

答：

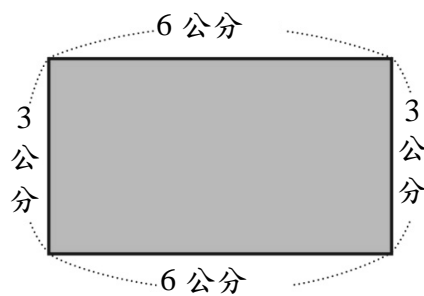
2. 公園裡種了 9 排樹，1 排有 5 棵，公園裡共種了幾棵樹？

答：

3. 1 輛小巴士可以坐 8 人，公司有 7 輛小巴士，總共可以坐幾人？

答：

4. 算出下面圖形的周長



答：

5. 有兩個邊長各是 5 公分和 7 公分的正方形，這兩個正方形的周長相差幾公分？

答：

記得檢查考卷喔！祝寒假快樂