

命題教師

一年級

班號 姓名：

小朋友，歡迎

參與數學冒險任務



《所有題目，每答2分》

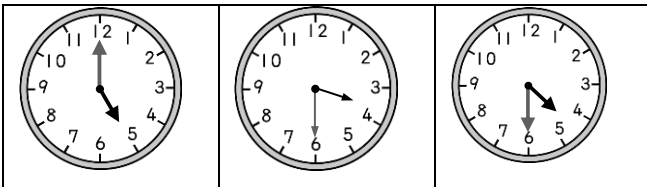
一、連連看(22分)

① 5+5	② 1+3	③ 2+6	④ 0+7
-------	-------	-------	-------

ㄅ. 8	ㄆ. 4	ㄇ. 7	ㄏ. 10
------	------	------	-------

A. 10-3	B. 9-1	C. 6-2	D. 10-0
---------	--------	--------	---------

2.



4點半	5點鐘	3:30
-----	-----	------

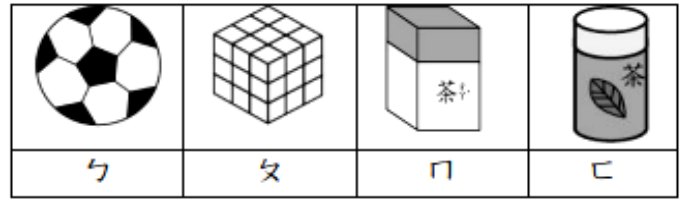
二、填填看(54分)

1. 按照事情的先後順序在

() 寫上 1、2、3

<p>① 吃飯</p> <p>()</p>	<p>② 擺碗筷 盛飯</p> <p>()</p>	<p>③ 洗手</p> <p>()</p>
------------------------	--------------------------------	------------------------

2. 寫入正確的代號：



(1) 可以滾動的代號是 ()、()

(2) 可以一堆高的代號是 ()、()、()。

(3) 有平平的面，也有彎彎的面，代號是 ()。

(4) 只有平平的面，代號是 ()、()

3. 右圖時鐘是巧巧老師上班時間：短針指在

() 和 () 之間

，長針指在 ()

，是 () 點半



4. 現在是下午2點半，再過

4小時後是晚餐時間，請問

巧巧老師要下午 () 點半

吃晚餐？

5. 琪琪每天上午8點要到學校

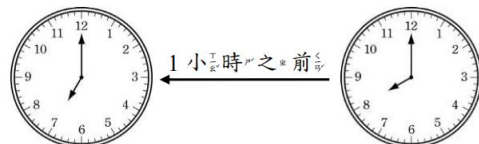
，從起床到學校要1小時

，請問她最慢要 () 點

出發才不會遲到。

起床時刻

到學校時刻




6. 做做看，答案是在 6 在 填 。

答案是 9，請在 填 。

(1) 1+5 (2) 9-0 (3) 10-1

(4) 3+6 (5) 3+3 (6) 6+0

7. 下圖是巧虎的作品，請問



- (1) 共有 () 個正方形
- (2) 共有 () 個長方形
- (3) 共有 () 個圓形
- (4) 共有 () 個三角形

三、依照圖形規律，[?] 會是什麼答案，圈出適當答案。(4分)



四、畫O做做看，並用算式記下來 (一題4分，20分)

1. 巧虎原有4張貼紙，小可再送給他6張，巧虎共有幾張貼紙？

畫O: _____

算式: _____

答: () 張

2. 小花有9包餅乾，吃掉3包，還剩下幾包？

畫O: _____

算式: _____

答: () 包

3. 一盒蛋塔有3個，琪琪買了2盒，一共買了幾個蛋塔？

畫O: _____

算式: _____

答: () 個

4. 桃樂比有6張卡片，妙妙有8張卡片，誰的卡片比較多，多幾張？

畫O 桃樂比: _____

妙妙: _____

算式: _____

答: 多 () 張

5. 巧虎的爸爸媽媽共吃掉9個蘋果，爸爸吃掉5個，請問媽媽吃掉幾個蘋果？

畫O: _____

算式: _____

答: () 個

要檢查考卷喔

