

命題教師： 老師

班級：五年\_\_班 座號：\_\_ 姓名：\_\_

注意！請將答案填入第五頁的答案卷中。

一、選擇題(每答 2 分，共 34 分)

- 關於清帝國時期在臺灣發生的「民變」與「械鬥」，下列哪項敘述正確？  
①民變發生的原因與統治官員的壓迫有關 ②民變是來自不同地區的移民之間爆發的武裝衝突事件  
③械鬥是來臺移民集體反抗官府的事件 ④械鬥發生的原因與地方上的反清組織有關。
- 威廉是清帝國時期來到臺灣做生意的德國商人，當時他選擇將生意重點擺在臺灣南部，為了處理通商事務的便利，考察過許多地點後，最有可能設在今日何處？①雞籠 ②淡水 ③三峽 ④打狗。
- 在清帝國治理臺灣初期，經濟重心原在南部，之後逐漸移轉至北部。這其中的轉移過程，與當時北部生產的哪兩項商品外銷有關？①樟腦和茶葉 ②蔗糖和鹿皮 ③瓷器和五金 ④稻米和藥材。
- 社會老師請同學以「清帝國時來臺灣的傳教士」為主題蒐集資料及撰寫報告，下列哪本書最適合作為參考資料？ ①劉銘傳：臺灣現代化的推動者 ②蔣渭水傳——臺灣的孫中山  
③李春生的故事 ④臺灣醫療宣教之父：馬雅各醫生傳。
- 下列哪項原因促使清帝國政府了解到臺灣地位的重要而積極治理，最後將臺灣建省？  
①原住民族愈來愈難管理 ②臺灣人主動爭取 ③外國人不斷侵犯臺灣 ④臺灣盛產稻米。
- 清帝國時期，漢人修築的水利建設有：「甲.八堡圳」、「乙.瑠公圳」、「丙.曹公圳」，請用代號排列出從北到南的順序。 ①甲乙丙 ②乙丙甲 ③丙甲乙 ④乙甲丙。
- 臺灣的漢人會有吸食鴉片的陋習，主要是因為鴉片是哪個時期主要進口商品有關？  
①大航海時代西班牙人大量進口鴉片來臺 ②清帝國開港通商前的主要進口商品  
③清帝國開港通商後，鴉片是進口最大宗的商品 ④日治時期由醫生林聰明引進作藥材。
- 下列哪個是臺灣民主國成立的主要目的？  
①與清帝國政府開戰 ②阻止日本接收臺灣 ③反抗專制王權 ④加入國際組織。
- 以下何者非日治時期的臺灣文化協會舉辦演講會、讀報社和巡迴電影會的目的？  
①讓民眾獲得新知 ②策畫武裝抗日行動 ③喚醒民眾爭取權益的意識 ④提升民眾文化水準。
- 下列哪一項不是日本對臺灣進行各項調查的原因？  
①缺乏殖民統治經驗 ②為更有效控制臺灣 ③以利訂定施政策略和規畫 ④將日本首都移到臺灣。
- 下列關於日治時期的保正、甲長的敘述，何者錯誤？  
①十戶為一保 ②需要配合警察的工作 ③甲長相當於現在的鄰長 ④須配合傳達政令。
- 阿淳不小心打翻水杯，將社會分組資料弄濕，字跡因此模糊不清，只看到幾個關鍵字「又稱噍吧哖事件、民間信仰、漢人」，依據上述，他整理的資料最有可能與下列哪個事件有關？  
①朱一貴事件 ②林爽文事件 ③西來庵事件 ④霧社事件。
- 清帝國將原本屬於福建省的臺灣建省，提升臺灣的行政地位，是受到哪個事件的影響？  
①鄭成功發動攻勢，反清復明 ②漢人與原住民族頻頻發生衝突  
③清帝國與法國爆發戰爭 ④國外的傳教士來臺傳教
- 呈上題，臺灣建省的首任巡撫是哪位？ ①劉銘傳 ②李鴻章 ③沈葆楨 ④林獻堂。

15. 清帝國統治臺灣的態度由消極轉為積極，請排出以下幾個關鍵事件的先後順序。

甲、清帝國將臺灣納入版圖 乙、朱一貴事件 丙、牡丹社事件 丁、英法發動戰爭，開放通商港口。

①甲→丁→乙→丙 ②甲→乙→丁→丙 ③乙→甲→丁→丙 ④乙→丙→甲→丁

16. 山本是日治時期的警察，他時常要去演講會現場監視演講者或驅散群眾，請問他驅趕的人群中，可能有下列哪一個人？ ①施世榜 ②唐景崧 ③劉銘傳 ④林獻堂。

17. 下列關於日本殖民時期調查臺灣各項事務的相關敘述，哪些是正確的？

甲、透過調查，發現臺灣的漢人有辮髮、纏足和吸食鴉片的陋習。

乙、將原住民族的文面文化保留下來。

丙、這些調查無助於更有用的統治臺灣。

丁、土地調查雖讓所有權更明確，卻讓擁有土地的人繳納更多稅。

①甲 ②甲丁 ③甲乙丁 ④甲乙丙丁

## 二、題組（每答2分，共40分）

(一)

至詠是清帝國時期渡海來臺的漢人，他在來臺生活一段時間後，請人幫忙寫信帶回給家鄉的父母(時間約在西元1786年左右)，信件內容如下：

阿爸阿母平安：

來臺已經一年多，生活總算稍微安定，趕緊捎信向你們報平安。我目前在艋舺討生活，這裡有很多臺灣的物產和中國來的貨品在港口邊買賣，鎮上相當熱鬧。我和同鄉在碼頭邊找到搬貨的工作，生活還行。頭家說我表現不錯，準備派我去管理倉庫……

1. 清帝國將臺灣納入版圖前，漢人在臺灣的活動，下列敘述何者正確？

①受到海洋阻隔，沒有漢人來臺活動 ②漢人最多只到澎湖開墾，未登陸臺灣

③已有漢人來臺從事漁業、貿易或開墾 ④漢人和原住民族一同開墾土地，和樂融融。

2. 移民來臺非常危險，但仍有許多福建與廣東的居民冒險渡海，可能的原因不包含哪一項？

①福建、廣東距離臺灣較近 ②福建、廣東有稻米的需求

③政府大量批准福建、廣東的居民來臺 ④福建、廣東的人口眾多但耕地不足。

3. 至詠所生活的艋舺是位於哪裡的港口？

①福建沿海 ②台江內海 ③淡水河河邊 ④臺灣西部海岸中段。

4. 下列何者可能是當時臺灣出口的貨品？ ①藥材 ②建材 ③布匹 ④稻米。

5. 從文中可知至詠能在艋舺討生活，是因為艋舺的發展狀況如何？

①港口貿易興盛，帶動市街的發展 ②種植大量稻米，有許多商家來收購

③政府機關進駐，有政府的生意可以做 ④古蹟眾多，可以賺觀光財。

6. 在當時，除了艋舺外，還有哪些港口獲得許可，可以和中國互相貿易？

甲、府城 乙、淡水 丙、打狗 丁、鹿港 ①甲乙 ②乙丙 ③丙丁 ④甲丁。

(二)

佩奇在一本書上，讀到了以下的內容：「我，來自於加拿大。西元 1872 年，我在臺灣的北部租房子，成立了教會，為了能夠順利的傳教，我努力的學習當地的語言。」清帝國時期開港通商後，許多外國人陸續進入臺灣，當時來臺的外國人多半為商人和傳教士……

- 根據內容，請問這本書的標題最可能是哪一本？  
 ①馬偕日記 ②沈葆楨傳 ③令人尊敬的巴克禮牧師 ④約翰·陶德手札。
- 如果佩奇想進一步了解這位外國人士對臺灣的貢獻，他可以去哪裡參訪？  
 ①臺中 ②臺南 ③淡水 ④高雄
- 清帝國末期，臺灣開港通商後，對臺灣造成哪些影響？  
 甲、使西方文化重新傳入臺灣 乙、西方國家得以來臺灣從事貿易  
 丙、將外國的樟腦銷售到臺灣 丁、茶葉成為外銷的重要商品之一  
 ①甲乙丙 ②甲乙丁 ③甲丙丁 ④甲乙丙丁。

清帝國時期開港通商，對臺灣邁向現代化有關鍵性影響。請看右圖回答下列問題。

- 圖中的 A 是清帝國時期的哪個港口？( )
- 圖中的 C 是清帝國時期的哪個港口？( )
- 當時外國商人獲准在這些通商港口設立商行，這些商行稱為( )。




(三)

惠琦訪問曾祖母日治時期的生活經驗，曾祖母：「大家生活都很苦，不過沒人敢做壞事，因為小偷很快就會被抓到！而且沒人敢藏匿犯人，因為會被連帶處罰。小偷會被警察用鐵絲線綁住雙手，遊街辱罵！」


- 在馬關條約中，臺灣被割讓給日本，是因為清帝國政府在下列哪一場戰爭失敗？  
 ①甲午戰爭 ②鴉片戰爭 ③清法戰爭 ④牡丹社戰爭。
- 呈上題，為什麼日本想取得臺灣？  
 ①清帝國 李鴻章的大力推薦 ②臺灣位於可控制大西洋航運的位置  
 ③臺灣位於日本的北邊，有利於日本往北擴張領土 ④臺灣擁有蔗糖、樟腦、茶葉等物產。
- 根據「惠琦訪問曾祖母的描述」，有這樣的情形與當時的哪些制度有關？  
 甲、保甲制度 乙、警察制度 丙、皇民化運動 ①甲 ②甲乙 ③乙丙 ④甲乙丙
- 日治時期，日本警察工作內容涵蓋生活大小事，下列哪些工作是當時日本警察的工作範圍？  
 甲、逮捕罪犯 乙、預防注射 丙、管制交通 丁、教導原住民生產技術  
 ①甲乙丙 ②甲丙丁 ③乙丙丁 ④甲乙丙丁
- 日治時期，臺灣最高的統治機關？①總統府 ②省政府 ③總督府 ④臺灣議會。

根據右方四張圖片，依據提示回答下列問題。

- 這是日治時期政府推行的什麼政策？( )
- 某些人在教育與工作上有優待，可能是因哪張圖的關係？  
請填代號 ( )
- 當時的學生戶外教育時常去「丁」，請問丁圖是何處？( )



三、配合題 (共 26 分)



(一) 假設古人有  LINE 通訊軟體，請問以下內容會出現在哪些人物的對話框中呢？請你分類(填入代號)。(每答 2 分，共 16 分)

- A. 最近英國送來一臺活版印刷機，我們就能加快臺灣府城教會報的出刊速度了。
- B. 今天，有名士兵痛苦的告訴我說：「有一隻蟲在牙齒裡面」，我唱了聖歌後便幫他拔牙。
- C. 我們的看西街醫館剛剛被附近的居民給砸了，看來我們得搬到打狗了。
- D. 實在太過分了，這些政府官員不但向我們徵收高額的稅金和糧食，還無故將我們農民關起來，看來是時候要反清復明了。
- E. 我想到野外尋找看看是否還有我沒發現到的動植物，順便記錄下來！
- F. 臺灣患了「智識營養不良」的疾病，我們應該要有民族自決的意識，爭取地方自治的權利！
- G. 族人槍枝被沒收，要怎麼獵捕？吃都沒得吃，根本活不下去了！十天後附近的小學要舉辦運動會，我們一定要趁這個機會發動大規模的攻日行動！
- H. 臺灣北部的氣候和土壤很適合種茶，我可以借錢給你們買烏龍茶苗，到時候再全數收購你們種出來的茶。

(1) <u>馬偕</u>		(2) <u>巴克禮</u>	
(3) <u>約翰·陶德</u>		(4) <u>馬雅各</u>	
(5) <u>莫那·魯道</u>		(6) <u>蔣渭水</u>	
(7) <u>斯文豪</u>		(8) <u>朱一貴</u>	

(二) 下列兩張圖是清帝國時期對臺灣的建設非常有貢獻的兩個人。請把他們在臺灣的相關事蹟，以代號填入各圖下方的 ( ) 中。(每答 2 分，共 10 分)

- 甲、興築億載金城
- 乙、牡丹社事件
- 丙、修建基隆到臺北間的鐵路
- 丁、清法戰爭
- 戊、增設恆春縣

① <u>沈葆楨</u>	② <u>劉銘傳</u>
	
( )	( )

臺中市北屯區四維國民小學 112 學年度第二學期五年級社會領域 第一次定期評量 答案卷

班級	年	班	座號	分數	100	99-90	89-80	79-70	69-60	59 以下	得分
姓名			家長 簽名	人數							

一、 選擇題(每題 2 分，共 34 分)

1	2	3	4	5	6	7	8	9	10
11	12	13	14	15	16	17			

二、 題組(每題 2 分，共 40 分)

(一)

1	2	3	4	5	6

(二)

1	2	3	4	5	6

(三)



1	2	3	4	5	6	7	8

三、 配合題(共 26 分)

(一) (每答 2 分，共 16 分)

(1)馬偕		(2)巴克禮	
(3)約翰·陶德		(4)馬雅各	
(5)莫那·魯道		(6)蔣渭水	
(7)斯文豪		(8)朱一貴	

(二) (每答 2 分，共 10 分)

① 沈葆楨	② 劉銘傳
	
( )	( )