

北興國中 107 學年度第一學期第三次段考

國三地理科試卷

一、單選題 (共 50 題，每題 2 分)

班級：

姓名：

座號：

※附圖為北美洲氣候類型分布圖，請依據圖，回答下列問題：

1. 圖中可以發現北美洲大陸西岸出現寒帶氣候的緯度較東岸高出許多，主要受到哪個因素影響？

(A) 地形 (B) 人類開發早晚 (C) 洋流 (D) 距海遠近

2. 依附圖判斷，北美洲主要以下列哪一種

氣候類型為主，面積最廣？

(A) 熱帶 (B) 副熱帶 (C) 溫帶 (D) 寒帶。

3. 北美洲的乙區為何種氣候類型？

(A) 寒帶氣候 (B) 熱帶沙漠氣候 (C) 溫帶沙漠 (D) 溫帶大陸性氣候。

4. 吹拂北美洲主要的盛行風為何？

(A) 東風 (B) 西風 (C) 南風 (D) 北風。

5. 美國加州的氣候適合葡萄生長，使加州

的葡萄和葡萄酒產量居全美第一。請

問：加州位於圖中何處？

(A) 乙 (B) 丁 (C) 戊 (D) 庚。

6. 世界馬拉松大滿貫 (World Marathon

Majors) 是世界頂級馬拉松巡迴賽，自 2006 年設立。包含六個年度城市馬拉松賽：波士頓馬拉松、倫敦馬拉松、柏林馬拉松、芝加哥馬拉松、紐約馬拉松、東京馬拉松。來自紐約的湯姆為了參加頂級馬拉松巡迴賽的倫敦馬拉松賽事，他想前往國內氣候相近的都市集訓，希望能在賽事中取得優秀成績。請問：湯姆集訓的地點最可能為下列哪一個氣候區？

(A) 甲 (B) 乙 (C) 丙 (D) 丁。

7. 承上題，該氣候類型屬於下列何者？

(A) 溫帶地中海型 (B) 溫帶海洋性氣候 (C) 寒帶氣候 (D) 高地氣候

8. 湯姆很喜愛爵士樂，他發現紐約(New York)是爵士樂的重鎮，南方的新奧爾良(New Orleans)更是其故鄉，他今年八月到新奧爾良朝聖，他發現了地名似乎隱藏著某種祕密，例如上述二個城市名稱為何都有「New」這個字，「New」跟近代史中哪一種人文活動有關？

(A) 殖民 (B) 礦產 (C) 地形 (D) 氣候

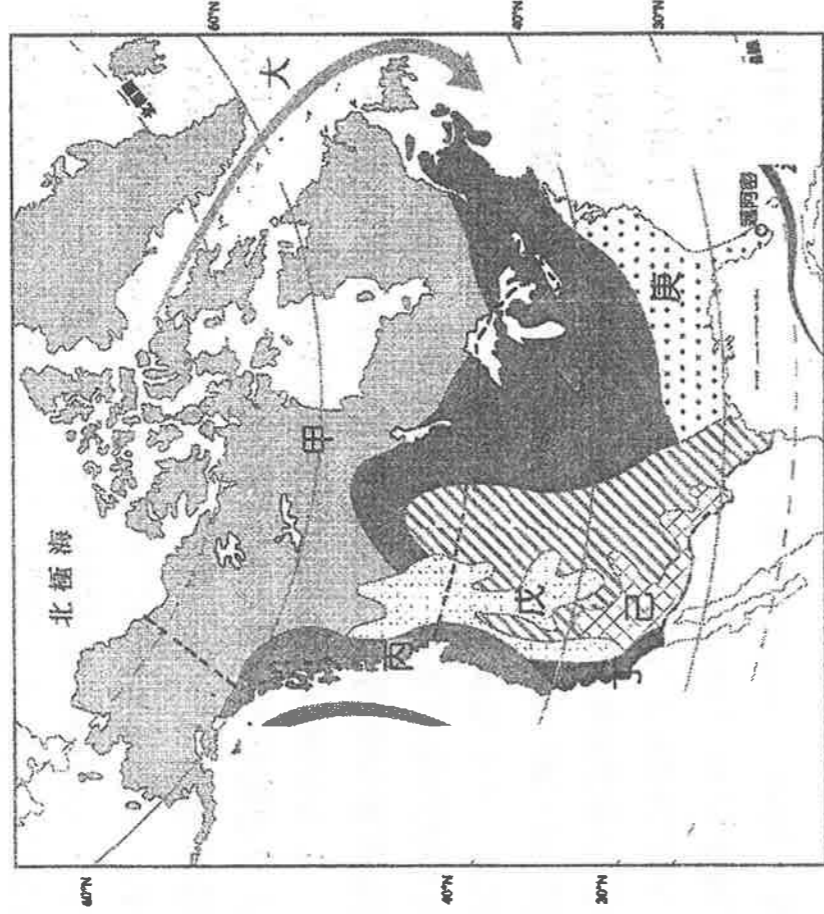
9. 承上題，到了新奧爾良，湯姆不巧遇上了十三級的暴風雨，室外的狂風驟雨伴著藍調，陪著他渡過了漫長的一夜，此天氣現象為何？ (A) 焚風 (B) 颶風 (C) 暴風雪 (D) 沙塵暴

10. 湯姆發現爵士樂起源於藍調和散拍，爵士樂的真正起源是貧窮，1865 年，美國內戰結束，昔日美國「南部奴隸」獲得了自由，但是生活依然困苦，他們多數是文盲，唯有靠自己故土培植出的音樂娛樂自己。請問：「南部奴隸」的故土最有可能是來自何處？

(A) 歐洲 (B) 大洋洲 (C) 拉丁美洲 (D) 非洲

11. 承上題，當時奴隸勞動的號子和農田歌曲是美國「南部奴隸」在採摘「甲作物」時唱的，讚美詩歌和聖歌則是在種族隔離的教堂裡聚會時唱的。請問「甲作物」最有可能是下列何者？

(A) 棉花 (B) 春麥 (C) 咖啡 (D) 橄欖。



※川普(Donald Trump)當選美國總統後提出多項改革政策，雖然爭議不休，川普依然執意執行。請問：

12. 川普的主要競選承諾之一便是加強並升級南方邊境的圍欄，在 3200 公里長的邊界線興建約 1600 公里長的人造圍欄（邊界的其餘部分被自然障礙隔離），並用 10 米到 15 米高的混凝土牆體代替柵欄。請問：邊境的圍欄，最可能是建在美國與下列哪一個國家的邊境？

(A)俄羅斯 (B)委內瑞拉 (C)加拿大 (D)墨西哥。

13. 承上題，這些非法移民最有可能是下列哪一個族群為主？

(A)非裔黑人 (B)歐洲裔白人 (C)拉丁美洲裔 (D)太平洋島民。

14. 承上題，在美國加強邊境和移民管制的情况下，非法移民不得不尋找更為艱險的偷越邊境線路，然而邊境的地理環境使這些非法移民大批死亡。請問：造成這些移民死亡的原因最可能是何者？

(A)移民 10 月遇到暴風雪，失溫而死 (B)移民秋季遇到龍捲風而遇難 (C)移民二月份因在森林大火中，無法脫身 (D)移民無法忍受八月沙漠的高溫致死。

15. 承上題，請問當地形成這種地理現象的原因是？

(A)位居西風背風側 (B)緯度高 (C)行星風帶隨季節移動 (D)沿海寒流影響，造成乾季更明顯。

16. 承上題，有一批非法移民偷渡中遇見美洲的原住民，幸運受到原住民協助才有活命機會。原住民說：「我們的祖先本來是這片廣闊大地的主人，在這裡建立了家園，留下歷史文化的遺跡；但是外人橫渡海洋後，卻一步步占領了我們的土地，把我們趕到美國的荒野，成就世界經濟上第一強權，付出的代價是我們文化的消逝。」請問非法移民最可能遇到下列哪一個族群？

(A)拉丁人 (B)印第安人 (C)因紐特人 (D)斯拉夫人。

17. 2017 年 9 月川普政府也針對幾個穆斯林占多數國家發出的旅行禁令，川普政府宣稱，為了國家安全考量，有必要實施這項禁令。請問：宣布禁令涵蓋的國家最不可能下列何者？

(A)伊朗 (B)葉門 (C)敘利亞 (D)巴西。

18. 川普政府廢除陶德法案(Dodd-Frank Act)，這項美國政府在 2007 年經濟危機爆發之後，針對華爾街金融機構所制定出的金融監管措施。川普團隊認為這項箱制華爾街的方案所帶來的經濟效益，對勞動階層的民眾並沒有顯著成效。請問：

華爾街位於右圖何處？(A)甲 (B)乙 (C)丙 (D)丁。



19. 川普政府為了將過去數十年來外流至其他國家的美國製造業拉回美國本土，要求這些美國企業必須繳納更多的稅、雇用更多美國當地員工，以增加美國的就業率、重建強大的美國經濟，最近更對中國進口部分商品提高關稅，引爆中美貿易大戰。請問：下列哪項中國產品最不可能川普提出的課稅對象？

(A)鋼鐵製品 (B)電子電器設備 (C)大豆 (D)汽車零組件。

20. 承上題，美國底特律早期被稱為世界汽車工業之都，後來因石油危機的影響，加上歐洲及日本的競爭，逐漸使底特律走向沒落。對於當前川普要求美國的汽車廠牌要回國生產，這些汽車廠首先要克服下列何項不利條件？ (A)礦產不足 (B)技術落後 (C)市場萎縮 (D)工資過高。

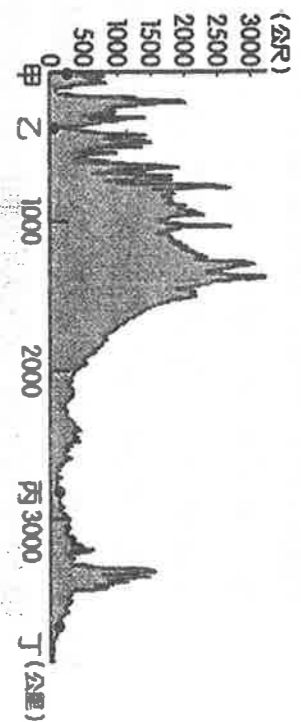
※右下圖是美洲沿 35°N 的地形剖面圖，請問：

21. 何處海岸的氣候受暖流調節？(A)甲(B)乙 (C)丙(D)丁

22. 何處臨近太平洋？(A)甲 (B)乙 (C)丙 (D)丁

23. 何處年降水量最少？(A)甲 (B)乙 (C)丙 (D)丁

24. 丙區主要是由河川沖積的平原，入海口有世界上最大的三角洲。請問：此地是哪條河川沖積而成？



(A)亞馬孫河 (B)密西西比河 (C)聖羅倫斯河 (D)拉布拉他河

25. 何處接近美國高科技產業「矽谷」所在地？(A)甲 (B)乙 (C)丙 (D)丁。

※附圖為中南美洲地形圖，請依據圖，回答下列問題：

26. 丙為世界上唯一的聯洋運河。請問：該運河的主要貢獻，下列何者正確？

(A) 縮短美洲東西岸之間的航程 (B) 提供北美洲民生用水的需求 (C) 便利歐洲與美洲的交通往來 (D) 替巴西賺取微薄的通行費

27. 到丙自助旅行，最需要加強哪種語言？

(A) 德語 (B) 俄語 (C) 西班牙語 (D) 法語

28. 丁是陸地上最長的山脈，也是中南美洲的地形脊梁。請問：是下列哪一座山脈？

(A) 喜馬拉雅山 (B) 安地斯山 (C) 落磯山 (D) 阿爾卑斯山。

29. 承上題，丁山脈北段的山間盆地，是人口、都市集中的精華區，其原因為何？

(A) 地處低緯 (B) 地勢低平 (C) 適合發展山牧季移 (D) 地勢險要，易守難攻

30. 戊是阿根廷主要的農牧區。請問：是下列哪一個平原？

(A) 中部大平原 (B) 波河平原 (C) 恆河三角洲 (D) 拉布拉他平原。

31. 己是世界面積最大的高原。請問：是下列哪一個高原？

(A) 青藏高原 (B) 德干高原 (C) 拉布拉多高原 (D) 巴西高原。

32. 承上題，己的東南沿海地區到處可見擁擠的人潮及貧民區，和世界其他大都市欣欣向榮的景象不同。同樣都市化程度高，景象卻不同，其原因為何？

(A) 政府都市計畫不夠周全 (B) 城市內湧入大批北美洲移民 (C) 鄉村經濟蕭條，推力太強所致 (D) 都市工商業發展所造成的拉力

33. 庚是盆地地形，世界流量最大、流域面積最廣的河川流貫其中。請問：是下列哪一河川？

(A) 亞馬孫河 (B) 聖羅倫斯河 (C) 湄公河 (D) 萊茵河。

34. 承上題，當地的生態資源相當豐富，為地球重要的基因庫，對於醫藥衛生的貢獻極大。請問：當地生態資源豐富的主要成因為何？

(A) 地表土壤肥沃 (B) 終年高溫多雨 (C) 流域面積廣大 (D) 氣候垂直變化

※加拿大是美洲面積最大的國家，但氣候環境欠佳，人口稀少，致使農業發展深受限制。請問：

35. 加拿大地廣人稀，人口密度比鄰近的美國要低很多 (3人/平方公里)，主要受到哪個環境因素影響？

(A) 低緯，不利農耕 (B) 糧食不足 (C) 氣候乾旱 (D) 氣候嚴寒

36. 右圖中哪一地區為加拿大的主要糧食生產帶？

(A) 甲 (B) 乙 (C) 丙 (D) 戊。

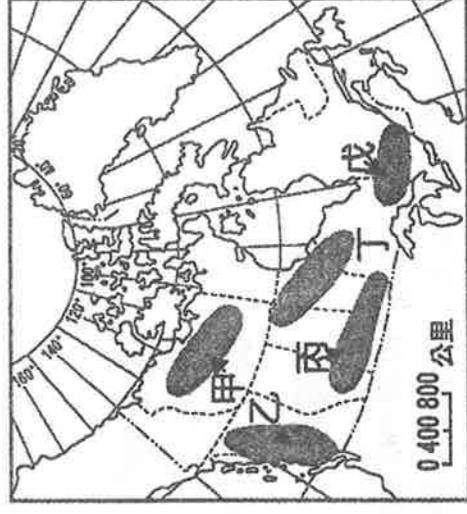
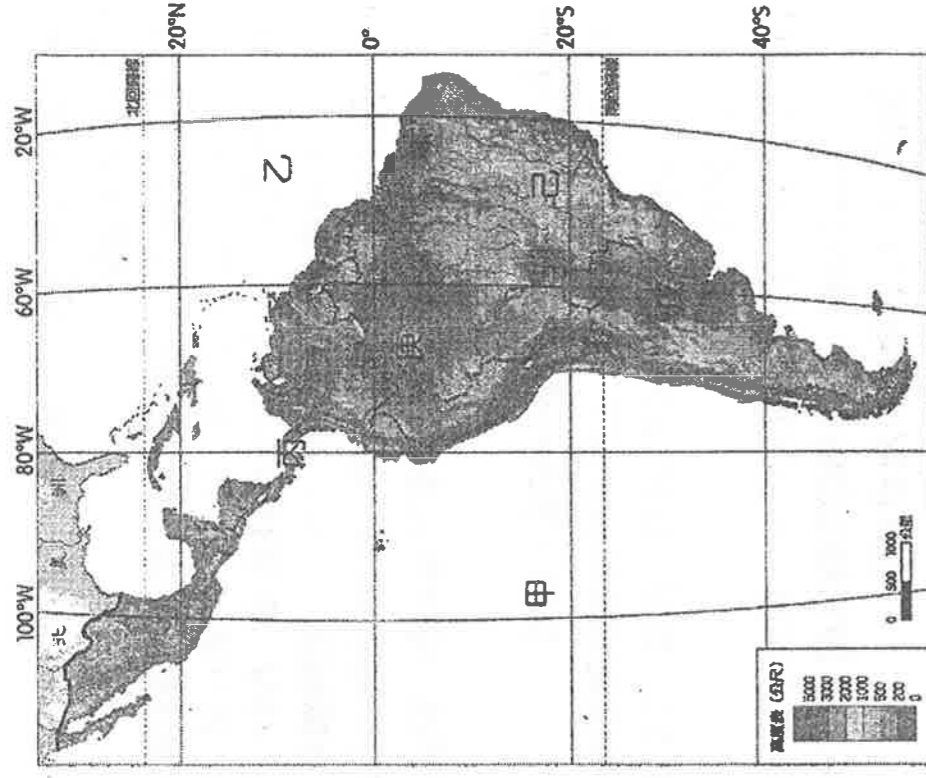
37. 加拿大的「哈得孫灣」與邊境的「五大湖」成因，與何種地形作用有關？(A) 冰蝕 (B) 溶蝕 (C) 河蝕 (D) 斷層作用。

38. 「五大湖」中的安大略湖，有一條河道向北流，經加拿大入海，此流域為加拿大精華區。此河是下列哪一河川？

(A) 亞馬孫河 (B) 聖羅倫斯河 (C) 密西西比河 (D) 萊茵河。

39. 加拿大西岸的氣候，是屬於：

(A) 溫帶沙漠氣候 (B) 溫帶地中海型 (C) 溫帶大陸性 (D) 溫帶海洋性

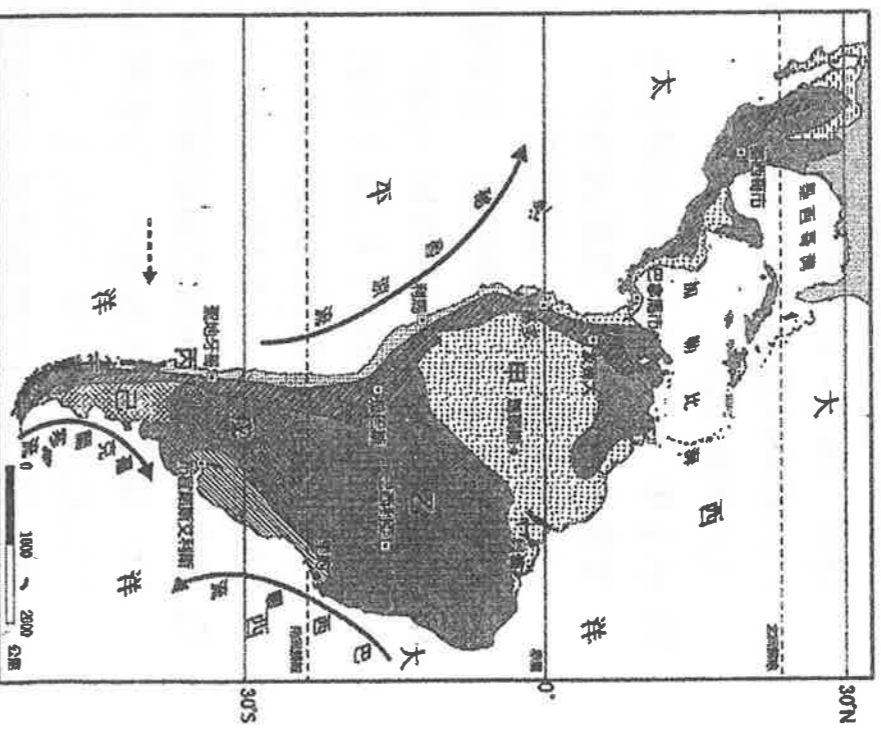
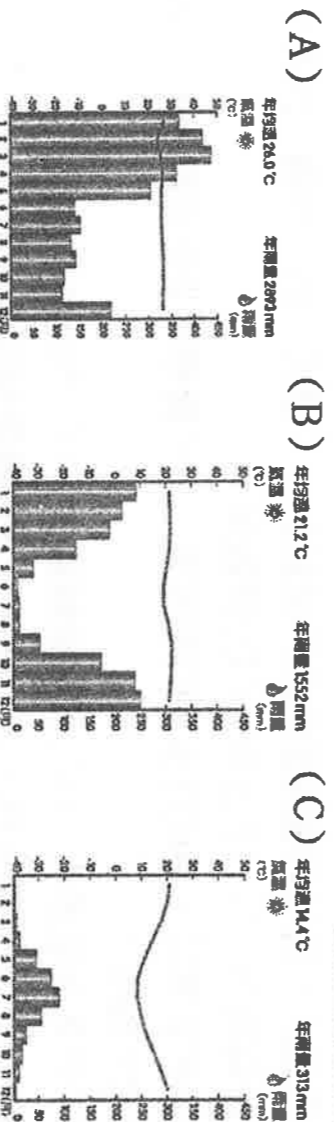


※中南美洲的瓜地馬拉、宏都拉斯、哥倫比亞等國，全國經濟主要靠香蕉、咖啡的出口，經濟命脈還被外國企業所操控。請問：

40. 中南美洲大部分國家的經濟型態，屬於第幾級產業？
 (A) 第一級 (B) 第二級 (C) 第三級 (D) 第四級產業。
41. 中南美洲大部分國家習慣種植單一作物，其主要原因為何？ (A) 採單一作物，利於精緻發展 (B) 受歐洲殖民影響 (C) 大規模種植，利潤較高 (D) 受限於地形、氣候
42. 中南美洲這樣的經濟型態有什麼缺點？(A) 產量太低，無法大量出口 (B) 容易受到西方資本的跨國企業操控 (C) 品質不易控制，造成政局不穩 (D) 能源消耗太大，造成缺電危機。

※右圖為中南美洲氣候類型分布圖，請問：

43. 中南美洲的氣候，主要受哪兩個因素影響？
 (A) 地形、海陸 (B) 地形、西風 (C) 緯度、地形 (D) 經度、地形。
44. 巴西首都巴西利亞位於乙區，屬於哪種氣候類型？
 (A) 高地氣候 (B) 熱帶雨林氣候 (C) 熱帶莽原氣候 (D) 溫帶地中海型氣候。
45. 丙區夏季乾燥、冬季多雨，主要受哪兩個因素影響？
 (甲) 西風 (乙) 暖流 (丙) 赤道低壓 (丁) 副熱帶高壓
 (A) 甲丁 (B) 甲丙 (C) 乙丁 (D) 乙丙。
46. 承上題，下列何項作物丙區較不可能出現？
 (A) 柑橘 (B) 玉米 (C) 葡萄 (D) 茶樹。
47. 阿根廷的農牧區，大致位於哪區？
 (A) 丙區 (B) 丁區 (C) 戊區 (D) 己區。
48. 下列哪個氣候圖，比較接近甲區的氣候？



49. 下表為北美洲與季風亞洲的農業類型比較，請問：哪一項最正確？(A)甲 (B)乙 (C)丙 (D)丁。

項目	地區	北美洲的商業性農業	季風亞洲的自給式農業
甲、農場面積		小	大
乙、耕作方式		集約	粗放
丙、機械化程度		低	高
丁、農場產量		單位面積產量小	單位面積產量大
		總產量大	總產量小

50. 台灣最近積極防疫非洲豬瘟，海關禁止旅客攜帶疫區肉類製品進入，違者初犯將開罰 20 萬台幣。而美國也因為狂牛症疫情，使該國的牛肉出口受到影響，包括臺灣也曾禁止美國牛肉的進口。請問：美國的牛肉生產主要位於右圖中哪一個地區？

