

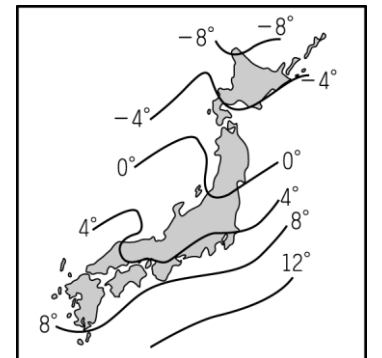
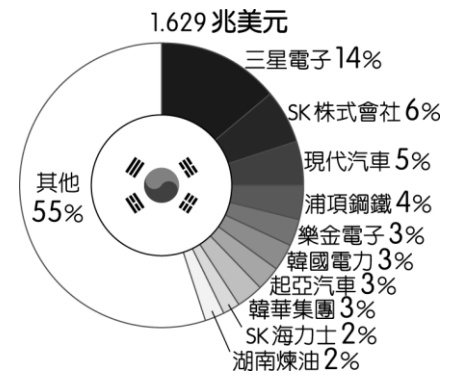
嘉義市立北興國民中學 109 學年度第二學期第一次段考八年級地理科試題卷

一、 單選題：〔每題 2 分，共 50 題〕

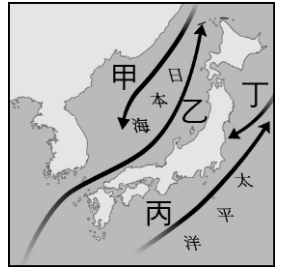
1. 新聞報導：「受到日本海溫度急遽下降影響，西日本各大城市下起暴雪，廣島積雪突破 60 公分，公路臨時關閉，打亂當地交通，連九州最南端的鹿兒島，都出現大風雪，而韓國濟州島則是因為寒流，降雪過多，山區得封山管制。」上述情形主要是受到哪個因素的影響？
(A)東北季風 (B)西北季風 (C)東南季風 (D)西南季風。
2. 日本知名連鎖迴轉壽司店「壽司郎」近日舉辦優惠活動，只要名字叫做「鮭魚」的人就可以免費吃壽司，但活動一推出，不少人紛紛吐槽「笑死，誰會叫鮭魚」、「超沒誠意的活動」。沒想到，最近網路上卻出現不少大學生直接衝到戶政事務所改名叫「鮭魚」，甚至開團揪人從早吃到晚，令網友看傻眼。請問：造成日本人上述食魚文化產生的原因，不包括下列何者？(A)地狹人稠 (B)經濟海域廣大 (C)寒暖流交會 (D)海岸線平直。
3. 「這個國家施行專制獨裁的政體，首都平壤是該國的第一大城，該國有煤、鐵等礦產，再加上鴨綠江豐沛的水力，奠定了工業發展的基礎。」請問：上文所描述的是下列哪一個國家？(A)北韓 (B)南韓 (C)日本 (D)俄羅斯。
4. 有關「國際貿易是日本的經濟命脈」這句話的含義，下列敘述何者正確？(A)日本海岸線曲折多良港，世界各大海港均有日本輪船進出 (B)日本的陸運以鐵路為主，客貨運輸極為繁忙 (C)日本主要工、礦原料均依賴進口，工業產品運銷全球 (D)日本產品價格低廉且品質不差，在國際市場上極具競爭能力。
5. 南韓度過亞洲金融風暴後，國內生產毛額 (GDP) 有顯著的提升，其中文化產業的蓬勃發展功不可沒。韓劇在亞洲的熱賣，提升大韓民族的形象，創造顯著的經濟利益，到南韓的觀光人數大幅增加，連帶著食品、文具和服飾等商品也都跟著熱賣起來。」請問，南韓國內生產毛額的變化，最能呈現出下列哪一種現象？(A)自然資源充足 (B)商品供需平衡 (C)區域統合成功 (D)國民所得增加。
6. 北韓為了對抗 2019 新型冠狀病毒 (COVID-19) 肺炎疫情而關閉與中國接壤邊界，但此項措施卻可能導致北韓的糧食危機加劇。在疫情爆發前，超過 40% 的北韓民眾就已經因營養不良受苦。造成北韓糧食不足的可能原因為何？(A)生長季短 (B)乾燥氣候 (C)土壤貧瘠 (D)富礦產資源。
7. 被登錄為世界文化遺產的富士山，其標高 3,776 公尺，是日本人心目中的第一聖山，也是日本的代表象徵之一。請問富士山位於附圖中的哪個島嶼上？(A)甲 (B)乙 (C)丙 (D)丁
8. 臺灣和日本自然環境相似，皆位於歐亞板塊與海洋板塊的接觸帶上。請問：這種特色造成臺灣與日本具有下列哪項共同點？(A)氣候多變化，農林漁業俱盛 (B)島窄山多，河短流急，中上游利於水力發電 (C)河口沖積平原土地肥沃，人口稠密 (D)海岸線長而曲折，航運發達。
9. 在全球化趨勢下，日本的經濟發展正面臨其他國家競爭。請問：該國目前的工業發展方向主要為下列何者？(A)高勞力工業 (B)低成本工業 (C)高附加價值工業 (D)原物料開採工業。
10. 北韓目前因為下列何種因素的影響，以重工業及軍事工業為發展重點？(A)政治制度 (B)出口貿易 (C)技術進步 (D)勞工眾多。
11. 附圖是日本的蛋包飯及日文發音，由圖可見日本文化具有何種特色？(A)單一性 (B)多元性 (C)傳統性 (D)專業性。
12. 1970 年代起，日本以國際分工方式將勞力密集或低階技術產業外移至中國或東南亞國家，最主要的目的為下列何者？(A)降低進口關稅 (B)降低生產週期 (C)降低生產成本 (D)降低能源耗損。
13. 日本前首相安倍晉三推動多項經濟振興措施，為低迷已久的日本經濟注入一劑強心針。探究日本經濟結構可發現，該國工業發展的最大困境為下列何者？(A)工礦資源缺乏 (B)資金技術不足 (C)交通建設落後 (D)專業人才短缺。
14. 南韓近年來飽受霧霾之苦，引發中韓之間的口水仗，中國生態環境部新聞發言人劉友賓日前表示，首爾污染物主要來源於本地排放，首爾朴元淳直接跳出來打臉，提出數據表示有 60% 的懸浮微粒來自中國。預估這種情況今後會更加頻繁。請問：中國的霧霾是橫渡哪一個海域而到達朝鮮半島？(A)日本海 (B)印度洋 (C)太平洋 (D)黃海。



15. 日本位於環太平洋火山帶，火山活動深刻影響著日本的環境與生活。下列哪一個影響是正確的？
 (A)日本礦產豐富，帶動汽車產業 (B)火山灰的遮蔽影響，日本成了避暑勝地 (C)形成的「溫泉資源，促進日本的旅遊觀光 (D)日本火山土壤肥沃，提升咖啡產量和品質。
16. 朝鮮半島因為天氣寒冷，當地傳統民居韓屋會設置何種設施取暖？
 (A)火爐 (B)溫突 (C)壁爐 (D)電暖器。
17. 附圖是 2019 年南韓前十大企業營收占南韓 GDP 比例圖，由圖中資訊判斷，南韓企業有何特色？
 (A)中小企業居多 (B)個人創業盛行 (C)多為大型財團 (D)實施共產制度。
18. 影響南北韓經濟發展迥異的因素有很多，其中北韓優於南韓的因素是下列何者？
 (A)地形 (B)降水量 (C)生長季 (D)礦產資源。
19. 亞洲面積廣大，四周主要的地形區中，下列哪些地區位於東北亞？(甲)印度半島 (乙)南洋群島 (丙)阿拉伯半島 (丁)日本群島 (戊)朝鮮半島
 (A)甲乙 (B)乙丙 (C)丙丁 (D)丁戊。
20. 日本與中國北部區域同為溫帶季風氣候，但日本終年有雨，而中國北部區域則降水量集中夏季，其主要原因為何？ (A)中國北部區域受到沙漠化影響 (B)日本冬季季風經過海面，富含水氣 (C)日本多山，形成地形雨 (D)中國北部區域受到高壓籠罩
21. 日本由於國內缺乏自然資源及市場因素，依賴海外貿易為主，然而下列何項因素導致該國出現產業外移的現象？ (A)海上交通受限 (B)國內工資上漲 (C)政治動盪不安 (D)關稅貿易障礙。
22. 富士山為日本的聖山，在 2013 年列入世界文化遺產，高度達 3,776 公尺，為日本第一高峰。請問：下列有關富士山的敘述，何者正確？ (A)海陸板塊擠壓陷落所形成 (B)位於日本最大的島嶼上 (C)為亞洲第一高峰 (D)位於環大西洋火山地震帶。
23. 觀光業為日本重要的外匯來源，四季分明的氣候特色讓該國呈現不同的東瀛風情，因此一年內前往該國旅遊的人數可達九百萬人，帶來極為豐富的外匯收入。附圖為日本冬季氣溫分布圖。請問：影響圖中氣溫分布的因素不包括下列何者？ (A)緯度位置 (B)沿岸洋流 (C)地勢高度 (D)經度位置。
24. 南韓政府近年積極在首爾西南方 40 公里處，填海造陸擴建仁川港，希望藉由和中國及其他國家的經貿往來，增加港口的吞吐量。若由地緣關係判斷，南韓政府宜優先考量就近與中國哪一地區合作？
 (A)環渤海地區 (B)廈門經濟特區 (C)珠江三角洲地區 (D)長江三角洲地區。
25. 2019 年 6 月北韓－美國高峰會，又稱川金會，於 2019 年 6 月 30 日在南北韓邊界板門店（共同警備區）南部自由之家舉行，會談雙方為美國總統川普與朝鮮國務委員會委員長金正恩。會議期間，川普短暫踏過分界線走向板門店北部統一閣的方向數十步並於台階前合影。文中的分界線最接近下列何者？ (A)鴨綠江 (B)漢江 (C)北緯 38 度線 (D)北緯 45 度線。
26. 韓劇《愛的迫降》裡，講述了身為南韓大企業家的女主角與身為北韓軍官的男主角相戀，而後因各自國家的國情不同導致兩人經歷種種磨難。關於女主角背後南韓大企業的敘述，下列何者正確？ (A)南韓大企業是因外資的投入而設立 (B)南韓大企業以進口高科技產品為主 (C)南韓大企業的興衰會影響國家經濟 (D)南韓大企業較著重於發展軍事工業。
27. 日本疆域面積不大，陸地面積不到 38 萬平方公里，然可利用的海域面積卻高達 450 萬平方公里。請問：最主要的因素為下列何者？ (A)陸地面積狹長 (B)所屬島嶼廣布 (C)洋流交會影響 (D)沿岸港灣眾多
28. 臺灣和南韓在經濟發展上有很多相似的地方，但也有一些差異，其最大的差異應是下列何者？ (A)南韓經濟成長多由大企業主導 (B)南韓早期主要發展重工業 (C)南韓以工業產品進口為主 (D)南韓礦產豐富，為工業發展的基礎。
29. 1990 年代中期，北韓曾發生饑荒，許多人靠著吃草、抓蟲、嚼樹根才存活下來，因此有許多人逃到一河之隔的中國。造成北韓經濟困頓的主因，與下列何者關係最深？
 (A)因政策發展長期重視軍事工業 (B)北韓國內產業空洞化的情況嚴重，國內產值下滑 (C)因缺乏工礦資源，北韓政府主要發展第一級產業 (D)政府政策以扶植大型財團為主，國內貧富差距大。

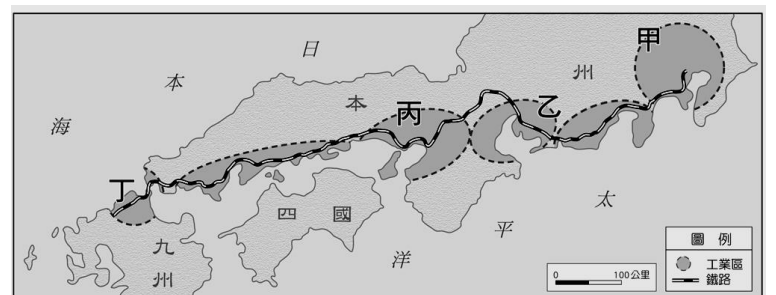


30. 「日本中高齡女性瘋健身。一家會員平均年齡 62 歲的健身中心，已在日本各地展店近 1800 家、擁有 80 萬會員，更創造超過 5000 個工作機會。」就上述內容來看，該篇報導最適合使用下列哪個標題？(A)中高齡人口成消費新主力 (B)日本人口外流相當嚴重 (C)日本扶養比數值降低 (D)日本零售業競爭激烈
31. 在日本，大多數的人口集中在本州島東岸，如東京、名古屋。上述現象的產生，主要是哪項因素所促成的？(A)地形 (B)氣候 (C)水文 (D)洋流。
32. 日本較同緯度的中國、韓國溫暖潮溼，除了日本四面環海，深受海洋調節外，還受到附圖中的哪兩股洋流的調節，冬季氣溫較同緯度亞洲地區溫暖？(A)甲乙 (B)甲丁 (C)乙丙 (D)丙丁
33. 二次大戰後，南、北韓主要是因為何種因素而分裂成兩個國家？
(A)族群糾紛 (B)政治制度不同 (C)宗教歧異(D)資源分享不均。
34. 朝鮮半島的經濟南北互有長短及差異，在農業方面，北韓生長季短，年僅一穫，而南韓生長季長，年可二穫，造成此種差異的最主要影響因素為何？(A)緯度 (B)季風 (C)產業 (D)土壤。
35. 新聞報導：「日前該國試射一枚飛彈，往東飛行約 800 公里後落入日本海，試射的是新研發的『火星 12 號』中長程飛彈，可攜帶大型核彈頭，整個過程由金正恩監督，試射結果非常成功。」由以上內容判斷，這應該是哪個國家所發射的飛彈？(A)日本 (B)北韓 (C)越南 (D)菲律賓。
36. 產業空洞化將導致失業人口增加、工業生產力衰退以及經濟成長延宕。現今面臨上述問題的日本，可用什麼方式減緩產業空洞化？(A)提高國內基本工資，增加國內勞工收入 (B)轉型以第一級產業為主，增加勞力需求 (C)整合特定高科技新興產業，吸引外國資金 (D)大量開採國內豐富礦產，加強工業生產力
37. 新聞報導：「日本最近有一場哈密瓜拍賣大會，兩顆哈密瓜以 150 萬日圓成交，大約新臺幣 41 萬元。」日本極力發展高品質、高價值的精緻農業，與下列哪項因素的關係最密切？(A)氣候溫暖溼潤 (B)農耕肥料價格高 (C)山地多耕地少 (D)人民所得低。
38. 附圖是日本氣象單位發布的某種現象的發生時間預報，根據圖中資料推論，該預報內容應為下列何者？
(A)櫻花盛開時間 (B)颱風過境時間 (C)楓葉轉紅時間 (D)地震發生時間。
39. 日本地區降水量較同緯度的中國多，氣溫也較暖濕，年溫差小，主要原因為何？
(A)多島嶼 (B)地形高聳 (C)日照較長 (D)四周有海洋調節。



《題組一》

日本工業區分布的特點有所謂的「三灣一海」。「三灣」是分別位在東京、名古屋、大阪的港灣；「一海」則為瀨戶內海。附圖是日本主要工業區分布圖，請回答下列問題：



40. 承上題，臺灣也有類似的工業區分布，請問：日本的工業區分布與臺灣哪一工業區位相同？(A)高雄鋼鐵工業 (B)嘉義製糖工業 (C)花蓮水泥工業 (D)科學工業園區。
41. 日本主要工業區多緊鄰什麼海域？(A)黃海 (B)日本海 (C)大西洋 (D)太平洋。
42. 日本主要工業區和工業都市均瀕臨海洋，此反映出日本工業發展上最大的缺點是下列何項？(A)原料缺乏，仰賴進口 (B)嚴重缺乏水力發電 (C)內陸缺乏技術性勞工 (D)陸運運輸不便，國內多仰賴沿海海運。
43. 圖中甲為日本面積最大的工業區，請問甲為下列何者？(A)北九州 (B)瀨戶內海 (C)名古屋 (D)京濱工業區。

《題組二》。

2011年3月11日發生東日本大地震(震央如附圖),帶來海嘯、餘震等災害,受災地區主要集中在日本本州東北部、北海道一帶,死亡人數超過15,000人,為日本歷史上傷亡及經濟損失最慘重的天災之一。請回答下列問題:

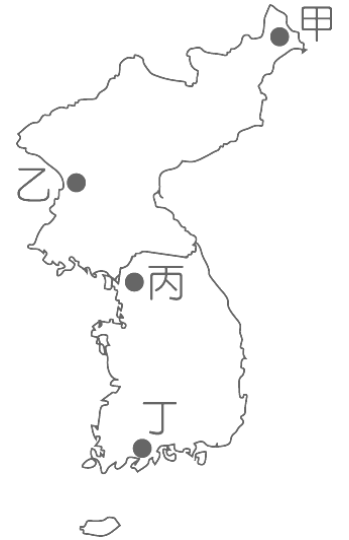
44. 下列哪項物品與日本位在板塊接觸帶上無關? (A)阪神地震明信片 (B) 楓葉標本書籤 (C)泡澡用溫泉粉 (D)富士山造型模型。
45. 日本多地震的原因與哪項位置特性最有關聯? (A)位處季風氣候區 (B) 位處西太平洋戰略位置 (C)位處寒、暖流交會地帶 (D)位處地殼板塊交會處。
46. 東日本大地震引發的海嘯最可能來自哪個海域? (A)太平洋 (B)日本海 (C)黃海 (D)北極海。



《題組三》

說到凱旋門,大家第一個印象一定是法國巴黎。可是你知道嗎?位於北韓首都的凱旋門規模才是世界之冠。該建築物總共用了一萬多塊的花崗石建造,在4根花崗石柱面上,刻有該國領導人金日成的抗日事蹟,並且東面和西面的牆面上有中、韓國界山脈的浮雕,直接呈現該國的特色。請問:

47. 根據上文的敘述判斷,我們若要使用衛星影像圖鳥瞰這座凱旋門,應該對準附圖中何處? (A)甲 (B)乙 (C)丙 (D)丁。
48. 北韓的凱旋門在牆面上所雕刻出的山脈位於中、韓國界上,這座山脈應該為何? (A)長白山 (B)太行山 (C)喜馬拉雅山 (D)大興安嶺。



《題組四》

賞櫻是日本人春季的一大盛事。每年3月起日本氣象廳就會開始做櫻花綻放的日期預報(如右圖),供民眾安排賞櫻活動時的參考。根據右圖回答問題:

49. 從圖中可以看出櫻花是由南向北依序開放。這是受到何種因素影響所造成? (A)雨量 (B)緯度 (C)地形 (D)洋流。
50. 臺灣某家企業想在五月份舉辦員工旅遊,前往日本賞櫻,旅行社提供的套裝行程如下,企劃人員應該選擇哪個行程,才有機會欣賞到櫻花盛開的景象? (A)九州豪斯登堡溫泉五日遊 (B)歡樂東京三大樂園四日遊 (C)幸福北海道六日行 (D)京阪神和風情五日遊。

