

國三地理科試卷

一、 單選題 (共 50 題, 每題 2 分)

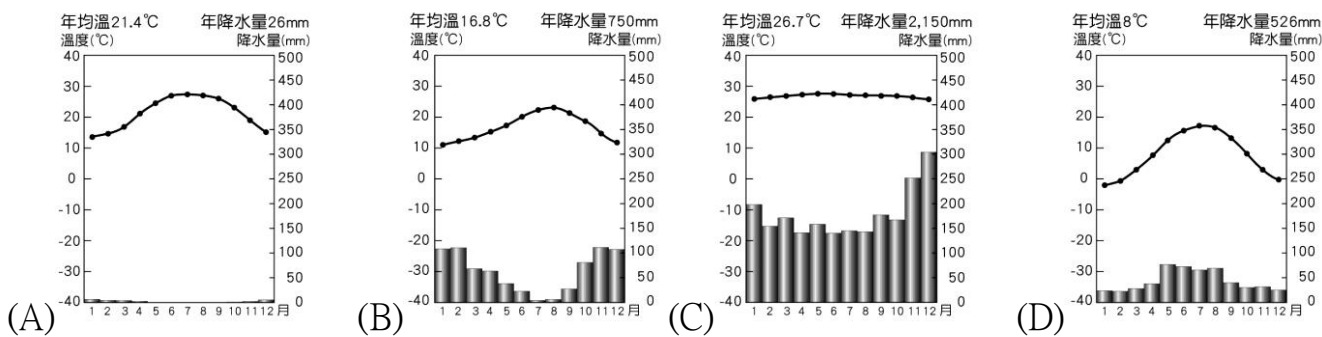
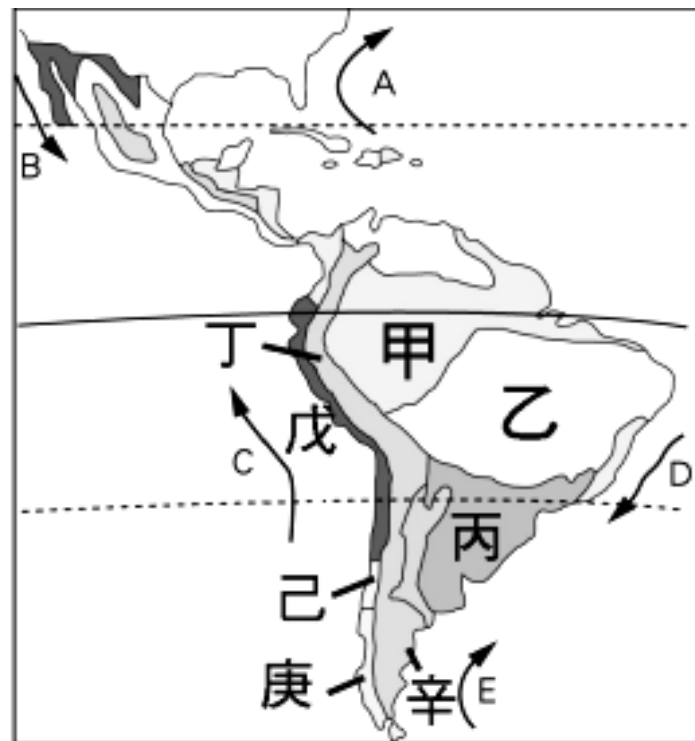
班級:

姓名:

座號:

※右圖為中南美洲的氣候分布圖, 請問:

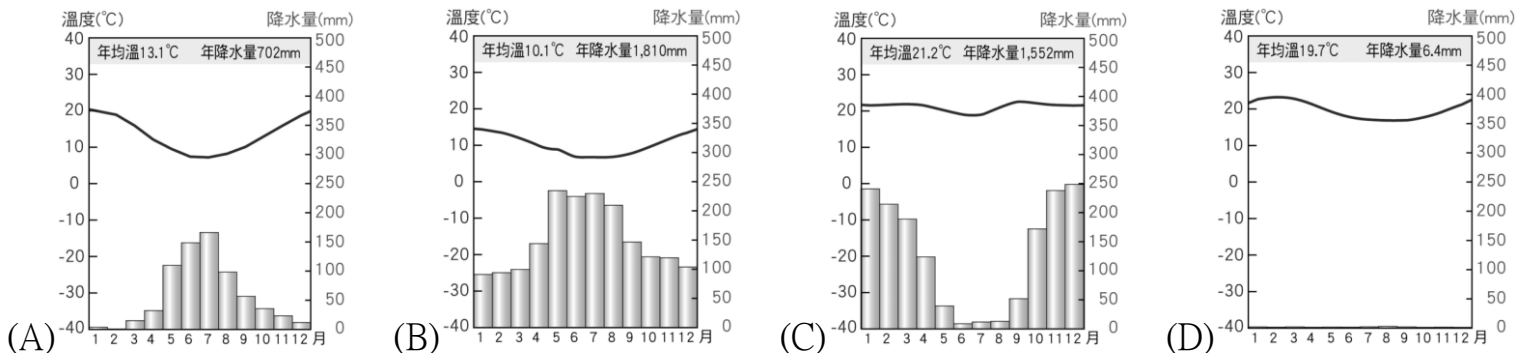
- 對於辛區的敘述, 下列何者錯誤?
(A) 屬於南美洲南端的巴塔哥尼亞高原 (B) 背西風
(C) 沿岸編號 E 洋流為祕魯涼流 (D) 乾燥的溫帶沙漠。
- 乙區的氣候特徵為夏雨冬乾, 當地最可能是下列哪一種氣候類型?
(A) 高地氣候 (B) 熱帶莽原氣候 (C) 溫帶地中海型氣候
(D) 熱帶雨林氣候。
- 承上題, 下列何地「乙」類型的分布面積最廣?
(A) 巴塔哥尼亞高原 (B) 墨西哥高原 (C) 巴西高原
(D) 中美地峽。
- 丁低緯度區有許多重要城鎮, 其主因為何?
(A) 氣候涼爽宜人 (B) 礦產資源豐富 (C) 產業較為多元
(D) 牧業較為發達。
- 甲區有「地球之肺」的稱呼, 有世界流量最大、流域面積最廣的河川流貫其中, 近年來被大肆開發, 許多專家憂心可能影響全球生態。請問: 該河川是指下列哪一河川?
(A) 亞馬孫河 (B) 聖羅倫斯河 (C) 密西西比河 (D) 萊茵河。
- 承上題, 甲區接近下列哪一種氣候類型?



- 甲區地形屬於下列哪一種?



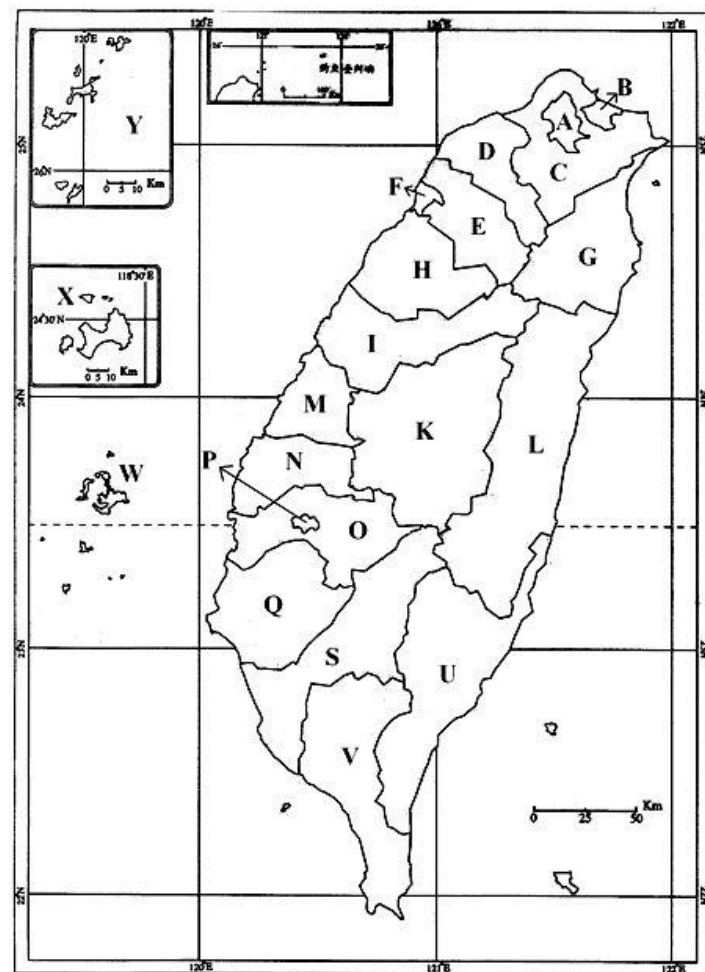
- 要釀成葡萄酒, 最適合的氣溫是在年均溫攝氏十度到二十度。北緯三十度到五十度、南緯二十度到四十度的地區, 被稱為釀酒帶, 是知名的葡萄酒盛產地。果樹並不適合在多雨的地方產果。因為果樹會從土壤中吸取超過本身所需要的水分。為了要將甜度濃縮在果實中, 降雨不那麼豐沛的略微缺水的地方, 反而比較適宜。根據上述, 下列何地最適合生產葡萄酒?
(A) 甲 (B) 乙 (C) 己 (D) 庚。
- 承上題, 小興過年期間購買一罐來自中南美洲的葡萄酒, 其生產國最可能是?
(A) 墨西哥 (B) 智利 (C) 巴西 (D) 義大利。
- 承上題, 請問: 下列哪張氣候圖最能呈現當地的氣候特色?



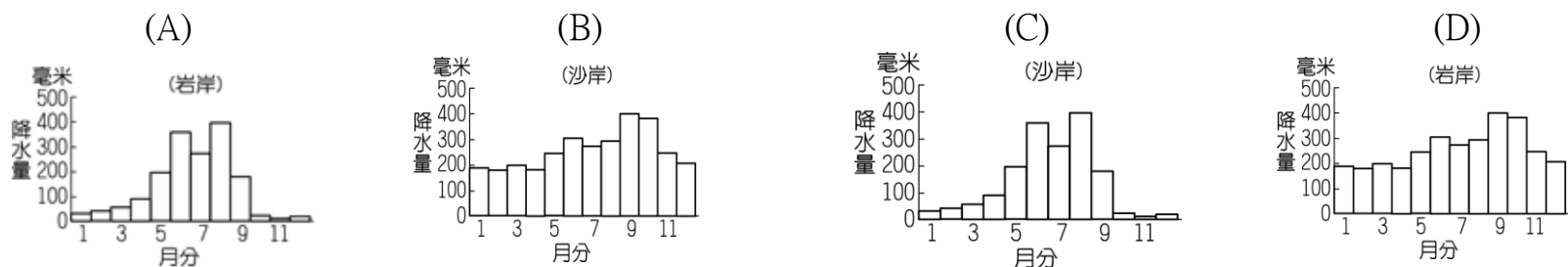
- 承上題, 當地乾季的最主要成因為何?
(A) 赤道低壓靠近 (B) 副熱帶高壓籠罩 (C) 沿岸寒流流經 (D) 背西風。

※右圖為台灣行政區圖，請問：

12. 「地名是一地居民透過對環境的認識，選擇足以代表該地的環境元素，再將這些環境元素轉換成大家認同的文字符號，故愈是微觀尺度的地名，愈與在地人群的生活密切相關。」請問：下列哪一個縣市「壠」、「屋」、「窩」為名的地名出現次數最少？(A) O (B) S (C) H (D) D。
13. 承上題，此地名用詞應為哪一族群的常用詞？(A)閩南人 (B)日本人 (C)客家人 (D)原住民。
14. 臺灣○○縣境內北有濁水溪，西有清水溪，東側環山，地勢險要，又是通往東臺灣及八通關古道的交通要道。根據日本地名學者安倍明義的說法：「○○坪東界一帶，山峰毗連，入夜雲霧深濃，呈關閉森林的形勢，故名。」請問：上文中的○○縣應是下列何者？(A)雲林縣 (B)花蓮縣 (C)屏東縣 (D)宜蘭縣。
15. 承上題，○○縣位於右圖何處？(A) L (B) V (C) E (D) N
16. 承上題，上文提及的山峰最可能屬於下列哪一座山脈？(A)雪山山脈(B)海岸山脈(C)中央山脈(D)阿里山山脈。
17. 「G」該行政區的地名是由當地原住民族的族名簡化而來，依其位置判斷，該原住民族應為下列哪一個族群？(A)阿美族 (B)西拉雅族 (C)泰雅族 (D)噶瑪蘭族。
18. 阿甲前往臺灣某鄉鎮旅行，並寫了以下遊記：「此鄉鎮久以文旦聞名，而該鄉鎮的名稱由來與該地早期的平埔族有關，為眼睛的意思。中秋節前後來到這裡大啖甜美的文旦、白柚，順便享受這裡熱情的陽光。」請回答下列問題。阿甲所前往的鄉鎮最有可能位於右圖中何處？(A)V (B)E (C)G (D)Q。
19. 承上題，文中所提到的平埔族最可能是下列何者？(A)阿美族 (B)噶瑪蘭族 (C)西拉雅族 (D)鄒族。
20. 「W」之名稱由來，與當地地勢低平和島嶼周圍的水域平靜如「湖」，有關。請問：造成當地地勢低平的主要原因為下列何者？(A)火山作用 (B)河流沖積 (C)冰河侵蝕 (D)海水堆積。
21. 下列是就讀嘉義大學的四位同學對於自己家鄉的介紹，請問：哪一位同學的介紹有錯誤？(A)班長：我家住在Q市玉井區，舊名「噍吧嘓(Tapani)」發音接近日語的玉井(Tamai)而命名，盛產熱帶水果--芒果 (B)學藝：我的家鄉位於U縣池上鄉，有台灣後花園美名，境內因有天然湧泉的大坡池，而命名為池上，盛產優質的稻米 (C)康樂：我家位於O縣，以前國民政府為「紀念」傳說的吳鳳「捨身取義」的義舉為由，將家鄉命名為「吳鳳鄉」，是後來台灣原住民族傳統文化意識抬頭才改為阿里山鄉 (D)總務：我的家鄉位於L縣六甲區林鳳營，以林鳳營鮮奶聞名，六甲的地名由來與鄭成功拓墾時期的土地面積計算有關，林鳳營則是鄭氏名將林鳳將軍駐軍屯田的地方。
22. 臺灣某行政區內出現許多如鹽埕、鹽埕埔等，與傳統晒鹽、製鹽產業有關的地名，顯示此地過去的傳統產業。請問：該行政區最可能是？(A) G (B) U (C) C (D) S。
23. 承上題，該行政區的海岸與降水量最可能是？



台灣行政區圖



24. 烏來位於新北市烏來區，境內山高谷深，當地原住民族多為泰雅族人，因而設有烏來泰雅民族博物館，展覽該族相關的文物風俗。相傳三百多年前，該族族人狩獵至此，發現南勢溪冒出熱水與輕煙，齊呼「Kiluh-ulay」，意為冒煙的熱水，這就是烏來地名的由來。請問：烏來位於上圖何處？(A)E (B)B (C)C (D)D。
25. 承上題，烏來名稱的由來與下列何者有關？(A)人文設施 (B)外來語言 (C)地緣關係 (D)原住民族語。
26. 承 24 題，「烏來位於新北市烏來區，境內山高谷深……」判斷烏來最可能屬於下列哪一座山脈？(A)雪山山脈 (B)玉山山脈 (C)中央山脈 (D)阿里山山脈。
27. 承 24 題，文中「冒出熱水與輕煙」的溪流應是哪一流域？(A)高屏溪(B)濁水溪(C)秀姑巒溪(D)淡水河。

※地名即一個地區的名稱。地名的形成，受該地的地理、歷史、民族和語言所影響，是社會發展的產物。地名可被視為一種「活化石」，了解該地區的環境發展和變遷。其中拉丁美洲地名命名原則分成以下四類型：

第一類是以原住民語命名。例如：當地的阿斯特克（Azteca）人崇拜的戰神別名叫“墨西特裡”，這就是墨西哥（México）名字的來源，意思是“墨西特裡臣民居住的地方”。他們居住在美洲文明另一個發祥地——秘魯（El Perú）的原住民自曠古時代起就從事農業生產勞動並逐漸創造了“〇〇文明”，“秘魯”就是美洲原住民語中“〇〇之倉”或“大〇〇穗”的意思。

第二類是以殖民者語言命名，當時歐洲殖民者一手持劍一手持十字架踏上這片土地，這些地名忠實地記載了殖民主義者當初的探險活動。例如：殖民者來到委內瑞拉西北部的馬拉開波湖附近，看到這裡水光瀲灩、景色旖旎，印第安人房子多采用吊樓形式建築在湖面上，很像著名的義大利水上城市威尼斯，便取名委內瑞拉（Venezuela），意即“小威尼斯”。1500年4月22日，X X X航海家率領的船隊在巴西上岸後，立即宣布這塊土地為X X X國王的屬地，並在岸上豎起了十字架，取名為“聖十字地”。為了尋找黃金而來的殖民者沒有在這裡找到黃金，卻發現了一種高大名、貴的紅木，從中可以提煉出一種當時被認為十分貴重的紅色染料。巴西就是這種紅木的譯音。因為巴西紅木幾乎是當時唯一出口的物資，殖民者競相采伐這種樹木，於是“巴西”就逐漸代替了“聖十字架”這個名字。

第三類是以人名命名。哥倫布是歐洲第一個航行到達美洲的航海家，被人們推崇為新大陸的發現者，哥倫比亞（Colombia）就是為紀念他而定名的。在長達三個世紀的殖民統治時期，拉丁美洲各國人民不畏強暴，奮勇鬥爭，追求獨立，因此湧現了一大批傑出領導人，拉丁美洲的不少地名也就因此而來，如玻利維亞（Bolivia）就是為紀念十八世紀初期獨立戰爭中的“解放者”玻利瓦爾而得名。智利的首都聖地牙哥（Santiago）在拉丁文即「聖雅各」（耶穌十二使徒之一）之意。

第四類是以地理位置或其它特征命名。例如：赤道橫貫了厄瓜多（El Ecuador）的國境，所以拉丁文中以赤道（ecuador）作為國名，因此該國又有「赤道國」的別稱。請依據上文敘述回答28~42題：

28. 拉丁美洲地名命名原則第一類是指下列哪一民族？

(A)印第安人 (B)因紐特人 (C)毛利人 (D)猶太人。

29. 墨西哥（México）名字的來源，意思是。請問：“墨西特裡臣民居住的地方”是指右圖何地？

(A)壬 (B)乙 (C)戊 (D)辛。

30. 承上題，墨西特裡臣民居住的地方是指哪一種地形為主？

(A)高原 (B)平原 (C)峽灣 (D)谷灣。

31. 承上題，目前墨西特裡臣民加入美墨加協定(USMCA)，臣民憑藉其廉價勞力與關稅減免的優勢，大量設立下列何種類型的工業區，發展第二級產業？

(A)經濟特區 (B)加工出口區 (C)科學園區 (D)濱海工業區。

32. 承上題，到當地旅遊最可能遇到下列哪一種狀況？

(A)參觀印加古文明的廢墟 (B)與高大的仙人掌合照 (C)與融合葡萄牙、印第安等風格的森巴舞者共舞 (D)搭乘蘆葦編制的船隻，參觀湖泊上一樣由蘆葦編制的浮島。

33. 第二類是以殖民者語言命名，該語言最不可能下列何者？

(A)葡萄牙語 (B)義大利語 (C)俄語 (D)西班牙語。

34. 『當時歐洲殖民者一手持劍一手持十字架踏上這片土地』，是指何種宗教傳入當地？

(A)佛教 (B)天主教 (C)印度教 (D)伊斯蘭教。

35. 文中提到『秘魯（El Perú）自曠古時代起就從事農業生產勞動並逐漸創造了“〇〇文明”，“秘魯”就是美洲原住民語中“〇〇之倉”或“大〇〇穗”的意思。』請問：〇〇最可能是哪一種糧食作物？

(A)橄欖 (B)甜菜 (C)咖啡 (D)玉米。

36. 文中提到『丁國委內瑞拉西北部的馬拉開波湖附近，很像著名的義大利水上城市威尼斯，便取名委內瑞拉（Venezuela），意即“小威尼斯”』請問：馬拉開波湖與威尼斯相似的地理環境最可能是何者？

(A)瀉湖地形 (B)氣候全年有雨，易淹水 (C)盛產咖啡 (D)曾建立高度文明的古老王國。

37. 文中提到『X X X航海家率領的船隊在巴西（El Brazil）上岸後，立即宣布這塊土地為X X X國王的屬地，取名為“聖十字地”』，請問：航海家登陸地是指右圖何地？

(A)甲 (B)乙 (C)戊 (D)己。

38. 承上題，X X X國王是指？(A)西班牙 (B)葡萄牙 (C)義大利 (D)英格蘭。

39. 根據第四類命名推論，若沿著厄瓜多（El Ecuador）向東繞行地球一圈，應不會通過哪一個地理區？

(A)西印度群島 (B)東非高原 (C)亞馬孫盆地 (D)安地斯山脈。

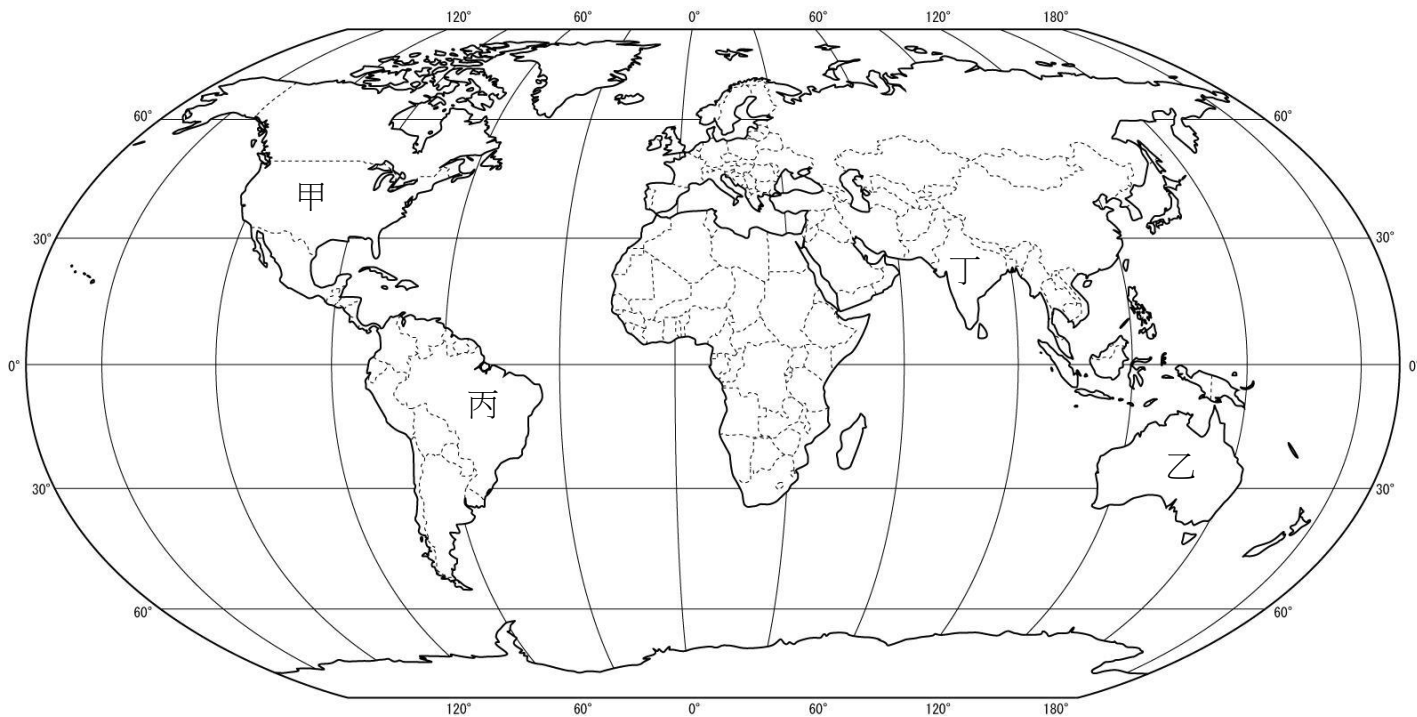


40. 文中提到『殖民者沒有在這裡找到黃金，卻發現了一種高大名、貴的紅木，從中可以提煉出一種當時被認為十分貴重的紅色染料。巴西就是這種紅木的譯音。因為巴西紅木幾乎是當時唯一出口的物資，殖民者競相采伐這種樹木，於是“巴西”就逐漸代替……』請問：上述巴西的命名原則，與下列台灣哪一組地名最相似？
 (A)東石、台西 (B)溪口、雙溪 (C)關廟、馬公 (D)芎林、桃園。
41. 下列哪一個台灣地名的命名方式與智利首都最相似？
 (A)鶯歌 (B)三貂角 (C)宜蘭 (D)嘉義。
42. 承上題，智利首都的地名命名者，來自下列哪一個半島？
 (A)伊比利半島 (B)義大利半島 (C)巴爾幹半島 (D)斯堪地那維亞半島。

※許多在地生產者會直接將地名當成品牌，標示於商品包裝上作為產品行銷方式。請問：

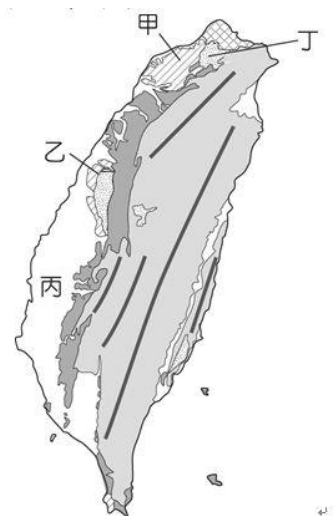
43. 對於右圖各國商品的介紹，下列何者正確？

(A)摩卡咖啡的名字起源於位在紅海海邊的甲國小鎮摩卡。這個地方在15世紀時壟斷了咖啡的出口貿易，特別是對阿拉伯半島區域的咖啡出口貿易影響特別大 (B)濱臨地中海的乙國對於披薩 (Pizza) 是非常嚴謹的，因該國南部的美食之都拿坡里 (Napoli) 就是披薩的發源地 (C)根據法律，只有在時尚之國--丙的香檳區，採用指定的葡萄品種，並且根據指定的生產方法流程所釀造的氣泡酒，才可標註為香檳 (D)阿薩姆紅茶出產於丁國東北部的阿薩姆邦，位於東喜馬拉雅山南麓，以濃稠、濃烈、麥芽香、清透鮮亮而出名。



44. 承上題，在地生產者會直接將地名當成品牌，這種方式可能有下列哪些優點？(甲)增加生產者商機 (乙)壟斷市場，強調獨特性 (丙)提高產品附加價值 (丁)有利消費者辨識 (戊)建立產品明確形象。
 (A)甲乙丙丁 (B)甲乙丙戊 (C)甲丙丁戊 (D)乙丙丁戊。

45. 臺灣有許多地名與甘蔗製糖的舊式製糖廠「糖廊」有關，如「廊子」、「廊後仔」……等。由臺灣甘蔗分布的地理環境來推論，右圖哪一地形區會出現最多這類的地名？ (A)甲 (B)乙 (C)丙 (D)丁。



46. 臺灣地名的由來，常依氣候、地形、墾殖、血緣等原則來命名。請問：「大湖」、「中埔」、「大坪頂」、「竹崎」四地是以下列哪一項共同原則來命名？
 (A)氣候 (B)地形 (C)墾殖 (D)血緣。

47. 小興住家的地址是：嘉義市 西區 湖子內路 ○○號，該住址與下列哪一個命名來源最無關？
 (A)方位 (B)原住民語 (C)自然環境 (D)皇帝賜名。

48. 紐約 (英語：New York) 意為「新約克」，約克則是英國一處地名。當地來自英國約克郡的新移民們為了紀念當時的約克公爵，故得此名。請問：下列哪一組台灣地名，與紐約地名由來最相似？
 (A)恆春、雙溪 (B)東石、潮州 (C)竹崎、義竹 (D)鹽埕、樟腦寮。

49. 臺灣的地名文化多元，除了原本居住的族群外，地名也會因主政者、移居者或人民意識抬頭，而有所改變。請問：下列哪一個地名的演變，其出現的時間最早？
 (A)諸羅改名為嘉義 (B)錫口改名為松山 (C)水返腳改名為汐止 (D)三民改名為那瑪夏。

50. 臺灣在古書中曾被記為「大員」，當時大員附近地理環境為沙洲與外海相隔的平靜海域，請問：當時大員最可能位於右圖何處？
 (A)甲 (B)乙 (C)丙 (D)丁。

