

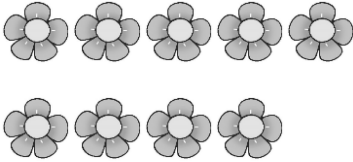
臺南市海佃國小一一〇學年度第二學期第一次成績評量數學試卷

____年____班 座號____ 姓名_____

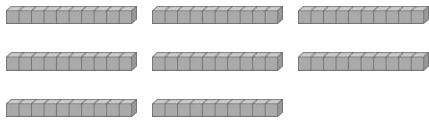
一、看圖填一填：每答2分，共38分

(1) 數一數，共有多少？

共有 () 片花瓣



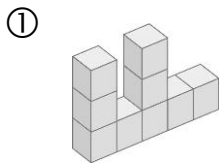
(2)



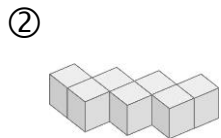
() 個十和 () 個一，合起來是 ()。

十位	個位

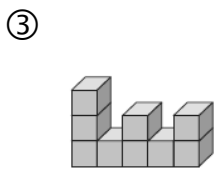
(3) 下面的形體是用幾個堆成的？



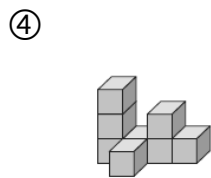
() 個



() 個



() 個

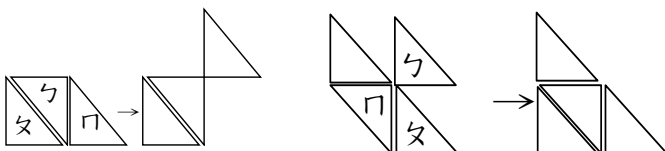


() 個

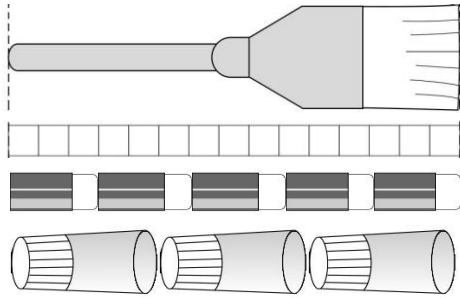
(4) 移動哪片三角形圖卡，才能變成右邊的圖形？(填代號)

① 移動 ()

② 移動 ()



(5) 數一數，有多長？



① 1把刷子和 () 個一樣長

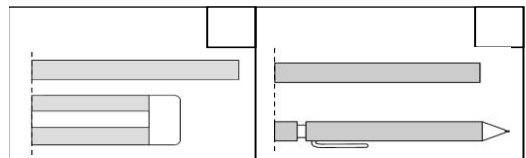
② 1個橡皮擦和 () 個一樣長

③ 1瓶膠水和 () 個一樣長

④ 1個橡皮擦比1瓶膠水少 () 個。

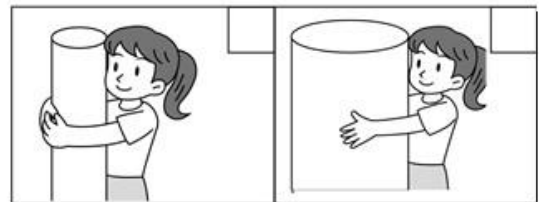
(6) 用一樣長的繩子比比看，哪一個文具比較短？

在 中打 (2分)

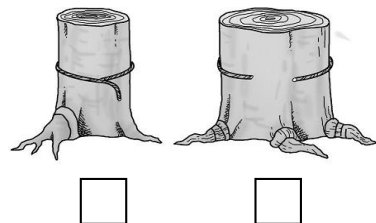


(7) 比比看，圍一圈的長度比較長的，在 中打 ：

① 同一個人抱柱子 (2分)



② 同一條繩子圍樹幹 (2分)



二、想一想、寫一寫：每答2分

- (1) $6+6=12$ (2) $16-8=8$
 $6+5=(\quad)$ $16-7=(\quad)$
 $6+7=(\quad)$ $16-6=(\quad)$
- (3) $(\quad) \rightarrow 51 \rightarrow 50 \rightarrow (\quad) \rightarrow 48$
- (4) $27 \rightarrow 37 \rightarrow (\quad) \rightarrow 57 \rightarrow (\quad)$
- (5) 「六十九」記作 (\quad)
- (6) 「100」讀作 (\quad)
- (7) 炭治郎和禰豆子排隊上火車，炭治郎排在第59個，禰豆子排在第61個，誰會先上車？ (\quad)

- (8) 按照下面的條件，寫出比72小的數。

十位	個位
	2

- (9) 花園裡有6隻蝴蝶，8隻蜜蜂，蜜蜂比蝴蝶多幾隻？圈出正確的算式：

- $6+8$ $6-8$ $8-6$

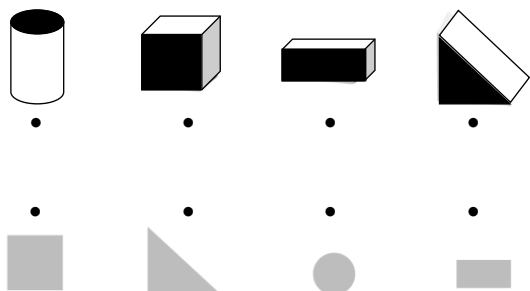
三、連一連：每答2分，共16分

- (1) 把答案相同的算式連起來

- $7+6$ $11-8$ $13-6$ $9+6$

- $12-9$ $8+5$ $7+8$ $12-5$

- (2) 下面物品塗色的面，印出是哪一種圖形？連連看。



四、把做法用算式記下來：

每題4分，共20分

- (1) 花園裡開了14朵四季海棠，紅色有6朵，其他是白色，白色有幾朵？

算式：

(\quad) 朵

- (2) 校園裡有17棵大花紫荊，小葉欖仁比大花紫荊少8棵，小葉欖仁有幾棵？

算式：

(\quad) 棵

- (3) 一塊橡皮擦9元，炭治郎買了2塊，請問炭治郎買橡皮擦花了幾元？

算式：

(\quad) 元

- (4) 集15張獎卡，可以抽獎。禰豆子已經有7張獎卡，她還要再集幾張獎卡，才可以抽獎？

算式：

(\quad) 張

- (5) 胡蝶忍在「布可星球」挖礦，上個月挖了5本書，這個月比上個月多挖了9本書，請問胡蝶忍這個月挖了幾本書？

算式：

(\quad) 本