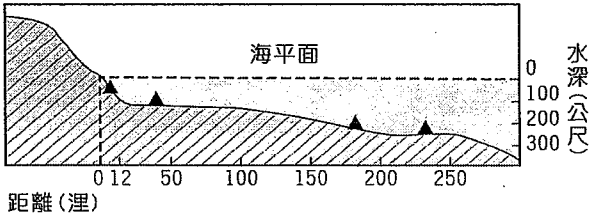
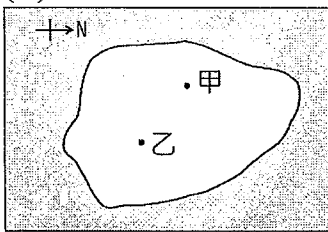


每題2分，共16題

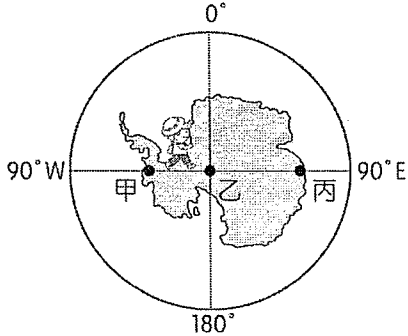
1. 下圖為某一國家沿海地形剖面示意圖，▲記號為油氣蘊藏區的位置。若依「領海及經濟海域」的畫分方式判斷，這個國家在本圖中擁有幾個油氣蘊藏區的開採權？(A)1 (B)2 (C)3 (D)4。



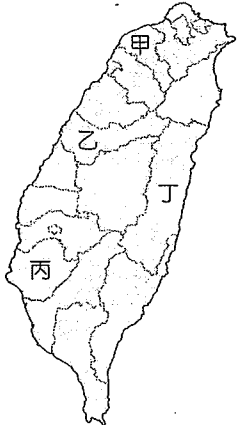
2. 阿肥由圖中甲地出發，要前往乙地阿傑家，他應朝著哪一個方向前進？(A)東南方 (B)西北方 (C)東北方 (D)西南方。



3. 小強三兄弟計畫到南極洲探險，路線是由下圖中的甲點出發，直線前進經乙點至丙點。根據下圖經緯座標系統判斷，下列對他前進方向的敘述，何者正確？(A)從甲點至乙點為向東前進 (B)從甲點至乙點為向南前進 (C)從乙點至丙點為向東前進 (D)從乙點至丙點為向西前進。

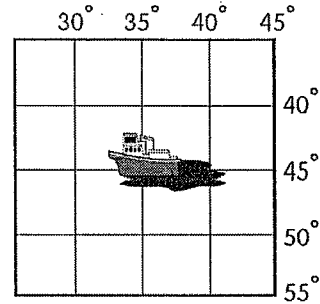


4. 內政部發布2017年至7月底的人口統計資料，台中市人口數達277萬8182人，首度超越高雄市277萬7873人，人口僅次於新北市，成為全國第二大都市。請問台中市位於下圖中的何處？(A)甲 (B)乙 (C)丙 (D)丁。

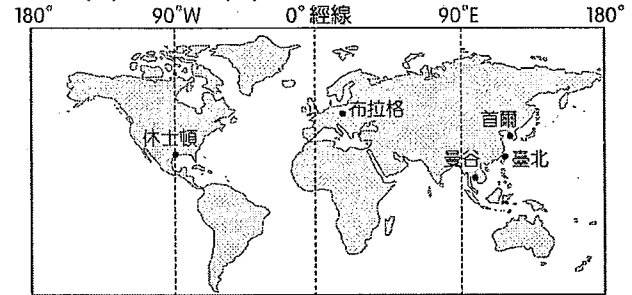


5. 章魚哥駕駛的船隻發生嚴重漏油，於是發出 SOS 求救訊號。請問：該船發生事故的絕對位置是下列何者？(A)西經35度，南緯45度 (B)東經35度，南緯

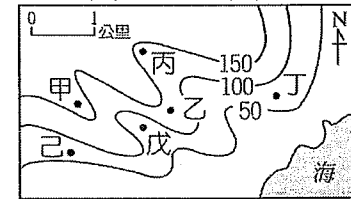
45度 (C)西經35度，北緯45度 (D)東經35度，北緯45度。



6. 下圖是居住在台北的老皮暑假想要去旅遊的都市，請問哪一個都市和台北的時差最大？(A)首爾 (B)休士頓 (C)曼谷 (D)布拉格。



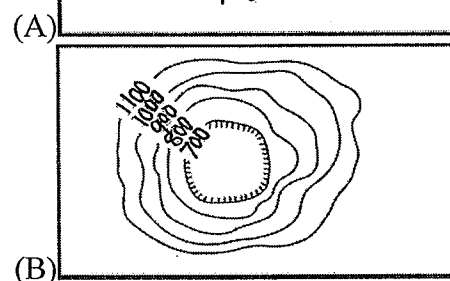
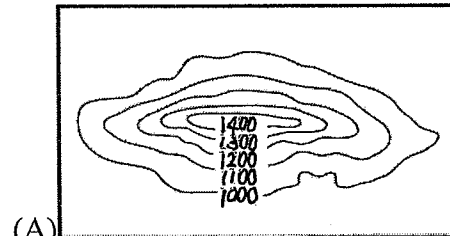
7. 泛舟哥想利用颱風天去泛舟，請問下圖中甲~己，何者是河谷，可以讓泛舟哥完成心願？(A)甲丙 (B)乙丁 (C)丙戊 (D)戊己。

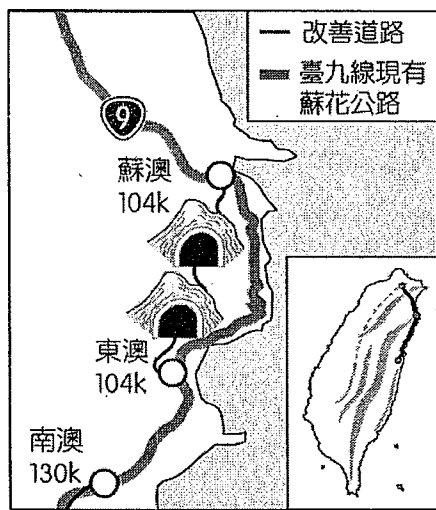
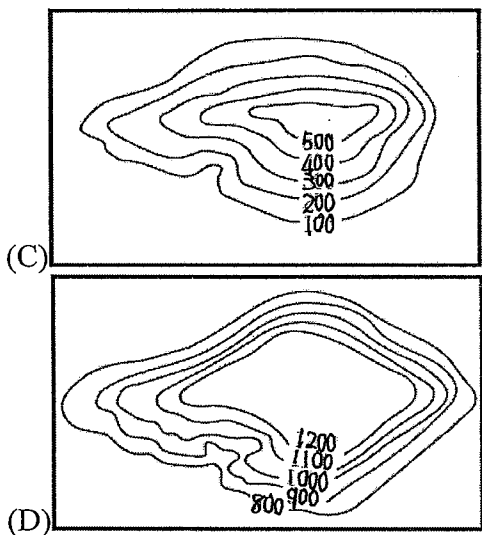


8. 阿肥想要攀登台灣第一高峰，請問他應該前往下列哪一座山脈？(A)中央山脈 (B)玉山山脈 (C)雪山山脈 (D)海岸山脈。

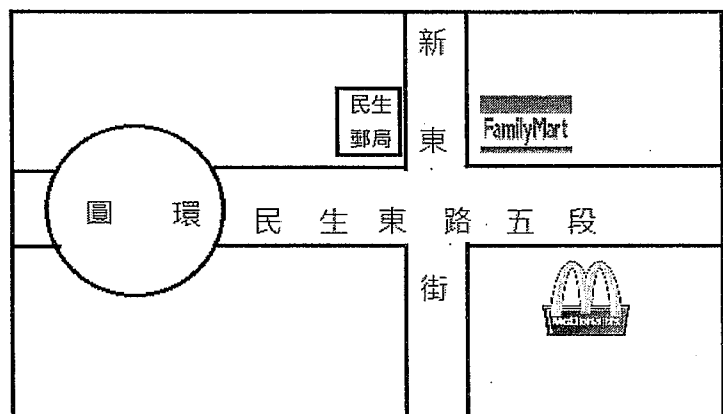
9. 舉世聞名的太魯閣峽谷是地層抬升加上河川侵蝕切割而成，由此可知太魯閣峽谷的成因包含下列哪些作用力？(A)只有內營力 (B)只有外營力 (C)內營力和外營力都有。

10. 下列四個等高線地形圖中，何者最適合用來表示台北盆地的地形？





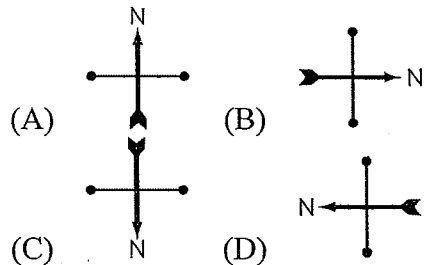
※下圖是民生國中附近街道圖，阿肥和網友小強三兄弟約在民生郵局的門口見面，請問



11. 小強三兄弟為了怕阿肥找不到他們，特別詳細描述了郵局的位置，其中哪一個描述屬於「絕對位置」？  
 (A)民生郵局位於新東街和民生東路五段交會口 (B)民生郵局在圓環旁邊 (C)民生郵局位於賣東勞的斜對面 (D)民生郵局位於全家便利店的對面。

12. 繪製此種類型的地圖採用下列哪一種比例尺比較合適？  
 (A)1:2000 (B)1:200000 (C)1:500000 (D)1:1000000。

13. 小強三兄弟和阿肥往西走了約十分鐘到圓環附近的星巴克喝咖啡，由此判斷，下列何者為此圖的正確方位？



※連接蘇澳到花蓮的蘇花公路在今年端午連假期間因豪雨坍方，道路中斷，導致許多民眾被迫環島繞南迴公路甚至搭船才能返回台北，請問：

14. 政府為了改善蘇花公路的路況，提出了蘇花公路改善工程計畫，改善工程需鑿隧道穿越山脈，由下圖判斷此工程穿越的山脈應是下列何者？ (A)雪山山脈 (B)阿里山山脈 (C)玉山山脈 (D)中央山脈。

15. 由於蘇花公路中斷，許多民眾改搭船返回台北，請問由花蓮開往台北的船舶應是航行於下列哪一個海域上？ (A)臺灣海峽 (B)巴士海峽 (C)太平洋 (D)東海。
16. 未來蘇花公路改善工程完工後，將有利於下列哪兩個地形區之間的交通往來？ (A)宜蘭平原——花東縱谷平原 (B)臺北盆地——桃園台地 (C)花東縱谷平原——屏東平原 (D)新竹丘陵——宜蘭平原。

17. 2017 年 4 月，立法院通過動物保護法修正案，食用貓肉、狗肉會被處以罰鍰；故意傷害、殺害動物，其刑責會提高。請問立法院的舉動是在喚醒人們對生命的何項態度？
- (A) 接納生命的無常  
(B) 欣賞生命的獨特性  
(C) 延續生命的價值  
(D) 平等尊重萬物生命。
18. 阿昴擔心自己生了重病而負擔不起醫療費，便向保險公司購買醫療險，以備不時之需。請問阿昴的行為是在滿足何項需求？
- (A) 生理需求  
(B) 安全需求  
(C) 尊重需求  
(D) 自我實現需求。
19. 舉重選手郭婞淳在 2017 年的世界大學運動會時，挺舉第一次試舉就已獲得金牌，剩下兩次試舉他還是堅持繼續挑戰極限，最後締造了 142 公斤的世界紀錄。請問郭婞淳的行為是在滿足何項需求？
- (A) 生理需求  
(B) 安全需求  
(C) 尊重需求  
(D) 自我實現需求。
20. 下列針對馬斯洛的需求理論所提出的解釋，何者正確？
- (A) 先滿足高層次需求，才會尋求更低層次的需求滿足。  
(B) 五個需求層次依照順序，其排列為生理、安全、尊重、愛與歸屬、自我實現。  
(C) 個人需求無法滿足時，會影響其身心發展，有時就需要他人的協助，藉此滿足需求。  
(D) 雷姆提出的意見受到公司長官的重視，這就是雷姆在自我實現層次上的滿足。
21. 2017 年一群荷蘭研究人員在分析大量資料後，發現人類的壽命是有極限的。男性的壽命極限為 114.1 年，比女性的 115.7 年少 1.6 歲。該研究證明生命具有何種特性？
- (A) 有限性  
(B) 獨特性  
(C) 無常性  
(D) 不可回逆性。

\*請依下文回答 22. ~23. 題：

24 歲在旅行社上班的余秀芷，某天下班準備回家時，突然感覺腰部一陣酸痛，就醫後只是坐骨神經痛。三天後病情開始惡化，到了病房後，雙腳逐漸失去知覺，下半身已經癱瘓。

余秀芷對自己的人生一度感到絕望，但在家人的鼓勵下，她開始積極復健並開始寫書。也到各級學校去分享她的經驗。她告訴自己，這一切都是為了自己重新站起來的那天做準備，不管那天會不會到來，她都會樂觀積極的走下去。

22. 余秀芷在 24 歲時遭遇的狀況，說明了生命具有哪一種特性？
- (A) 有限性  
(B) 獨特性  
(C) 無常性  
(D) 平等性。
23. 余秀芷從癱瘓到後來積極的作為，表示她完成了哪一項課題？
- (A) 認識自我  
(B) 肯定自我  
(C) 展現自我  
(D) 超越自我。
24. 下列何者屬於「生理性別」的範疇？
- (A) 女性的骨盆較寬。  
(B) 男性的頭髮較短。  
(C) 女性較為溫柔、感性。  
(D) 男性的數理邏輯能力較女性好。
25. 庫爾修回憶以前的高中女校生活時，媽媽常叫她留長髮、多穿裙子，才能展現自己的氣質。請問這是透過何種途徑來傳達性別角色？
- (A) 家庭  
(B) 學校  
(C) 同儕團體  
(D) 傳播媒體。
26. 下列何者符合性別偏見的概念？
- (A) 男生的個性比較強悍。  
(B) 女生要肩負養家的責任。  
(C) 女生會懷孕，所以薪水要比男生少。  
(D) 女生開車的技術就是比男生差。

27. 拉姆在人力銀行尋找工作機會，發現有一則徵人啟事具有明顯的性別歧視。該徵人啟事可能是下列何者？
- (A) 誠徵電競選手，高中職畢業者月入 28000 元，大學畢業者月入 34000 元。
  - (B) 誠徵女性幼保員，月入 32000 元，限單身。
  - (C) 徵專業管家，月入 50000 元，具相關工作經驗者尤佳。
  - (D) 徵專業會計，月入 40000 元，需有會計師證照。
28. 自 2016 年底，部分家長認為學校的性別平等教育內容未經他們審核，要求學校不可針對其孩子施行性別平等教育。若校方聽從家長的指示，可能會違反下列哪一部法令？
- (A) 民法
  - (B) 性騷擾防治法
  - (C) 性別工作平等法
  - (D) 性別平等教育法。
29. 公民國中的廖阿杰老師在公車上強行撫摸同校學生的屁股。請問該性騷擾事件要依下列哪項法律來處理？
- (A) 民法
  - (B) 性騷擾防治法
  - (C) 性別工作平等法
  - (D) 性別平等教育法。
30. 在夜店林立的東區，有民眾因為喝了太多酒而醉倒在路邊。有心人士便擅自將這些無意識的民眾帶至旅館，趁其神智不清時與其發生性行為。整個過程被稱為「撿屍」。請問「撿屍」的行為屬於下列何者？
- (A) 性別刻板印象
  - (B) 性別歧視
  - (C) 性侵害
  - (D) 性騷擾。
31. 孩子的姓氏由父母共同決定；子女監護權依照子女最佳利益來判定；男性女性皆有平等繼承遺產的權利；女子結婚後可保有本姓而不必冠夫姓……上述強調性別平等的法規，皆是出自下列何部法律？
- (A) 民法
  - (B) 性騷擾防治法
  - (C) 性別工作平等法
  - (D) 性別平等教育法。
32. 立法委員陳明文強摟嘉義縣長張花冠的肩膀，張花冠表示對此舉動感到非常不舒服，便到警局控告陳明文。請問警方要依下列何部法律處理？
- (A) 民法
  - (B) 性騷擾防治法
  - (C) 性別工作平等法
  - (D) 性別平等教育法。
33. 最近台北市中山女中爆發男教師性騷擾多位女學生之事件，該校的學生、家長、教師都有不同的看法。請問下列何項看法較具有性別平等意識？
- (A) 女同學要潔身自愛，才能避免被性騷擾。
  - (B) 應該將加害者與受害者的姓名公布，才能避免事件重演。
  - (C) 事件發生後，校方除了懲處加害者外，對受害者的關注與輔導更應持續進行。
  - (D) 女校不應聘任男教師，以減少性騷擾發生的機會。

# 台北市立民生國中 106 學年度第一學期七年級歷史（康軒）第一次段考

## 一、單題：(每題 2 分)

- 34 ( ) 明穎在歷史課上對某一原住民族作以下的介紹：「這一族在家庭制度上屬於父系社會，紋面是他們的成年禮，男子要很會狩獵，女子要精於耕織，才可以紋面。」請問：明穎是在介紹哪一原住民族？  
 (A)布農族 (B)泰雅族 (C)卑南族 (D)阿美族。
- 35 ( ) 琬淇接著上台報告另一族群的社會制度：「婚姻上，男子以入贅女方家為原則；氏族姓氏的繼承以女子為主；財產的繼承是母傳女……」琬淇的解說，最不可能下列哪一族群的介紹？  
 (A)西拉雅族 (B)排灣族 (C)阿美族 (D)凱達格蘭族。
- 36 ( ) 秉佑發現澎湖在臺灣史上有許多的第一，整理有關漢人在澎湖的發展，下列敘述，何者錯誤？  
 (A)元代在澎湖設置巡檢司，是設官開始，也是將澎湖納入版圖的開始。  
 (B)明代為了防禦倭寇，實施海禁，禁止人民從事海上活動  
 (C)臺澎地區第一座媽祖廟—馬公天后宮，相傳在明代時創建於澎湖。  
 (D)17世紀後期，海商顏思齊以此為據點活動，並帶領漢人在此開墾。
- 37 ( ) 如果在同一區域地層中挖到下表器具，依據人類文明的演進判斷，最早被挖掘出來的，應該是何者？

(A)打製石器	(B)粗繩紋陶	(C)磨製石器	(D)鐵製農具
---------	---------	---------	---------

- 38 ( ) 下表是宣翰整理荷蘭與西班牙經營臺灣的比較表，正確的選項有哪些？

(A)甲乙丁 (B)乙丙丁 (C)甲乙丙 (D)甲乙丁

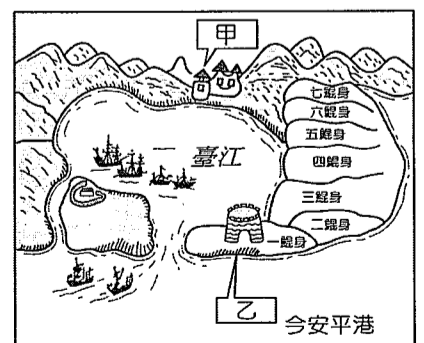
國家	(甲)登陸地點	(乙)著名建築	(丙)傳教	(丁)結果
荷蘭	大員	紅毛城	天主教	1662為鄭氏政權逐
西班牙	雞籠、淡水	聖多明哥城	基督教	1642為荷蘭所逐

- 39 ( ) 語倩在學校上完原住民族課程後，上網搜尋了原住民族委員會，看到了8月1日原住民族日由來的介紹：請問：上述內文中，缺空的歷史時期依序排列是？

1994年8月1日，憲法增修條文終於順應原住民族之意願，將「山胞」正名為「原住民」……行政院已將每年的8月1日定為「原住民族日」……。行政院原民會表示，回顧台灣的歷史，原住民族曾被歷代統治者賦予不同的名稱，例如「\_\_\_\_\_」時期，稱原住民為「番」，其中服政府之教化者稱為「熟番」，未服教化者稱為「生番」；「\_\_\_\_\_」時期，稱原住民為「蕃」或「高砂」。

- (A)史前時期→荷治時期→鄭氏時期 (B)鄭氏時期→清領時期→日治時期  
 (C)清領時期→日治時期→中華民國時期 (D)荷治時期→鄭氏時期→清領時期。
- 40 ( ) 「想思情郎想自己，不知爹親二十年，思念想欲見，只有金十字，給阮母親做遺記。」這是荷蘭統治臺灣時期的名謠『安平追想曲』，內容描寫一名安平女子與荷蘭醫生發生的愛情故事。請問下列有關荷蘭在臺灣的發展敘述何者正確？

- (A)對原住民先武力征服，再授予長老維持部落秩序的權力  
 (B)招募漢人來臺開墾土地，引進豌豆、番茄、稻米等作物  
 (C)當時出口物資有稻米、蔗糖、茶葉等物品  
 (D)因對原住民課徵苛捐雜稅，爆發了郭懷一抗荷事件。

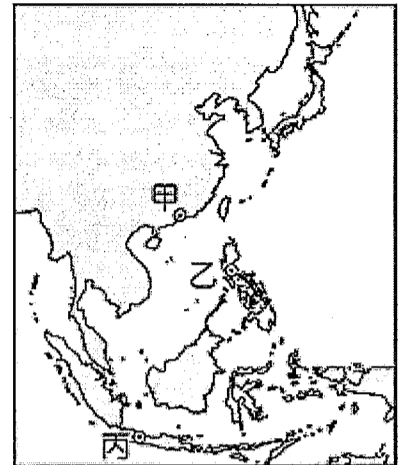


- 41 ( ) 霖宥繪製 1626 年間荷蘭人在臺灣時的港口(如右上圖)，其中甲、乙兩地，應該分別填上什麼城堡，隔著臺江相望？  
 (A)聖多明哥城、普羅民遮城 (B)熱蘭遮城、普羅民遮城  
 (C)普羅民遮城、熱蘭遮城 (D)熱蘭遮城、聖多明哥城。

# 台北市立民生國中 106 學年度第一學期七年級歷史（康軒）第一次段考

- 42 ( ) 人類進入新石器時代以後有許多重大的變革，而有「新石器革命」之稱，其主要意義為何？  
 (A)開始使用文字，明確記載當時人們的各種活動 (B)進入產食時代，人們開始有餘暇從事文化創造  
 (C)發展嚴密的軍事及國家組織，保障群體的安全 (D)已知用火取暖、照明與熟食，使生命得以延長。

- 43 ( ) 竝杉參觀「□□□故事特展」，展有新港文書、陶甕、竹製童玩及珍藏200年的新娘服飾等珍貴文物，回家後認真的做了註解，請問他所歸納的特點，哪裡不小心出現錯誤？  
 (A)□□□是應填上「西拉雅」  
 (B)故事的文化代表地點，應該是在宜蘭  
 (C)此族群有祀壺信仰，祭拜的祖靈是「阿立祖」  
 (D)所展出的「新港文書」，是荷蘭人為方便傳教，所留下的產物



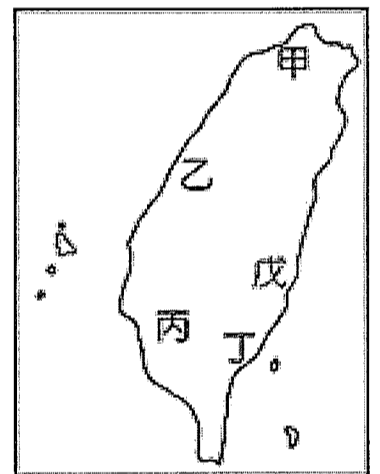
- 44 ( ) 地理大發現之後西方人為取得東方的貨物，不斷前來貿易，並在東方建立諸多商業據點，右圖中的乙地應屬於哪一個國家所建立的商業據點？  
 (A)葡萄牙 (B)荷蘭 (C)西班牙 (D)法國。

- 45 ( ) 「韋麻郎見□□□來勢洶洶，先是虛與委蛇，意圖敷衍，但□□□態度堅決，聲稱澎湖乃大明王朝之國土疆域，外人不得強占，最後韋麻郎只得和部眾從澎湖撤離遠去」。請問：上文缺空處應填上下列何人？ (A)沈有容 (B)鄭芝龍 (C)顏思齊 (D)郭懷一。

## 二、地圖題：(46~49每題2分，50~51每題1分)

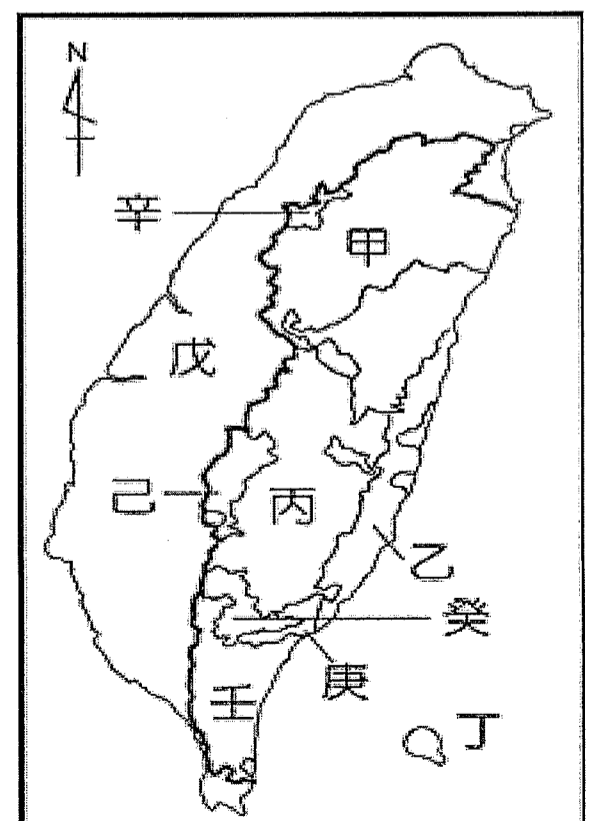
(一)右圖為史前文化遺址分布圖，請參閱右圖回答下列問題：

- 46 ( ) 僅以採集魚獵維生，且生活在海岸洞穴的史前文化，應是圖中哪一個文化遺址？  
 (A)甲 (B)乙 (C)丁 (D)戊。  
 47 ( ) 距今約七千到兩千年前，臺灣進入新石器時代，此時的文化遺址中何者曾出現過石板棺與人獸形玉器？ (A)甲 (B)乙 (C)丁 (D)戊。  
 48 ( ) 圖中何地不但農、漁業皆有發展，同時還發現鐵渣、玻璃、銅錢等物品，顯示當時與其他地區已有往來關係？ (A)甲 (B)乙 (C)丙 (D)丁。



(二)左圖為臺灣原住民族分布圖，請參閱左圖回答下列問題：

- 49 ( ) 淳葢利用國慶連假，參與了九族文化村體驗文化區的「搖擺臀鈴」活動，區內人員向她介紹這個活動是某原住民族在祭典上為了取悅矮人(靈)而跳的舞。請問：某原住民族的分布位於圖中的何處？  
 (A)甲 (B)辛 (C)丙 (D)己。  
 50 ( ) 承上題，體驗完「搖擺臀鈴」活動後，來到了原住民部落區，看到了某原住民族傳統的石板屋、百步蛇圖騰木雕以及被貴族階級視為無上珍貴的家傳寶物青銅刀、古陶壺、蜻蛉珠(琉璃珠)。請問：某原住民族的分布位於圖中的何處？  
 (A)戊 (B)己 (C)庚 (D)壬。  
 51 ( ) 承上題，最後來到九族廣場，看到了某原住民族傳統住屋呈半穴居的地下屋和獨特的拼版舟。請問：某原住民族的分布位於圖中的何處？  
 (A)丁 (B)乙 (C)庚 (D)己。



【試題結束，記得題目卷上也要寫答案】