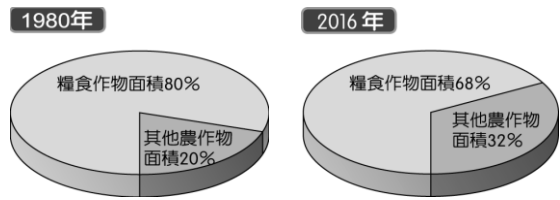



34. () 中國以農立國，人口眾多，因此糧食作物的種植相當重要，但近年發現糧食作物與經濟作物種植面積的比例有明顯變化，如下圖所示。請問：造成此變化的原因為下列何者？



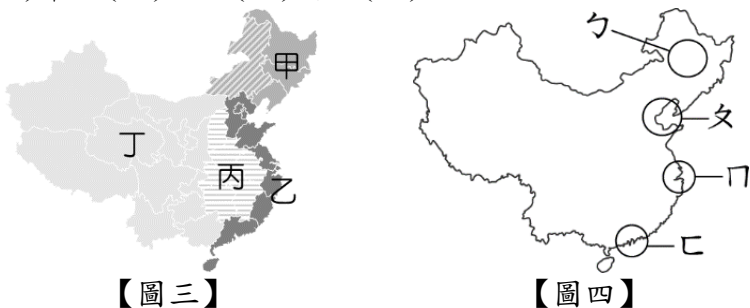
- (A) 氣候異常 (B) 品種改良 (C) 市場需求 (D) 蝗蟲影響。
35. () 現代農業科技發達，各地逐漸引進農業機械，以提高生產效率。請問：下列哪一個地區因為地廣人稀，使得機械化程度較高？
(A) 東北平原 (B) 華北平原 (C) 長江中下游平原 (D) 珠江三角洲。
36. () 由於中國各地年降水量分布不均，部分地區容易面臨缺水問題。請問：根據各地氣候條件及產業發展程度，判斷出【圖一】中哪一個地區缺水問題較嚴重？
(A) 甲 (B) 乙 (C) 丙 (D) 丁。



【圖一】

【圖二】

37. () 中國土地面積廣大，為世界面積第四大，但人均可耕地面積卻比世界平均還小，如【圖二】所示。請問：中國的人均可耕地面積較小，是受到什麼因素的影響？
(A) 計畫經濟 (B) 人口眾多 (C) 工業汙染 (D) 降水不足。
38. () 中國某地礦產資源豐富，是傳統重工業重心，但近年來礦產枯竭、工廠設備老舊，因此提出振興政策。請問：這是關於【圖三】何處的敘述？
(A) 甲 (B) 乙 (C) 丙 (D) 丁。



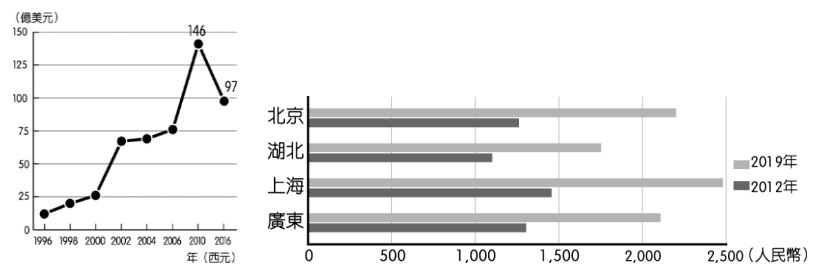
【圖三】

【圖四】

39. () 中國自1978年起，實施經濟改革開放，設立經濟特區，使得工商業快速成長。請問：在所有經濟特區中，分布在【圖四】的哪一個地區較多？
(A) ㄅ (B) ㄆ (C) ㄇ (D) ㄏ。
40. () 承上題，經濟特區是帶動中國經濟發展的火車頭，使中國經濟脫胎換骨，擠身為世界經濟強國。請問：下列關於經濟特區的敘述，何者正確？
(A) 深圳因鄰近澳門，發展最好 (B) 離臺灣最近的為廈門 (C) 汕頭位在珠江口 (D) 從喀什可與東南亞貿易。
41. () 在中國四大經濟區中，早期先發展的是沿海地區，但近年來因沿海工資上漲，於是外資發展重心轉變為下列哪一個地區？
(A) 東北 (B) 東部 (C) 中部 (D) 西部。

42. () 由於中國人口數量多，且各地貧富差距大，因此大量鄉村人口為了就業機會往都市移動。請問：為了尋找就業機會，人口主要會往哪一個方向移動？
(A) 平原→山地 (B) 西部→東部 (C) 南部→北部 (D) 季風氣候→高地氣候。

43. () 承上題，由於都市有許多流動人口，無法享有與在戶籍地一樣的社會福利，因此部分都市透過發行哪一種證明，讓流動人口申請之後也可享有都市的社會福利？
(A) 工作證 (B) 居留證 (C) 居住證 (D) 通行證。
44. () 在全球各地，有許多商品都是中國製造，因此中國有「世界工廠」之稱。請問：中國之所以吸引外資前往設廠的原因，下列何者為非？
(A) 市場廣大 (B) 技術先進 (C) 資源充足 (D) 工資低廉。
45. () 在中國實施改革開放之後，兩岸經貿往來持續密切，臺商投資中國逐年增加，但自2010年開始，卻逐漸開始下降，如【圖五】所示。請問：此現象主要是受到中國哪一因素的影響？
(A) 礦產資源減少 (B) 基本工資上漲 (C) 人口素質不佳 (D) 國家財政困難。



【圖五】

【圖六】

46. () 【圖六】為中國部分行政區的最低月薪變化圖，請由圖中資料判斷，這樣的變化對下列哪一種企業影響較大？
(A) 紡織工業 (B) 石化工業 (C) 高科技工業 (D) 汽車工業。
47. () 中國與世界各國貿易愈來愈密切，對世界局勢的影響力也愈來愈大，因此自2018年起，哪一個國家對中國部分商品提高關稅，使得外國企業出現轉型或遷移潮？
(A) 日本 (B) 法國 (C) 美國 (D) 德國。
48. () 自西元2000年以來，中國資金逐漸雄厚，為了可以取得外國的產業技術及海外市場，採取何種措施較為快速？
(A) 引進外籍勞工 (B) 併購外國企業 (C) 建立高鐵路網 (D) 廣設海外據點。
49. () 中國為了擴大區域間的經濟合作，於2013年提出「一帶一路」政策，期待能與沿線國家有密切經貿往來。請問：「一帶一路」沿線會經過的區域中，不包括下列何者？
(A) 北美洲 (B) 歐洲 (C) 東南亞 (D) 非洲。
50. () 「一帶一路」計畫使得中國可以和參與國貿易更加密切，但許多參與國因為經濟發展程度不高，面臨到許多變數。請問：參與國目前所面臨的問題，不包括以下哪一項？
(A) 政治經濟發展受制於中國 (B) 面臨龐大債務負擔 (C) 國內出現抗爭行為 (D) 能源生產過剩。

【試題結束，請謹慎檢查】