


一、 單選題 (每題 2 分)

- ( ) 1. 這個巨大的石柱，刻著太陽神及俗世國王，柱上有著滿滿的條文，是人類開始將道德習俗條列化的開始，而這條文中充滿了對加害者報復的精神。請問這巨大的石柱應該源自於何處?(A)埃及 (B)西亞 (C)印度 (D)羅馬。
- ( ) 2. 2020 的奧運因新冠肺炎而需延期舉辦，請問奧運舉辦的源起與何事有關?(A) 神同人質，取悅神明(B) 各邦合作，象徵和平 (C)戰爭訓練，取得勝利 (D) 奴隸與罪犯上場鬥爭，取悅公民。
- ( ) 3. 阿利安人征服印度河流域後，為了維持統治地位利用哪一個宗教的教義訂出森嚴的階級制度?(A)印度教 (B)佛教 (C)婆羅門教 (D)祆教。
- ( ) 4. 羅馬將地中海稱為「我們的海」，最早在哪個時期羅馬勢力範圍已包圍整個地中海?(A)王政時期 (B)城邦時期 (C)共和時期 (D)帝國時期。
- ( ) 5. 場上戰鬥士為了生命與自由奮力一搏，刀劍縱聲響配著群眾的吶喊，整個場館充滿了血液與汗水混合的味道。請問如果想重建上述的歷史場景應該至何處較符合史實?(A)雅典 (B)斯巴達 (C)奧林匹亞 (D)羅馬。
- ( ) 6. 阿奇看到下列文字表，請問這個文字應該是改良下列何處的文字而出現?(A)埃及 (B)蘇美 (C)印度 (D)希臘

☆ 腓尼基字母表 ☆ — 中國科大李德(李潤心)2017.2製表。

Z	Y	W	V	U	T	S
Zayin	Waw	He	Daleth	Gimel	Beth	'Aleph
H	G	F	E	D	C	B
Nun	Mem	Lamedh	Kaph	Yodh	Teth	Heth
T	Sh	R	Q	P	O	S
Taw	Sin	Res	Coph	Tasde	Pe	'Ayin
						Samekh

- ( ) 7. 參考下圖，請問何人定義出一星期有七天，每一天都由一個肉眼可見的星球所主管。(A)羅馬 (B)埃及 (C)希臘 (D)加爾底亞



- ( ) 8. 下文是針對某戰爭的評論，請問:文中所述的戰爭應在哪一本書中可閱讀到? (A)幾何原本 (B)歷史 (C)荷馬史詩 (D)高盧戰記。

這場戰爭使得西方世界的歷史中心由兩河流域向地中海地區推移，並使希臘文明得以保存並發揚光大，

- ( ) 9. 下圖是古埃及一段墓葬文書，其中可看出埃及的生命觀與宗教信仰，請問這文件的出現與何信仰有關?(A)太陽神 (B)耶和華(C)濕婆神 (D)尼羅河神。



- ( ) 10. 羅馬帝國是西方歷史上版圖遼闊的帝國，在經濟、文化、政治和軍事上的成就達到很高的水準，並與亞洲的漢帝國西、東遙相並立。有關羅馬帝國皇帝的敘述何者正確?(A)君士坦丁:建立東都，並立基督教為國教 (B)凱薩:征服高盧，被尊為奧古斯都 (C)狄奧多希:羅馬正式分裂為東、西羅馬 (D)屋大維:疆域包圍地中海，讓基督教合法。

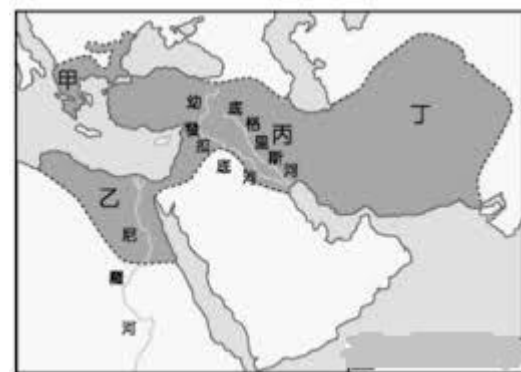
二、 題組題 (每小題 2 分)

- (一) 圖為某一宗教向外傳播的路線圖，請依你對這宗教的相關學習回答問題:



- ( ) 11. 此宗教是改革當地原本的宗教信仰而產生的新宗教，請問:此宗教與原本宗教最大的不同為何?(A)輪迴的循環 (B)階級的觀念 (C)因果的說法 (D)一神與多神。
- ( ) 12. 此宗教大約於何時傳入中國?(A)唐代 (B)漢代 (C)元代 (D)宋代。
- ( ) 13. 此宗教能大力向外傳播應該與何人有關?(A)阿育王 (B)釋迦牟尼 (C)文成公主 (D)玄奘。

- (二) 圖為某一帝國的疆域圖，請看圖回答問題:



- ( ) 14. 請問這疆域應該是哪個帝國的地圖?(A)亞歷山大 (B)波斯 (C)羅馬 (D)埃及。
- ( ) 15. 何處是這個帝國興起之地?(A)甲 (B)乙 (C)丙 (D)丁
- ( ) 16. 如果想要尋找古老的幾何與土地測量方法，應該前往何處尋找?(A)甲 (B)乙 (C)丙 (D)丁。
- ( ) 17. 如果想要尋找古老泥板雕刻的文字，應該前往何處尋找?(A)甲 (B)乙 (C)丙 (D)丁。

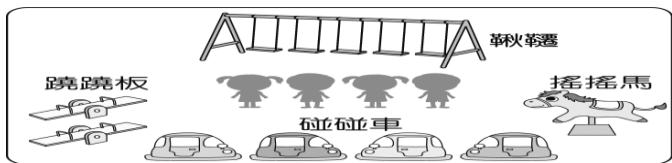
# 臺北市立中山國民中學109學年度第1學期第1次段考社會領域公民科九年級試卷

## 單一選擇題(每題 2 分)

18. 聰明、活潑、美麗、可愛又大方而且跳舞超厲害的郁婕，有甲、乙、丙三個舞蹈教室的工作機會，將其機會成本繪製如附表。若郁婕在繪製表格時僅以薪資為考量，根據表中內容判斷，甲、乙、丙三份工作的薪資，由高到低依序為下列何者？

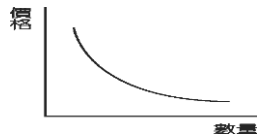
工作	機會成本
甲	丙的薪資
乙	甲的薪資
丙	甲的薪資

- (A) 甲>丙=乙 (B) 甲>丙>乙  
(C) 丙>甲=乙 (D) 甲>乙>丙。
19. 因為資源稀少，人們必須面臨種種的選擇，這是經濟學的基本概念。附圖的遊戲場內有四名兒童，若他們想一起使用相同的遊戲設備，何者會出現資源稀少的問題？



- (A) 碰碰車 (B) 鞦韆 (C) 跷跷板 (D) 搖搖馬。
20. 經濟生活的開始，是因為資源的「稀少性」，使得我們必須以最有效率的方式來運用資源，而對於資源「稀少性」的解釋，下列敘述何者錯誤？
- (A) 品類：縱使是百萬富翁，也有感到稀少的時候(B) 姿合：稀少是指相對於人們想要的數量，無法讓人毫無節制地予取予求(C) 清心：資源不足以滿足人類欲望，那資源就具有稀少性(D) 宥慈：稀少性取決於資源總數量的多寡
21. 俗語「魚與熊掌不可兼得」、「有得必有失」與下列哪一個經濟觀念最有關？

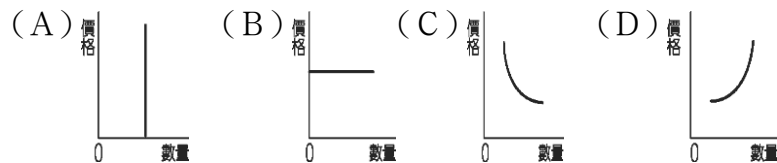
- (A) 外部效益(B) 外部成本(C) 受益原則(D) 機會成本
22. 新聞報導：「政府為改善國庫財源不足的問題，擬尋求新的解決方案。」班上同學針對國家的財政收支狀況，分別提出不同的見解。下列哪一種說法最正確？
- (A) 文晴：為分散風險各項經費預算應平均分配  
(B) 庭瑜：為解決財政困難須減少公營事業盈餘  
(C) 宜恩：預算執行之前須經司法機關審核通過  
(D) 喬恩：政府經費分配應考量機會成本的問題。
23. 附圖為某一經濟學原理的圖示。根據內容判斷，哪位同學的說明最能符合該圖所示之現象？



- (A) 佩璇：肉品感染病毒，批發售價下跌  
(B) 恩允：流行疾病肆虐，口罩需求大增  
(C) 祭晨：產品折扣優待，購買人潮湧現  
(D) 詠涵：農曆過年前夕，蔬果價格上漲。
24. 根據新聞報導：「近年來，由於房地產不景氣，國內閒置的空屋比率漸高，消費者在此時購屋，有較大的議價空間，多能以較便宜的價格買到房子。」上述內容的說法符合經濟學的哪一種觀念？
- (A) 供給法則 (B) 需求法則  
(C) 機會成本 (D) 比較利益法則。
25. 承甫最近天天到光華商場報到，為的就是買宣傳單上日本最新進口特價一百元的精采光碟組合，但是卻天天買不到，向店家詢問所得到的答覆是「缺貨」，承甫認為將「缺貨」的商品放在傳單上，是「欺騙消費者的行

為」，於是憤而向「主管機關」投訴。請問：上述的「主管機關」為下列何者？

- (A) 行政院消費者保護處 (B) 行政院公平交易委員會  
(C) 消費者文教基金會 (D) 消費者權益促進會。
26. 臺北市首創「消保官上前線、商展 GO GO GO」計畫，是由消保官與衛生局人員進駐商展現場，替民眾把關，提供現場民眾消費爭議諮詢，受理消費爭議申訴。請問：我國政府為保護消費者權益，在地方上設置的消費者保護機構應為下列何者？
- (A) 消費者文教基金會 (B) 消費者權益促進會  
(C) 消費者服務中心 (D) 行政院消費者保護處
27. 在中山企業的會議中，老闆娟姐要四個部門分別針對部門內的需求，向公司提出要求。請問：下列哪一個人所提出的需求，屬於生產要素中的「資本」？
- (A) 彤穎：我們需要聘請低薪的技術操作員  
(B) 宓彤：我們要聘請維修機器的工程師  
(C) 汶蓉：我們需要更換老舊設備以提高效能  
(D) 立斯：我們需要更大面積的土地以拓展企業
28. 超級無敵帥帥文老師上課時要同學舉出包含「自然資源—人力資源—資本」的例子，下列何人的舉例正確？
- (A) 盈萱：「檳榔西施—檳榔攤—檳榔」  
(B) 姿吟：「儲油槽—員工—石油」  
(C) 允岑：「太平洋—漁夫—漁網」  
(D) 筠縵：「沙漠—木乃伊—金字塔」。
29. 「在其他條件不變的情形下，當商品價格下降時，生產者會減少供給量；若商品價格上漲時，生產者則會增加供給量。」這種價格與數量的關係，可用下列哪一個圖形來表示？



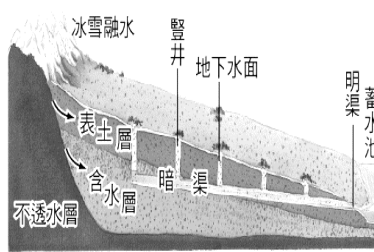
30. 下列幾位同學對有關「利潤」之說明，何者錯誤？
- (A) 依涵：利潤=價格×賣量  
(B) 奕萱：生產者的最大目的是獲取利潤  
(C) 育慈：利潤為銷貨收入扣除生產成本後的剩餘  
(D) 子穎：生產者會找尋成本最低的生產方式，來獲取最大利潤。
31. 「有鑒於人們對休閒生活的重視，且附近地區約有 8,000 萬人口，14 歲以下就有 1,500 萬人之多，因此我們決定選擇此地區興建兒童主題樂園。」上述說法中，生產者所考量的主要是下列哪一項課題？
- (A) 何時生產 (B) 如何生產  
(C) 為誰生產 (D) 生產數量。
32. 先生趁著房價低迷，買了第二棟房子，太太想利用這間房子自己經營餐廳，但是先生想規畫成租屋，租給附近大學生。依上述判斷，他們夫妻所面臨的是下列何種選擇的課題？
- (A) 生產什麼 (B) 如何生產  
(C) 何時生產 (D) 為誰生產。
33. 臺灣因為持續未下雨，政府開始進行「限水」措施，而工業用水也將受到重大打擊。請問：當工業用水愈來愈貴時，假設產品銷售量與市價均未變動，而生產者將會碰到下列何種問題？
- (A) 生產成本降低 (B) 利潤減少  
(C) 銷貨收入增加 (D) 利潤沒有變動

背面尚有試題，請繼續作答。

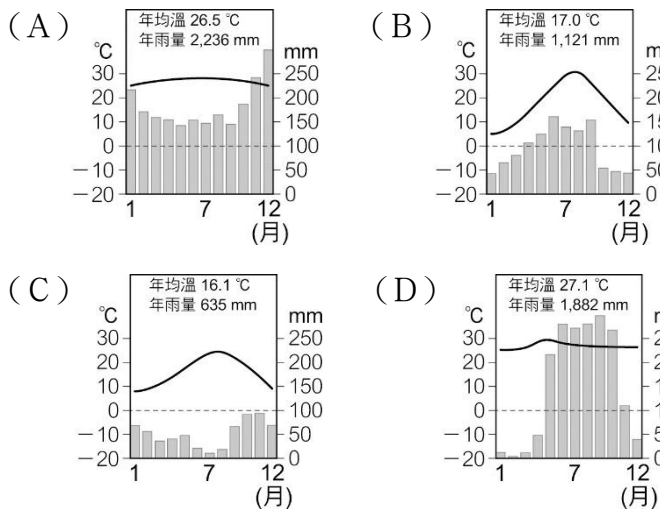


34. ( )西亞地區為亞洲戰亂最頻仍的區域，除了龐大的石油利益受人覬覦外，民族之間的糾紛與摩擦也時常上演，尤其是以色列復國和巴勒斯坦獨立問題，讓猶太人與阿拉伯人彼此征戰不休。請問：猶太人與阿拉伯人分別信仰哪兩個宗教而種下糾紛的根源？ (A)猶太教、伊斯蘭教 (B)基督教、印度教 (C)基督教、伊斯蘭教 (D)猶太教、印度教

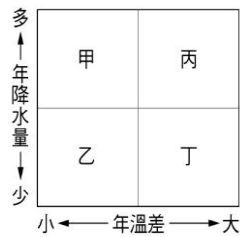
35. ( )小鴻在伊朗高原上，看到當地為了發展農業，設置一種特殊的灌溉設施，如右圖。據當地人的說法，這是為了防止水分蒸發，將渠道挖在地底下。他也想起中國某個地區也有類似的水利設施，這樣的設施會在中國哪個地區看見？ (A)柴達木盆地 (B)河套平原 (C)塔里木盆地 (D)青藏高原




36. ( )下列何者是西亞西側地中海與黑海一帶的氣候圖？



37. ( )絲路從西安穿越哈薩克、烏茲別克、土庫曼、伊朗到達土耳其伊斯坦堡，這條路線又稱「亞洲最缺水的文明古道」。絲路沿途的主要氣候是右圖中的哪種類型？ (A)甲 (B)乙 (C)丙 (D)丁



38. ( )小新搭乘郵輪航行在愛琴海，其中有一天的行程為上岸到眾多島嶼中的聖托里尼島，令他懷念不已。當時他拍了許多照片，照片中最可能出現右圖中的哪一種海岸景觀？ (A)甲 (B)乙 (C)丙 (D)丁



39. ( )「20世紀後期隨著柏林圍牆倒下後，這區優質的人力和較為低廉的工資成為吸引西方企業的優勢，文化相似優勢更有助於該地區快速融入歐盟經濟體，成為21世紀最受矚目的投資天堂。」上述為某投資公司廣告，根據文中資料判斷，應該為附圖哪一個地區？ (A)甲 (B)乙 (C)丙 (D)丁



40. ( )中亞雖為乾燥氣候，但卻大規模從事農業，引用河水灌溉，導致鹹海快速縮減，造成生態浩劫。請問此現象與當地種植某一項作物有關？ (A)椰棗 (B)棉花 (C)橄欖 (D)咖啡。

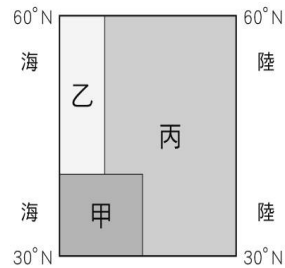
41. ( )西亞著名的美索不達米亞平原因為農業發達，成為當地古文明的分布。請問：該地區位於右下圖中何處？ (A)甲 (B)乙 (C)丙 (D)丁



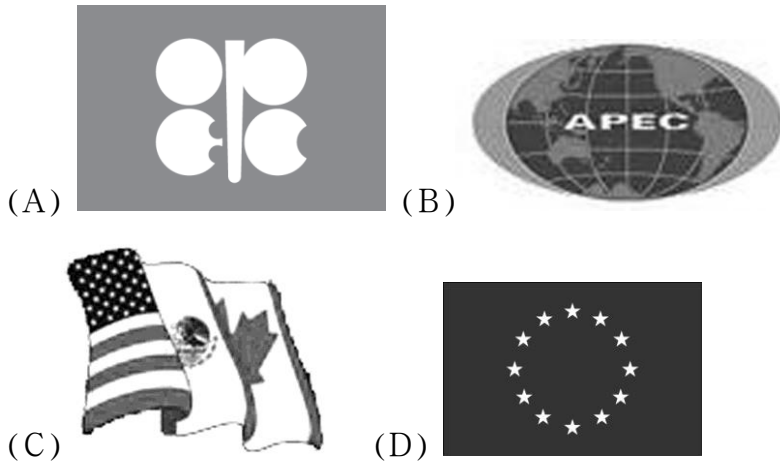
42. ( )伊斯蘭教徒每日須面向聖地麥加朝拜五次，而教徒一生中最大的願望，也是能親臨聖地朝拜。請問：伊斯蘭教的聖地麥加位於附右圖中的哪個國家內？ (A)甲國 (B)乙國 (C)丙國 (D)丁國

43. ( )小新今年到歐洲遊學，前往瑞士搭乘最具盛名的高山火車，來回穿梭於南歐與西歐之間。請問：該鐵路線是穿越了哪一座山脈？ (A)安納托利亞山脈 (B)庇里牛斯山 (C)阿爾卑斯山 (D)斯堪地那維亞山脈。

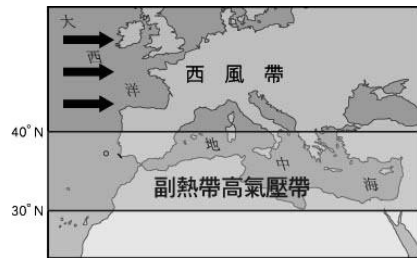
44. ( )右圖為歐洲氣候分布簡圖。甲、乙、丙三區分屬不同的氣候類型，並呈現差異的氣候特徵，請問下列對於此三種氣候的敘述何者錯誤？ (A)類型：甲(溫帶地中海)→乙(溫帶海洋)→丙(溫帶大陸) (B)成因：甲地氣候是西風及北大西洋暖流所形成 (C)特色：甲(夏乾冬雨)→乙(全年有雨)→丙(夏雨冬乾) (D)分布：甲(南歐)→乙(西、北歐)→丙(東歐)



45. ( )歐洲在第二次世界大戰後，透過某個區域組織整合整個歐洲，期望減少貿易衝突，以提升整體歐洲的競爭力。下列哪個圖示是這個區域組織的旗幟？



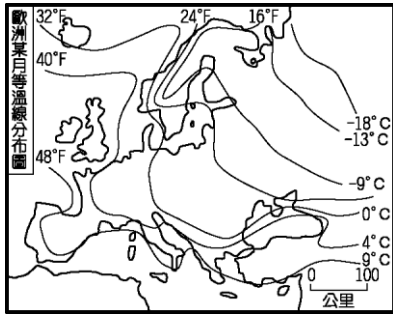
46. ( )附右圖為南歐的風帶狀況示意圖，請由圖中資料判斷，當時應該為哪個月分？ (A)1月 (B)4月 (C)7月 (D)12月



47. ( )歐洲因為緯度較高，在冰河時期幾乎為冰和河所覆蓋。請問：下列何者是冰河所造成的地形？ (A)阿爾卑斯山的U型谷 (B)義大利的維蘇威火山 (C)巴爾幹半島的石灰岩地形 (D)希臘的谷灣式海岸。

【背面尚有試題，翻面繼續作答】

48. ( ) 歐洲的氣溫分布特色如右圖所示。請問：影響該地區氣溫分布的因素除了緯度外，尚包括下列何者？(A)地形 (B)涼流 (C)西風 (D)暖流。



49. ( ) 人們為了遏止地球持續被破壞，而不斷追求乾淨、無污染的能源替代品，現今歐洲發展綠色能源成效佳，而其中太陽能發電的條件是需要日照充足的之地。請問：下列哪一個歐洲國家的太陽能發電可能發展最好？(A)荷蘭 (B)西班牙 (C)挪威 (D)英國。
50. ( ) 小說《天使與魔鬼》（達文西密碼的前傳）不僅熱銷也拍成電影，劇中描述發生於梵蒂岡城的冒險故事，一場異教與信仰、宗教與科學的戰爭。若我們想要親臨拍片現場欣賞宗教的聖殿，應該先到下列哪一個城市？(A)耶路撒冷 (B)雅典 (C)羅馬 (D)麥加。

【試題結束】