

一、 選擇題(每題2分)

- ()01、2018年世足賽瑞士對抗塞爾維亞，瑞士球星札卡及沙奇里在進球後比出了代表阿爾巴尼亞「雙頭鷹手勢」慶祝動作，引發現場塞爾維亞球迷的噓聲，也牽動敏感的政治議題。請問：一次世界大戰爆發是因為哪兩個民族問題而產生？
 (A)斯拉夫與土耳其 (B)斯拉夫與阿拉伯
 (C)日耳曼與斯拉夫 (D)日耳曼與土耳其



- ()02、右圖為女權運動標誌，女權運動萌芽於十九世紀末，哪一件事件後，女性的能力被肯定，各國政府重視女性權益？
 (A)普法戰爭 (B)第一次世界大戰
 (C)冷戰 (D)第二次世界大戰



- ()03、以下是美國總統所說過的言論，請你將此四段言論依發生先後順序排列？
 (A)甲乙丙丁 (B)丙丁甲乙
 (C)丙甲乙丁 (D)乙丙甲丁

甲 任何歐洲強權若企圖干預美洲國家事務，美國將視此為對美國安全的威脅。	乙 任何一州若仍當奴，將被視為反叛。所有的奴隸應當獲得並永享自由。
丙 十三州殖民地應當是自由而獨立的國家，各州與英帝國之間的從屬關係必須取消。	丁 日本與夏威夷之間的距離，證明這場攻擊是蓄意謀畫，我已下令採取一切手段進行防禦。

- ()04、王珪瑜如果想要了解工業革命對社會的影響，他可以參考哪一本著作？
 (A)夢的解析 (B)孤雛淚
 (C)西線無戰事 (D)十日談
- ()05、作曲家史麥坦納在1879年完成交響樂「我的祖國」，樂章中充滿了民謠曲風，反應出波西米亞的歷史、傳統和地貌，藉以抒發他的思鄉情懷。請問史麥坦納應屬哪一派音樂家？
 (A)浪漫主義 (B)理性主義
 (C)社會主義 (D)寫實主義
- ()06、近年來，美國與中國關係日益緊繃，美國對中國產品實施高關稅以制裁中國，但經濟學家提醒美國必須記取歷史教訓，避免重蹈覆轍；請問：文中所指的「歷史教訓」是指哪一件事物？
 (A)第一次世界大戰後美國實施關稅壁壘政策，導致國際貿易停滯，引發全球經濟崩盤。
 (B)美國未參與清末瓜分風潮，影響美國在華利益
 (C)第二次世界大戰前美國不再參與國際事務，間接導致戰爭再起。
 (D)普魯士王國推行關稅同盟，積極拉攏邦聯成員，引發普奧戰爭。
- ()07、當國家經濟陷入困境時，經濟學家會提出不同的方法來解決國家的經濟問題。請問下列哪一

個方法與美國羅斯福總統的「新政」雷同？

- (A)提高關稅，保護本國產業
 (B)擴張殖民地，取得重要資源
 (C)企業收歸國營，實施共產主義
 (D)推展公共建設，以消費刺激經濟。

- ()08、「我和我的冠軍女兒」一劇最後主角吉塔在父親的指導下苦練摔角，打敗了威爾士、南非與澳洲的選手，最後代表印度在國協盃取得了金牌。請問：吉塔所參與的應該是哪一個國協所舉辦的比賽？

- (A)大英國協 (B)獨立國家國協
 (C)日耳曼邦聯 (D)東南亞國協

- ()09、義大利人把羅馬帝國時代的繁榮作為自己的驕傲，下列何人曾以「反共」、「恢復古羅馬光榮」為名建立政黨？

- (A)希特勒 (B)馬志尼
 (C)加富爾 (D)墨索里尼

- ()10、受到朝鮮三一運動的影響，日本將台灣殖民策略改為「內地延長主義」，請問這些事件的發生與何人有關？

- (A)羅斯福 (B)威爾遜
 (C)希特勒 (D)蔣中正

二、 題組題

1.

半島十五世紀被「帝國」占領後，改信伊斯蘭教的阿爾巴尼亞人陸續遷入，與當地信奉不同宗教的各族群和平共處。

十九世紀，鄰國列強覬覦，帝國內民族獨立運動興起，在英國的協助下，■■■首先獨立，雖各國獨立，但卻因種族、宗教複雜與列強介入，糾紛仍多，1991年南斯拉夫發生內戰，聯合國軍隊進入半島維持和平。

- ()11、請問文中的「帝國」是指何者？
 (A)鄂圖曼土耳其帝國 (B)大英帝國
 (C)俄羅斯帝國 (D)奧匈帝國
- ()12、文中■■■應該是指哪個國家？
 (A)捷克 (B)波蘭
 (C)希臘 (D)土耳其共和國
- ()13、聯合國安理會決議發動軍隊進入南斯拉夫，下列哪個國家當時沒有投票權？
 (A)英國 (B)法國
 (C)美國 (D)中華民國

2.

林柑蓓到花蓮松園別館觀光，松園別館舊稱「花蓮港陸軍兵事部」辦公室具有天然制高點優勢，可俯瞰美崙溪入海處、花蓮港及太平洋海景，戰爭期間輕易掌控出入南濱海面的船隻及南機場航機起降，是當時花蓮重要的軍事指揮中心。看到了圖片中的防空洞，洞中有許多神風特攻隊的照片與情境布置。



()14、請問松園別館防空洞的設置是為何防止哪一個國家空襲？

- (A)英國 (B)日本
(C)美國 (D)中華人民共和國

()15、請問何處是神風特攻隊執行任務的戰場？

- (A)太平洋 (B)滿洲國
(C)日本海 (D)俄羅斯

3.

一次世界大戰結束，在巴黎開了一場國際會議，與會國家懷著不同的目的討論戰後議題。

英法兩國認為某國需要負起發動戰爭的責任，而美國則著重在反省與避免下次戰爭，另外日本則為了海外多一塊領地據理力爭，中國則為了自己的領土力挽狂瀾…

()16、請問英法兩國認為何國須負起戰爭責任？

- (A)塞爾維亞 (B)俄羅斯
(C)德國 (D)鄂圖曼土耳其

()17、當時中國因為山東問題拒簽條約，美國也因當時國內何種氛圍而無法簽約？

- (A)孤立主義 (B)社會主義
(C)姑息主義 (D)民族主義

※歷史題結束，仍有公民地理題，請繼續作答※

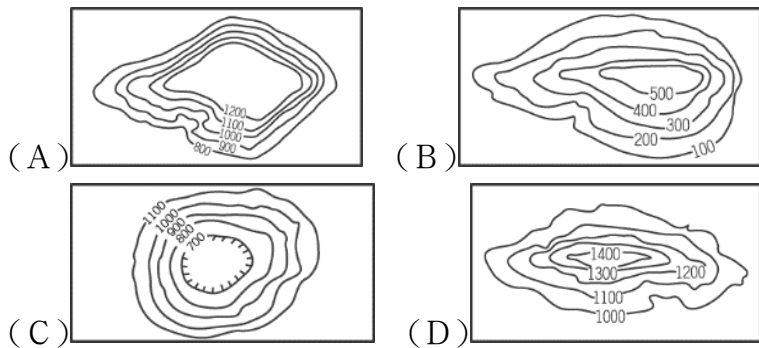
臺北市立中山國民中學 109 學年度第 2 學期第 1 次段考社會領域公民科 9 年級試卷

選擇：(每題 2 分，共 32 分)

18. 越南有一種食物「鴨仔蛋」，敲開一顆內部小鴨已長成雛形的鴨蛋讓顧客食用，這種食物往往讓外國人感到詭異甚至殘忍。面對與自己習慣不同的文化，我們應該秉持何種態度？ (A)教育對方讓他們脫離落後的文化 (B)尊重彼此的差異 (C)心中可以鄙視但不要表現出來就好 (D)完全不要接觸即可。
19. 「若媒體失去自我價值省思，是非常可怕的，因此媒體自律何其重要！」由上述說法判斷，其要傳達的觀念為何？ (A)傳播媒體是傳遞訊息的工具，本身沒有好壞優劣之分 (B)傳播媒體並非少數人使用的工具，人民享有媒體接近使用權 (C)觀眾應自行挑選出合宜的內容閱讀、收聽與收看 (D)傳播媒體對社會極具影響力，應對自己傳遞的訊息負責。
20. 下列何者有助於打破國與國疆界，縮短時空的距離，同時增進了個人與國際間的遠距離交流，改變了人際之間交往的模式？ (A)經濟活動的多樣化 (B)資訊科技的發展 (C)跨國公司的設立 (D)本土文化的傳承。
21. 許多國外名牌如 NIKE、LV、SONY 等風行於全球市場，其主要訴求為高品質、高水準與高價位。請問：當人人傾向把消費習慣固定在特定國際名牌時，最可能產生下列何種影響？ (A)商業競爭強化網路購物風潮 (B)造成強權國家主導世界局勢發展 (C)促使弱勢文化小品牌揚名國際 (D)強勢文化領導國際的流行趨勢。
22. 根據一項研究結果顯示，國內傳播媒體最大的問題包括新聞不夠中立、報導內容不實與商業化，新聞節目八卦化與聳動化。針對上述現象，閱聽人應加強下列何種素養？ (A)尊重智慧財產 (B)媒體識讀能力 (C)落實終身學習 (D)重視生命倫理。
23. 新聞報導：有人因為玩線上遊戲時與他人發生糾紛，便偷偷駭入遊戲的伺服器進行破壞，造成遊戲系統的癱瘓。請問：這種行為觸犯了何種法律？ (A)民法 (B)行政法 (C)刑法 (D)有違資訊倫理，未觸犯法律。
24. 我國政府制定《個人資料保護法》，透過立法規範，個人資料之蒐集、處理及利用，應該尊重當事人之權益，並於合理的目的與範圍下，利用個人資料，是為了避免個人哪種權利遭受侵害？ (A)參政權 (B)環境權 (C)人格權 (D)學習權。
25. 有科學家認為，在全球耕地面積逐漸減少的情況下，透過基因工程技術，可以產生新的適應全球氣候的基因改造作物，解決全球糧食不足的危機。上述內容屬於何種科技的應用？ (A)資訊科技 (B)生物科技 (C)醫療科技 (D)未來科技。
26. 我國立法院在民國 96 年通過《人工生殖法》，目的是為健全人工生殖的發展，以維護人倫關係與人性尊嚴。下列何者不是目前該法所要保障的對象？ (A)不孕夫妻 (B)代理孕母 (C)人工生殖子女 (D)生殖細胞捐贈人。
27. 創新與發明是個人智慧的結晶，保護智慧財產可以激勵個人創作，但若過度保護創作者，也將造成知識無法流通或自由共享，反而可能會阻礙社會進步。下列何項做法可以調和上列所述的衝突？ (A)規定享有保障的合理年限 (B)限制可享有保障的國家 (C)縮短保障的年限 (D)延長保障的年限。
28. 受到全球化的影響，國與國間相互依存的關係愈來愈密切，國際社會發生的任何事情，都可能影響到彼此。下列何者是屬於國際交流的互動型態？ (A)美日兩國進行聯合軍事演習 (B)美國出兵阿富汗 (C)新北市政府邀請法國四重奏樂團來臺演出 (D)慈濟基金會到菲律賓賑濟災民。
29. 國際組織可以按分布區域或身分屬性加以分類，以下所列的國際組織，哪一組無論按分布區域或官方身分來分類，其屬性皆相同？ (A)非洲聯盟、聯合國 (B)東南亞國協、歐盟 (C)紅十字國際委員會、世界衛生組織 (D)國際特赦組織、國際刑警組織。
30. 下列是各個重要國際組織的英文簡稱，其中哪一項配對是正確的？ (A)世界衛生組織：WTO (B)世界貿易組織：WHO (C)國際特赦組織：AI (D)亞太經濟合作會議：OPEC。
31. 國際組織的種類很多，可分為政府的國際組織與非政府的國際組織兩種。下列關於兩者的比較，何者錯誤？ (A)非政府的國際組織可彌補政府的國際組織之不足與限制 (B)政府的國際組織較非政府的國際組織更具強制力 (C)非政府的國際組織能發揮更為積極與多元的功能 (D)政府的國際組織主要是解決單一國家的政治問題。
32. (甲)由亞洲、太平洋地區國家組成；(乙)推動該區域的經貿合作、促進文化交流；(丙)我國自西元 1991 年起為其會員國；(丁)屬於政府的國際組織。根據上述內容判斷，這是指哪一個國際組織？ (A)APEC (B)EU (C)WTO (D)UN。
33. 新聞報導：「根據最新世界衛生組織公布的準則，長期暴露於 PM2.5 達 35 單位、亦即『對敏感族群不健康』以上橘色等級的環境，肺癌患者的死亡率將提高 15%……」下列關於世界衛生組織的敘述，何者錯誤？ (A)為全球性國際組織 (B)我國已成為其會員國 (C)提出相關的流行疾病應急計畫 (D)其組成目的在推動改善世界醫療技術、增進衛生保健工作。

背面尚有試題，請繼續作答

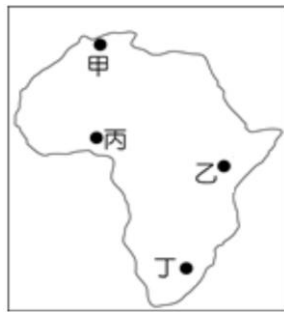
34. ()在地理大發現過後，歐洲人開始透過航海到處開墾、殖民，但由於非洲大陸以哪一種地形為主，使得昔日外人難以登陸？



35. ()許多人對非洲的印象是以黑人為主的社會，但非洲並不完全是黑人文化。請問：受到哪一個地形區阻隔的影響，非洲的族群和文化發展有明顯的南北差異？

(A)尼羅河 (B)撒哈拉盆地 (C)剛果盆地 (D)東非高原。

36. ()「地塹」是一種因斷層活動向下陷落，形成地勢相對較低的地形，而非洲擁有世界最大的地塹，有「地球上最大傷疤」之稱。請問：此地塹位在右圖中的哪一個位置？



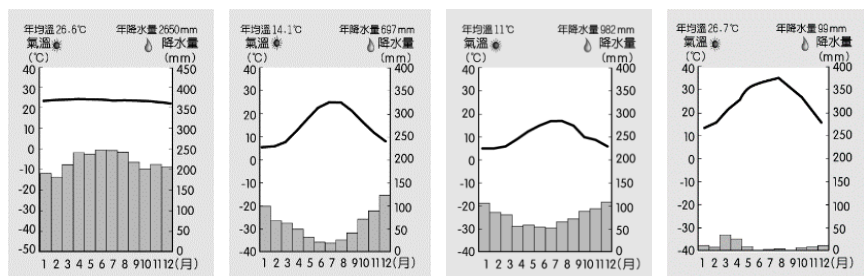
(A)甲 (B)乙 (C)丙 (D)丁

37. ()承上題，非洲在殖民時期發展熱帶栽培業，現在雖已經脫離殖民，但仍有許多國家依然維持殖民時期的耕作方式。請問：非洲的熱帶栽培業，主要分布於右上圖中何處？

(A)甲 (B)乙 (C)丙 (D)丁。

38. ()剛果河是一條水量相當豐富的河川，流量居世界第二高。請問：由於剛果河位哪一種氣候，使其水量相當豐富？

(A) (B) (C) (D)



39. ()蘇伊士運河為全球海運重要的通道，日前因大型貨輪擱淺，阻擋船隻通行，使得全球產業供應鏈受到影響。請問：經過蘇伊士運河可以聯絡哪兩個海域？

(A)紅海—印度洋 (B)地中海—紅海 (C)大西洋—紅海 (D)大西洋—印度洋。

40. ()非洲擁有廣大的疏林莽原，適合發展生態旅遊，對非洲的經濟成長幫助甚大。請問：疏林莽原的自然環境特色為何？

(A)降雨平均，沒有乾季 (B)大型野生動物棲息於此 (C)有副熱帶高壓影響 (D)適合生長葡萄、橄欖。

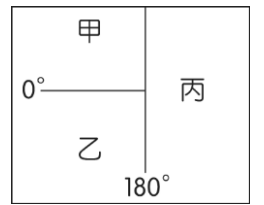
41. ()澳洲有許多獨特的野生動物，例如：袋鼠、無尾熊等，相當具有代表性，在臺北市立動物園的無尾熊也是來自澳洲。請問：澳洲能擁有許多特有種的原因為何？

(A)地勢崎嶇 (B)氣候乾燥 (C)位置孤立 (D)緯度較低。

42. ()受到經濟全球化的影響，各國之間的貿易相當方便，讓我們在臺灣也可以買到來自世界各地的商品。請問：下列哪一項商品最可能來自澳洲？

(A)珍珠奶茶 (B)咖啡豆 (C)綿羊油 (D)椰棗乾。

43. ()散落在太平洋上的三大群島，由於位處熱帶海域，交通也逐漸便利，許多島嶼成為熱門的渡假勝地。請問：關於右圖太平洋三大群島的敘述何者正確？

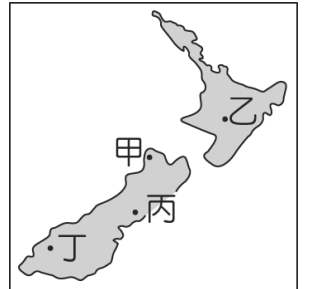


(A)甲處農業條件佳 (B)甲、乙季節相同 (C)若從乙到丙，日期會減一天 (D)帛琉位於丙處

44. ()澳洲每年都因自然現象而發生森林大火，尤其是夏季期間屬於乾燥炎熱氣候，更容易引發大火。但2019年澳洲失控的森林大火已造成動植物的生態危機、嚴重的霧霾汙染。請問：澳洲每年出現的森林大火多發生在什麼時間點？

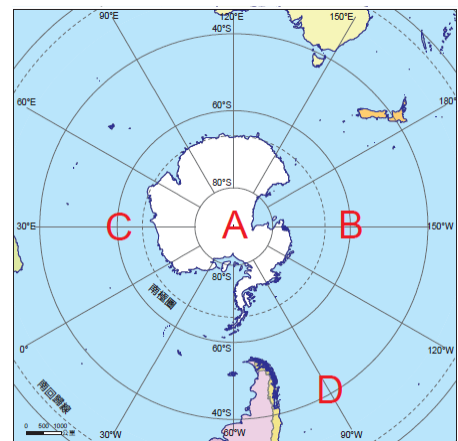
(A)3月到5月 (B)5月到8月 (C)8月到11月 (D)12月到2月。

45. ()紐西蘭的地形景觀獨特，擁有眾多的火山、冰河地形，有「活的地形教室」之稱。請問：右圖中何處的冰河地形會最豐富？



(A)甲 (B)乙 (C)丙 (D)丁

46. ()兩極地區因緯度高，氣候寒冷，鮮少有人出沒，但近年來越來越多人喜歡到秘境探險，因此兩極地區也逐漸受到關注，而在冰天雪地的地方，若迷失方向，後果可能不堪設想。請問：下圖中各地的方位指示，何者正確？



(A)由A到B：往北 (B)由A到C：往西 (C)由A到D：往南 (D)由D到B：往北。

47. ()承上題，在此活動的探險家們，可以觀察到此地有什麼現象？

(A)空運及海運交通繁忙 (B)有少數原住民分布於此 (C)有科學家設立研究站 (D)各國因爭奪主權產生衝突

48. ()傳統運輸工具的改良，以及新型運輸工具的發明，使得人、事、物的傳遞更加快速，本來相隔甚遠的兩地，可以更快速往來，互動得以更加頻繁。請問：這是選項中哪一個概念？

(A)工業革命 (B)全球化 (C)時空收斂 (D)區域結盟。

49. ()交通革新讓世界的關係更加緊密，形成全球化現象，但部分學者卻有不同的見解，開始有「反全球化」聲浪出現。請問：他們「反全球化」的理由不包括下列何者？

(A)全球貧富差距擴大 (B)各地戰爭更加頻繁 (C)部分國家失業率提高 (D)本土文化受強勢文化影響而沒落

50. ()澳洲受殖民背景影響，過去的貿易以銷往殖民母國為主，但近代的貿易重心轉為距離較近的區域。請問：鄰近澳洲的國家大多是哪一個區域性組織的成員國？

(A)NAFTA (B)APEC (C)EU (D)WTO。

【試題結束，請謹慎檢查】