

壹、單一選擇題：1-34題，每題2分，共68分。

1. () 下列關於我國公民投票的敘述，何者正確？
 (A) 公民投票是決定政府公職人員的選舉 (B) 參與公民投票的選民必須年滿 23 歲 (C) 選民必須在該區設籍滿六個月 (D) 選民若未領取公民投票的選票是違法的行為。
2. () 幾位留學生聚在一起討論各國的選舉制度(如附圖)，依照圖中莎拉的說詞，可知莎拉的國家在 20 世紀初期，不符合我國現行哪一項選舉原則的規定？

20世紀初期，我們國家有些選民可以擁有2張選票以上。



- (A) 無記名原則 (B) 直接原則
 (C) 平等原則 (D) 普通原則。
3. () 當各個投票所開完票，計算完選票後，將由哪一機關負責公布選舉結果？ (A) 鄉鎮市公所 (B) 立法院 (C) 選舉委員會 (D) 大眾傳播媒體。
4. () 依據《公職人員選舉罷免法》及《總統副總統選舉罷免法》的規定，有關總統與民意代表選舉的比較，附表中何者正確？

項目	總統	民意代表
連選得連任次數	不限次數	一次
公職人員種類	立法機關	行政機關
任期	四年	三年
選舉方式	人民選舉產生	人民選舉產生

- (A) 連選得連任次數 (B) 公職人員種類 (C) 任期
 (D) 選舉方式。

5. () 在民主國家，選舉扮演十分重要的角色。根據附圖內容可知，選舉發揮了何種功能？

這次連任失利，我聽到了選民的聲音，我會檢討過去四年施政，勇敢承擔選舉結果。



- (A) 影響政府決策 (B) 展現責任政治
 (C) 選出公職人員 (D) 合法取得政權。

6. () 小菲剛選上立委，由此可知小菲至少年滿幾歲？
 (A) 21 歲 (B) 23 歲 (C) 26 歲 (D) 30 歲。


7. () 我國公職人員選舉在法律中有詳細的規定。根據下列四人的資料，何者最符合成為鄉長候選人的條件？

- (A) 文昕，年滿30歲，現在被法院做出監護宣告。
 (B) 安彤，當選過民意代表，現在被宣告褫奪公權。
 (C) 力銘，是日本公民，在臺灣已居住5年了。
 (D) 靜萍，剛完成村長任期，充滿政治抱負。

8. () 柏文將我國第 9 任至第 14 任總統大選勝選的政黨整理成附表，從表中可看出政黨輪替已有幾次？

第 9 任	中國國民黨
第 10 任	民主進步黨
第 11 任	民主進步黨
第 12 任	中國國民黨
第 13 任	中國國民黨
第 14 任	民主進步黨

- (A) 二次 (B) 三次 (C) 四次 (D) 五次。
 9. () 附圖為候選人最低年齡限制示意圖。請問：甲、乙、丙、丁依序應為何？



- (A) 民意代表、直轄市市長、縣(市)長、鄉(鎮、市)長
 (B) 民意代表、鄉(鎮、市)長、縣(市)長、直轄市市長
 (C) 鄉(鎮、市)長、民意代表、直轄市市長、縣(市)長
 (D) 縣(市)長、鄉(鎮、市)長、直轄市市長、民意代表。

10. () 利益團體可分為基於自身利益或公共利益而組成的團體，下列何者是基於自身利益而組成的團體？
 (A) 勵馨基金會 (B) 陽光基金會 (C) 臺鐵工會 (D) 創世基金會。

11. () 小哲想參與市議員的選舉投票，但在投票資格上卻有一項不符合。請問：應該是下列哪一項？

- (A) 具有中華民國國籍 (B) 年滿18歲



(C) 在選舉區設籍達4個月以上

(D)

未受監護宣告



12. ()依據《公職人員選舉罷免法》規定。附圖對話中所指的公職人員，應為下列何者？

我們政黨這次想徵召你參選地方行政官員。

我義不容辭！



(A)立法委員 (B)鄉長 (C)縣議員 (D)直轄市山地原住民區代表。

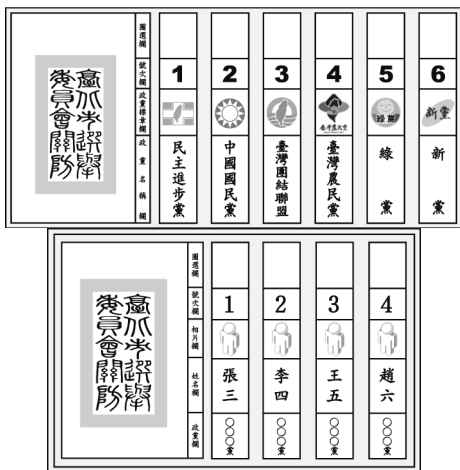
13. ()由於政黨對政治發展扮演著舉足輕重的地位，因此，一般民主體制下的政黨大都具備下列哪些功能？(甲)組織政府(乙)招募軍人(丙)監督政府(丁)提名候選人 (A)甲乙丙 (B)甲丙丁 (C)乙丙丁 (D)甲乙丁。

14. ()附表是甲、乙、丙三國政黨政治的現況，根據表中的內容判斷，此三個國家依序是屬於哪一種政黨型態？

國名	政黨政治的現況
甲國	國內雖然有許多政黨，但是只有一個政黨長期在國會擁有過半的席次，其他政黨無法與該大黨抗衡。
乙國	國內只有兩個勢均力敵的政黨，透過選舉長期交替執政，其他小黨無法取得執政機會或主導政府決策。
丙國	國內有很多個政黨，但沒有任何政黨可以在國會取得過半數的席次。

(A)一黨制、多黨制、兩黨制 (B)一黨制、兩黨制、多黨制 (C)兩黨制、一黨制、多黨制 (D)多黨制、一黨制、兩黨制。

15. ()附圖中的選票應是出現在下列哪一項公職人員選舉？



(A)總統、副總統 (B)縣、市長 (C)立法委員 (D)直轄市議員。

16. ()各大傳播媒體收到一則如下的傳真，查明後發現傳真內容是由敵對政黨所編造。請問：此政黨的作為已經違反了下列哪一項政黨政治的運作原則？

媒體記者你們好：

在野黨候選人王×華於之前的任期內，包庇不法業者，有違選民信賴，希望民眾不要再被矇騙了。

看不過去的小市民

(A)國家人民利益優先 (B)依法組黨公平競爭 (C)和平協商尋求共識 (D)尊重包容不同政黨。

17. ()人民關心政治或企圖對政治事務發揮影響力的所有活動，我們通稱為下列何者？ (A)政治參與 (B)地方自治 (C)競選活動 (D)組織結社。

18. ()選舉是公民基於個人意願，依法選出公職人員的過程。由附圖中三人的對話可知選舉具備哪一項功能？

環境保護非常重要，所以我認同持環保政見的候選人。

我支持重視勞工權益的候選人，政府應該正視工時問題。

當無殼蝸牛那麼多年了，哪個候選人能讓我買得起房子，我就選他。



(A)合法取得政權 (B)展現責任政治 (C)影響政府決策 (D)選出公職人員。

19. ()小夫接受某立委候選人招待的旅遊，投票時覺得不好意思，於是便投他一票，並以照片證明。請問：小夫的作為違反了選舉的哪一項原則？

(A)直接 (B)無記名 (C)平等 (D)普通。

20. ()雲彩國的總統任期為五年一任，本屆總統劉輝為上屆總統連任，因為他帶領的政黨在施政時都是全力以赴地為民服務，因此得以連任成功。請問：劉輝所屬的政黨稱為什麼？ (A)在野黨 (B)執政黨 (C)朝野黨 (D)反對黨。

21. ()下個月彩虹鄉鄉長因故要補選一位新的鄉長，下列哪一位鄉民可以登記為此次選舉的候選人？

(A)邱先生被宣告褫奪公權二年，尚未復權 (B)吳小姐昨天剛把戶籍遷入 (C)小明因為23歲那年車禍而受監護宣告 (D)王先生5年前曾當選鄉民代表。

22. ()附圖為書琦公民報告時所使用的海報。請問：此海報所宣導的主題應為下列何者？



(A)選舉時應考量候選人的素質和政見內容 (B)選民投票應選擇民調較高的候選人 (C)候選人的政見愈多表示其能力愈強 (D)善於競選技巧的候選人較能勝任公職。

23. ()附表是小丸子所整理的政黨與利益團體比較表，不過有個項目她弄錯了。請問：哪項是錯誤的？

	政黨	利益團體
(A) 成員性質	成員較多元，因認同某一政治理念而結合。	成員組成同質性高，為同一目標或理念而凝聚。
(B) 面對選舉的態度	推薦黨籍候選人參選。	支持理念相同的候選人參選。
(C) 政策面向	政策較單一，主要關心與自己團體有關的政策。	政策面向多元，顧及各種面向的政策。
(D) 主要活動方式	參與選舉，希望獲得執政機會。	以遊說、陳情或示威遊行的方式，試圖影響政府政策。

24. ()琦琦姐妹三人決定參選公職人員，根據附圖中對話，下列哪一個組合符合三人的選擇？



(A) 直轄市議員、村長、鎮民代表 (B) 立法委員、市長、鎮長 (C) 鎮長、直轄市山地原住民區長、里長 (D) 立法委員、縣長、直轄市山地原住民區代表。

25. ()關於我國各項民選公職人員的連任規定，下列敘述何者正確？ (A) 縣議員連選得連任一次 (B) 總統連選得連任 (C) 立法委員連選得連任 (D) 市民代表連選得連任二次。

26. ()下列報導內容顯示政黨具備何項功能？

新聞報導
黨內人才輩出，針對此次縣市長選舉，在野黨舉行第一次黨內初選，希望能選出最適當的候選人參選。

(A) 培育與甄選政治人才 (B) 組織政府與監督政府 (C) 教育民眾增進民主知能 (D) 匯集民意與服務選民。

27. ()建陞調查了四個國家政黨型態的現況，並將其國內挑戰執政地位的反對黨數目統計成附表。請問：表中的哪一個國家最可能屬於專制政權？

國家	甲國	乙國	丙國	丁國
反對黨數目	2	0	3	11

(A) 甲國 (B) 乙國 (C) 丙國 (D) 丁國。

28. ()下列有關政黨型態的敘述，何者正確？ (A) 一黨專政是指執政黨不允許其他政黨挑戰其執政地位 (B) 一黨獨大是指在兩大黨的競爭下，輪流取得執政權 (C) 兩黨制的國家較能反映各階層民眾的意見 (D) 多黨制的國家都會有一個政黨在國會中取得過半的席次。

29. ()關於政黨輪替的意義，下列分析何者正確？ (A) 對在野黨而言，造成各黨間無法和平共存 (B) 對執政黨而言，施政必須對人民負責 (C) 對人民而言，將促使專制政權延續 (D) 對國家發展而言，有助於軍事力量的成長。

30. ()附表中各公職人員候選人的年齡限制，由大至小的正確排序為何？

公職候選人	年齡限制
正副總統	甲
鄉(鎮、市)長	乙
直轄市市長	丙
民意代表	丁

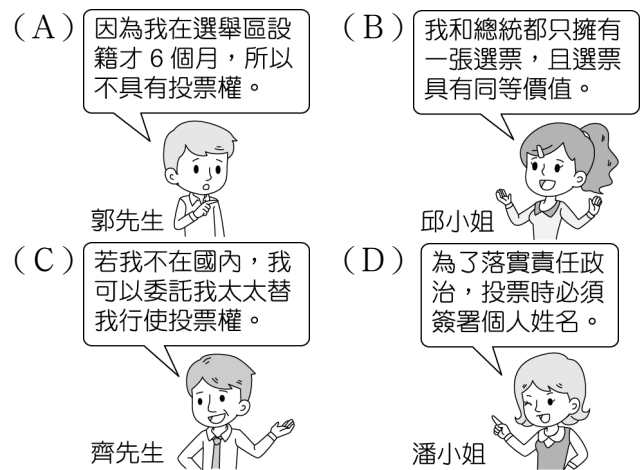
(A) 甲 > 乙 > 丙 > 丁 (B) 乙 > 丙 > 甲 > 丁 (C) 甲 > 丙 > 乙 > 丁 (D) 丙 > 乙 > 甲 > 丁。

31. ()在民主國家，政黨通常需透過選舉獲取執政的機會。附圖是嘉銘參加某候選人造勢晚會的現況，這位候選人最可能是參與何種公職人員選舉？



(A) 立法委員選舉 (B) 正副總統選舉 (C) 立法院長選舉 (D) 省主席選舉。

32. ()關於公職人員選舉的原則，下列哪一位選民的理解最正確？



33. ()各國由於歷史文化背景差異，所以發展出來的政黨模式不盡相同。附圖中兩人所談論的選舉概況，最可能發生在哪一個國家？



(A) 美國 (B) 荷蘭 (C) 新加坡 (D) 中華人民共和國。

34. ()公民老師向同學解釋執政黨、在野黨的定義後，請同學將黑板上題目的答案依序寫出。請問：正確答案為何？



(A) 執政黨、在野黨、在野黨 (B) 在野黨、在野黨、執政黨 (C) 執政黨、在野黨、執政黨 (D) 在野黨、執政黨、在野黨。

貳、題組：35-45題，共22分

一、第14任總統、副總統選舉在經歷激烈的競選過程後終於落幕了，選民透過手中的一票，決定了未來四年的執政團隊。請問：

() (35)小銘是首投族，興奮之餘竟公開亮票。請問：小銘的行為違反了選舉的何項原則？ (A)普通 (B)無記名 (C)直接 (D)平等。

() (36)三名總統候選人分別在其戶籍所在地的投票所，不透過他人，親手投下神聖的一票。請問：以上敘述顯示選舉的何項原則？ (A)無記名 (B)平等 (C)普通 (D)直接。

二、小歐正在研究幸福國的政黨型態，他發現該國國內有許多小黨，但都無法取得執政機會。附表是他整理的部分資料。請問：

執政期間	1985~1993	1993~2001	2001~2009	2009~迄今
執政黨	乙黨	甲黨	乙黨	甲黨

() (37)根據資料，幸福國應該屬於何種政黨型態？ (A)一黨專政 (B)一黨獨大 (C)多黨制 (D)兩黨制。

() (38)幸福國的政黨型態具備何種優點？ (A)人民選擇機會多 (B)行政效率低落 (C)責任分明 (D)反映社會多元民意。

() (39)幸福國的政黨型態具備何種缺點？ (A)無法反映各階層的民意 (B)缺乏其他政黨監督 (C)行政效率低落 (D)政策不易貫徹。

三、附表為2013年德國大選各政黨取得席次的比例表，請根據此表回答下列問題：

政黨名稱	席次比例
基督教民主黨／基督教社會聯盟	49.3%
社會民主黨	30.5%
左翼黨	10.2%
綠黨	10%

() (40)由表中可判斷，德國的政黨型態屬於下列何者？ (A)一黨專政 (B)一黨獨大 (C)兩黨制 (D)多黨制。

() (41)關於德國的政黨型態，下列敘述何者正確？ (A)各政黨必須合作，組成聯合政府 (B)由主要的兩政黨輪流執政 (C)執政黨不允許其他反對黨存在 (D)缺乏在野黨監督政府施政。

() (42)下列哪一個國家的政黨型態與德國相同？ (A)美國 (B)新加坡 (C)義大利 (D)中華人民共和國。

四、每到選舉時，候選人無不使出渾身解數向選民推薦自己。對於候選人的選舉資格，你了解多少？對於選民的投票資格，你又了解多少？以民國103年11月29日舉行的臺北市市長選舉為例，請試著回答下列問題。

() (43)依據相關法律對於合格候選人的各項規定，下列哪位可以參選臺北市市長？

(A) 民國103年5月29日將戶籍遷入臺北市的真昌。

(B) 民國103年11月29日年滿23歲的櫻雯。



(C) 被法院褫奪公權尚未恢復的隆寶。

(D) 已連選連任臺北市市長一次的立仁。



() (44)依據相關法律對於合格選舉人的各項規定，下列哪位有資格投票選出臺北市市長？



民國103年11月1日將戶籍遷入臺北市的美環。



民國103年11月29日過20歲生日的小丸子。



法院對其做出監護宣告的小玉。



在臺北市工作一年的日本籍花輪。

() (45)附表是小丸子所整理的選舉權與被選舉權比較表，不過有個項目她弄錯了。請問：哪項是錯誤的？

項目	選舉權	被選舉權
年齡	20歲	23歲(最低)
監護宣告	沒有投票權	不能成為候選人
褫奪公權	沒有投票權	不能成為候選人

(A)年齡 (B)監護宣告 (C)褫奪公權。

參、配合題：46-50題，共10分。

一、依據《公職人員選舉罷免法》及《總統副總統選舉罷免法》的規定，請將各公職人員連選得連任的次數代號填入空格內。

(A)一次 (B)不限制

() (46)臺北市市長。

() (47)屏東縣議員。

() (48)羅東鎮鎮長。

() (49)光明里里長。

() (50)總統。