


一、單一選擇題

1. () 國民政府在民國 38 年年底遷臺之後，外交政策曾幾度改變，請按照先後順序排列，下列何者正確
(甲)務實外交(乙)鞏固外交(丙)彈性外交
(A)甲乙丙(B)乙丙甲(C)甲丙乙 (D)丙乙甲
2. () 這場戰爭改變了美國的東亞戰略，讓撤退到臺灣不久的國民黨政權獲得喘息的機會，戰後美國正式將臺灣納入東亞反共防衛體系的一環，使臺海局勢漸趨穩定。請問：這場戰爭為何？
(A)國共內戰(B)八年抗戰(C)越戰(D)韓戰。
3. () 某條約是美國與中華民國在民國 43 年簽訂的正式國際條約，該條約是以軍事為基礎，包含政治、經濟、社會等合作的多目標條約，至民國 68 年美國與中華人民共和國建交時發布聲明自動失效。上文所述是指哪一條約？
(A)《中日和平條約》 (B)《舊金山和約》
(C)《臺灣關係法》(D)《中美共同防禦條約》
4. () 「民國 47 年，金門遭炮擊數萬發，美國總統艾森豪下令將地中海第六艦隊調遣一半到臺灣海峽，與第七艦隊會合，加上從本國和菲律賓調來的，美軍在臺灣海峽就有航空母艦 7 艘、重巡洋艦 3 艘、驅逐艦 40 艘。」請問：當時臺灣海峽發生戰爭危機，美方協防臺灣有何法源依據？
(A)《中美共同防禦條約》(B)《聯合國憲章》
(C)《臺灣關係法》 (D)《中美建交公報》。
5. () 我國派遣臺灣農業技術團到位於大洋洲的友邦索羅門群島，教導當地農民種植蔬菜、水果、稻作等技術，讓該國的人民可以自給自足。請問：這應該是屬於何種外交型態？(A)鞏固外交 (B)務實外交 (C)金錢外交 (D)統戰外交。
6. () 中華民國原本在聯合國享有崇高的地位，後來卻陷入國際孤立的困境。這樣的情況與下列哪些事有關？(甲)民國 68 年中華民國與美國斷交(乙)民國 60 年中華民國退出聯合國(丙)民國 43 年簽訂《中美共同防禦條約》(丁)民國 39 年韓戰爆發
(A)甲乙 (B)乙丙 (C)丙丁 (D)甲丁。
7. () 《臺灣關係法》乃為協助維持西太平洋之和平、安全與穩定，並授權繼續維持美國人民與臺灣人民間之商業、文化及其他關係。請問：美國國會是在何種背景下通過《臺灣關係法》？
(A)國共內戰時 (B)韓戰爆發後
(C)臺灣退出聯合國後 (D)臺美斷交後。
8. () 附圖為兩岸分治後，中國大陸出現的一幅宣傳畫作。下列哪項敘述可以反映這幅作品的時代背景

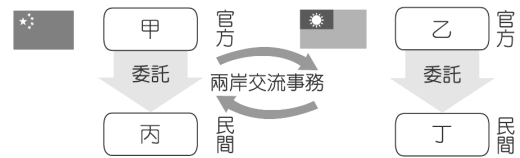


- (A)海峽兩岸情勢緊張，雙方不時爆發武力衝突
- (B)中共與美國建交，對臺提出三通四流等宣傳口號
- (C)中共主張「一國兩制」，忽略我方擁有主權的事實
- (D)兩岸展開交流，我方成立大陸委員會、海峽交流基金會因應。

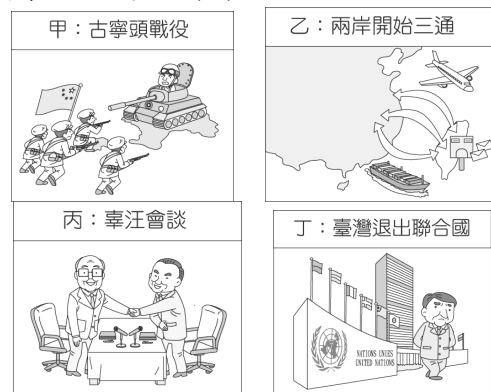
9. () 阿美到金門旅遊，在附圖的景點打卡，並寫下：「牆上的這句標語是民國 70 年代臺灣在兩岸關係上所強調的原則。」請問：當時中共對臺的策略為何？



- (A)武力對抗時期 (B)政治對峙時期
- (C)兩岸交流時期 (D)意識型態對抗期。
10. () 政府遷臺初期，臺灣海峽兩岸形成緊張的武力對抗形勢，軍事衝突也時常發生，主要集中在中國大陸東南沿海的島嶼。下列哪一個地方更是當時兩岸軍事衝突頻繁之地？
(A)金門 (B)海南島 (C)澎湖 (D)崇明島。
11. () 民國 68 年以後，中共在兩岸關係上對臺高唱三通。下列關於「三通」的敘述，何者正確？
(A)中華民國政府同意立刻與中共進行「三通」
(B)「三通」指的是通航、通郵、通商
(C)「三通」的提出，使得兩岸的軍事緊張大幅提高(D)提出的當時兩岸關係處於「兩岸交流」時期
12. () 附圖是兩岸交流事務處理機構的示意圖，根據圖中的內容判斷，圖中的「甲」應該是下列何者？



- (A)國務院臺灣事務辦公室(B)海峽兩岸關係協會
- (C)海峽交流基金會 (D)行政院大陸委員會。
13. () 承上題，根據圖中的內容判斷，圖中的「乙」應該是下列何者？
(A)國務院臺灣事務辦公室(B)海峽兩岸關係協會
- (C)海峽交流基金會 (D)行政院大陸委員會。
14. () 政府為解決兩岸民間交流而衍生的問題，乃籌組了海峽交流基金會，協助處理兩岸事務。民國 80 年代，海峽交流基金會與海峽兩岸關係協會曾在何處舉行第一次辜汪會談？
(A)臺北 (B)新加坡 (C)北京 (D)香港。
15. () 歷史老師將臺灣戰後重要外交事件的漫畫貼在黑板上，要求同學們按時間順序加以排列。請問：正確的順序應該是下列何者？



- (A)甲乙丙丁(B)甲丁丙乙(C)乙丁丙甲(D)丁乙甲丙。

- 16.()下列臺灣土地改革的措施，若依時間先後順序排列，何者正確？(甲)公地放領(乙)耕者有其田(丙)三七五減租
(A)乙丙甲(B)丙甲乙(C)甲乙丙(D)丙乙甲。
- 17.()1970年代的兩次能源危機使許多中小企業倒閉，當時政府推動某項經濟建設，協助產業界度過危機。上述所指的經濟建設是指下列何者？
(A)政府積極拓展外銷(B)全力發展高科技產業(C)十大建設(D)推貿易自由化、國際化。
- 18.()明誠若要從臺北直接到高雄，在交通上他可能會運用到十大建設中的哪兩項建設？
(A)中正國際機場、北迴鐵路(B)中山高速公路、北迴鐵路(C)蘇澳港、中正國際機場(D)鐵路電氣化、中山高速公路。
- 19.()在民國60年代，下列哪四個國家由於經濟蓬勃發展，被稱為「亞洲四小龍」？
(A)日本、臺灣、新加坡、香港
(B)臺灣、新加坡、香港、中國
(C)臺灣、新加坡、香港、南韓
(D)日本、中國、香港、臺灣。
- 20.()民國70年代，臺灣經濟復興的重要推動者李國鼎先生，認為臺灣在當時仍是開發中國家，最迫切的課題就是求富。請問：當時李國鼎等財經官員實施哪一項經濟政策？
(A)土地改革(B)獎勵日企投資，興建新式糖廠(C)體察國際分工情勢，在臺設置沿海經濟特區(D)促進產業升級，設置新竹科學工業園區。
- 21.()民國91年，臺灣加入世界貿易組織(WTO)，有助於達成何項政策目標？
(A)縮短貧富差距，實現均富理想
(B)促進經濟自由化和國際化
(C)減少經濟波動，穩定物價
(D)增進經濟效率，達到最大國民生產額。
- 22.()第二次世界大戰結束後，國民政府撤退來臺，曾經有一段時間，因為獲得某國的援助，所以跟該國關係密切，亦有利於西方流行文化的傳入。請問：此國家為下列何者？
(A)美國(B)日本(C)韓國(D)中國。
- 23.()戰後臺灣的中等教育，曾有一段時間大幅偏重職業教育，其主要原因為何？
(A)配合當時經濟建設的需要
(B)配合當時外交政策的需要
(C)配合當時人口成長的需要
(D)配合當時兩岸關係的需要。
- 24.()民國60年代，我國的內政與外交面臨嚴厲挑戰，而經濟起飛也造成城鄉差距擴大等問題，在一些知識分子的關注下，關懷臺灣的現實環境，哪一運動因而興起？
(A)國語運動(B)皇民化運動(C)西化運動(D)鄉土文學運動。

- 25.()「他的小說故事，尤以描寫鄉土人物的悲苦生活見稱，因具強烈的草根性和泥土味，被稱為鄉土作家。多部作品已改編成電影，如《兒子的大玩偶》、《我愛瑪莉》等。」上述應是指哪位作家
(A)白先勇(B)王拓(C)黃春明(D)司馬中原。
- 26.()民國57學年度起，小學生不用參加升學考試，便可直升國中，臺灣的國民義務教育因而延長為9年。實施九年國民義務教育後，主要成就為何？
(A)提高國民教育水準
(B)師資整合及教學設備提升
(C)矯正了國中惡性補習的現象
(D)全面推廣「縣市辦高中、省辦大學」的原則
- 27.()美環回顧國民政府遷臺後教育政策的發展，並整理出附表，表中的「甲」處應填入哪一個答案？

時間	教育政策
鄭氏時期	實施科舉制度
清領時期	設立儒學與社學
日治時期	建立西式教育制度
民國103年	甲

- (A)多元入學(B)啟動九年一貫課程
(C)實施九年國民義務教育
(D)推動十二年國民基本教育。
- 28.()解嚴以後，隨著政治體制的變遷與社會運動的興起，促使社會各界對教育提出更多的反省與批判，政府因此陸續推動各項改革。近年來，政府積極推動的教育改革措施不包括哪一項？
(A)國語運動(B)九年一貫課程
(C)鄉土教育(D)入學管道多元化。
- 29.()近年來，臺灣社會更趨多元化，大都市裡常可見到東南亞異國風情的餐飲店出現，這是因何者為臺灣社會注入了新的文化內容？
(A)外籍勞工與外籍配偶(B)日本官員
(C)美國駐軍(D)外省移民。
- 30.()某一個時期政府的文宣中有「兩個孩子恰恰好」、「適量生育，讓人口合理成長」等標語。以上文宣的內容與政府推行哪一政策有關？
(A)全民健保(B)家庭計畫(C)老人福利(D)本土化
- 31.()民國84年，政府為照顧全體國民，增進國民健康，將全國人民納入社會福利而制定了哪一政策？
(A)機車強制險(B)勞動基準法
(C)九年國民義務教育(D)全民健康保險。
- 32.()這是為了推廣某一政策所舉辦的網路票選活動。請問：根據圖中標題看來，此一政策的目的是為何

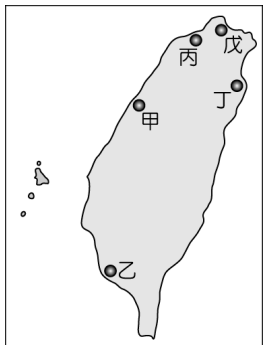


- (A)推廣一胎化政策(B)鼓勵生育
(C)推動幼稚園教育(D)推廣教育補助。

- 33.()解嚴後，臺灣社會運動蔚為風潮，民國 70 年代以後原住民走上街頭高舉「正名」、「權益」等標語，此社會運動帶來了下列何種影響？
 (A)原住民各族彼此融合大團結
 (B)原住民的權益取得法律保障 (C)原住民被迫改回日本姓名 (D)原住民取回原本的山林地。
- 34.()隨著經濟發展，城市容易吸引就業人口，遂形成人口集中都市的現象。城市容易吸引人口集中的原因不包括下列哪一項？ (A)工作機會多
 (B)交通便利 (C)生活方便 (D)環境清幽。

二、題組

1. 六十餘年來，兩岸的關係已由武力對抗轉變為兩岸交流。請問：
- () (35)兩岸處於武力對抗時期的時候，國軍常會製作空飄汽球，施放至中國大陸宣傳。請問：汽球上的標語最可能是下列何者？
 (A)一國兩制 (B)光復大陸 (C)三通四流 (D)三不政策。
- () (36)兩岸處於政治對峙時期的時候，中共對我國採取一些策略，其中下列何者為非？
 (A)三通四流 (B)一國兩制 (C)和平統戰 (D)三不政策。
- () (37)民國 76 年，政府開放赴中國大陸探親、文化交流及間接貿易，當時的總統是下列何者？
 (A)蔣中正 (B)嚴家淦 (C)蔣經國 (D)李登輝。
- () (38)民國 82 年舉行世人矚目的辜汪會談。根據當時的局勢來看，會舉辦辜汪會談應是屬於下列哪一階段的外交政策
 (A)彈性外交時期 (B)鞏固外交時期 (C)突破外交時期 (D)務實外交時期。
2. 佑倫到金門觀光，發現當地有一間著名的鋼刀廠，聽導遊說這是民國 47 年金門發生了一場戰役，在短短的 44 天內就遭受 47 萬 4 千 9 百餘發的炮彈轟炸。請問：
- () (39)金門之所以會被轟炸，是由於政府遷臺初期，兩岸關係處於下列何種情況？
 (A)政治對峙 (B)武力對抗 (C)兩岸交流 (D)談判協商。
- () (40)上文所說的戰役，是指下列何者？
 (A)八年抗戰 (B)古寧頭戰役 (C)韓戰 (D)八二三炮戰。
3. 十大建設對臺灣的經濟起飛發揮了不可抹滅的貢獻。請依據圖中內容回答下列問題：



- () (41)「甲」應是十大建設中的哪一項成就？
 (A)北迴鐵路 (B)臺中港
 (C)中正國際機場 (臺灣桃園國際機場)
 (D)中國造船廠 (臺灣國際造船公司)。
- () (42)「乙」地未包括哪一項經濟建設成果？
 (A)大煉鋼廠 (B)石油化學工業
 (C)核能發電廠
 (D)中國造船廠 (臺灣國際造船公司)
- () (43)「丙」地的建設為我國對外聯絡的重要交通設施，它是下列何者？
 (A)中正國際機場 (臺灣桃園國際機場)
 (B)蘇澳港 (C)臺中港 (D)北迴鐵路。
- () (44)「丁」處可能是哪項設施？
 (A)鐵路電氣化 (B)中山高速公路
 (C)蘇澳港 (D)核能發電廠。
- () (45)「戊」區的建設位於新北市石門區，滿足工業動力與民生需求，這是下列何項建設？
 (A)石油化學工業 (B)大煉鋼廠
 (C)核能發電廠 (D)中國造船廠 (臺灣國際造船公司)
4. 自從國民政府遷臺後，積極建設臺灣，推動多項經濟建設計畫，締造了臺灣的經濟奇蹟，令世人稱讚。：
- () (46)民國 38 年起，政府開始實施一連串經濟改革，穩定臺灣經濟。民國 40 年代，政府提出「進口替代」的策略，其目的為何？
 (A)促進國內經濟發展 (B)促進產業升級
 (C)研發新的農產品 (D)鼓勵外商投資。
- () (47)高雄「加工出口區」曾為臺灣創造大量就業機會與賺取大量外匯，這是政府在哪一時期的經濟發展策略奏效？
 (A)民國 40 年代 (B)民國 50 年代
 (C)民國 60 年代 (D)民國 70 年代。
- () (48)民國 70 年代以後，政府積極推動產業升級的政策，主要目的是要全力發展下列哪一產業？
 (A)食品、紡織等輕工業 (B)農產品加工業
 (C)資訊電子產業 (D)基礎公共建設。
5. 歷史老師希望同學們蒐集關於臺灣人口變遷的資料來做報告，同學們將蒐集到的資訊整理成附表。請問：

年代	民國 34 年	民國 39 年	民國 60 年	今日
人口數	約 600 萬人	約 750 萬人	約 1,500 萬人	約 2,300 萬人

- () (49)臺灣的人口從民國 34 年的 600 萬人大量增加至民國 39 年的 750 萬人，其原因為何？
 (A)政府鼓勵民眾生育 (B)移入臺灣的外國民眾增加 (C)國共內戰導致政府遷臺 (D)臺灣醫療技術改進。
- () (50)民國 60 年代起，臺灣人口出生率下降，是因為當時政府正在推廣哪一政策？
 (A)一胎化政策 (B)家庭計畫 (C)鼓勵民眾避免生育 (D)增產報國。