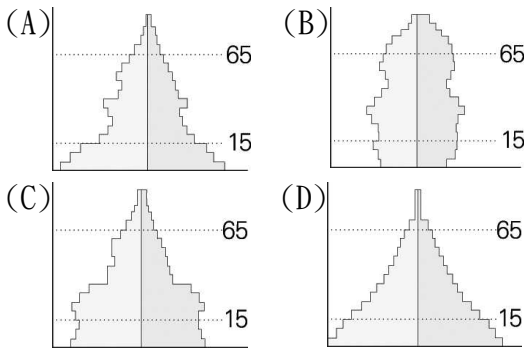


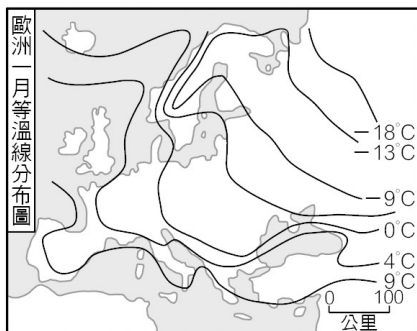
一、選擇題 (每題2分)

- 俄羅斯及東歐各國早期實施何種經濟制度，較不如其他歐洲國家靈活，因此發展較為落後？ (A)計畫經濟 (B)市場經濟 (C)資本經濟 (D)自由經濟。
- 西歐最主要的氣候類型為何？ (A)溫帶沙漠氣候 (B)溫帶大陸性氣候 (C)溫帶地中海型氣候 (D)溫帶海洋性氣候。
- 東歐為歐洲近年來發展最為快速的地區。請問：該地區主要的族群以下列哪一個民族為主？ (A)拉丁人 (B)斯拉夫人 (C)維京人 (D)阿拉伯人。
- 附圖為西歐簡圖，工業革命的發源地位於圖中何地？ (A)甲 (B)乙 (C)丙 (D)丁
- 瑞典的汽車、機械、高科技產業均相當發達，該國有利工業發展的條件為下列何者？ (A)人口眾多 (B)生長季長 (C)鐵礦豐富 (D)殖民地多。
- 歐洲西半部國家的經濟發達，其人口結構較接近下列哪張人口金字塔圖？



- 巴爾幹半島有許多東歐國家。請問：當地主要以哪一種自然景觀聞名於世？ (A)喀斯特地形 (B)三角洲地形 (C)火山地形 (D)風化地形。
- 電影《福爾摩斯》中的場景，天空經常帶著灰暗的色調，不是經常下雨，就是霧氣瀰漫整個城市，給人一種詭譎神祕的氣氛。若以氣候的角度來看，此場景的拍攝地點應安排在下列哪個城市最為合適？ (A)布拉格 (B)伯恩 (C)基輔 (D)倫敦。
- 北歐的沿海港口冬季多不結冰，因此有利於漁業、航運業的進行。請問：造成冬季港口不結冰的主要因素為下列何者？ (A)緯度不高 (B)火山地形 (C)焚風吹拂 (D)暖流經過。
- 波蘭為東歐重要的工業國家，其中格但斯克港為重要的造船中心。請問：該港口濱臨哪一個海洋？ (A)北海 (B)波羅的海 (C)地中海 (D)大西洋。

- 附圖是歐洲一月等溫線圖。圖中的等溫線在北歐沿海呈南北分布，大致與海岸線平行。造成該地等溫線呈此分布型態的最關鍵因素為何？ (A)緯度高低 (B)地勢起伏 (C)暖流流經 (D)植被疏密



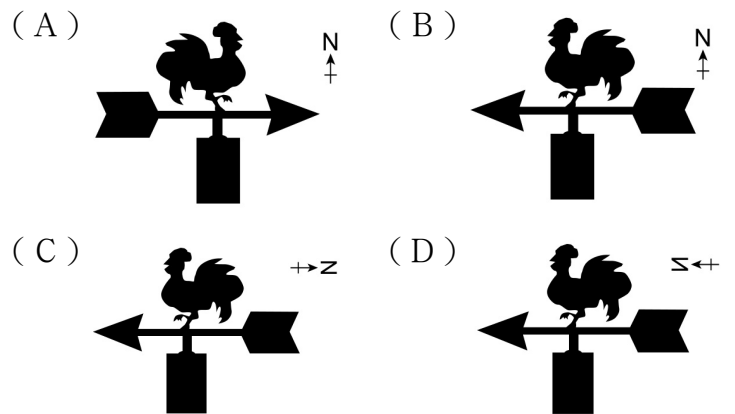
- 2010 年上海世博會歐洲聯合館內，某參展國的特色描述如下：「展館主體採用「腦細胞」的結構，「腦細胞」神經元的靈感來自於豐富的科學和藝術成就，以及作為「歐洲首都」的獨特地位，也寓意著作為歐洲三大傳統文化的

匯聚地和交會點所扮演的重要角色。」這是指下列哪個國家？ (A)英國 (B)德國 (C)比利時 (D)盧森堡

- 「這個東歐國家自然環境優越、資源豐富，利於農、工業發展，在政治、經濟上與歐盟關係密切。但也有認為應該繼續與俄羅斯合作，國內政治動盪不安使經濟每況愈下。」請問：上文中的國家應位於附圖中何處？ (A)甲 (B)乙 (C)丙 (D)丁。



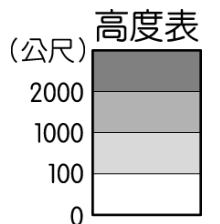
- 進入 21 世紀後，人口結構對於各國的發展影響漸大，因此受到全球重視。請問：北歐各國賴以為傲的社會福利政策目前備受考驗，是受到哪一人口問題的影響？ (A)幼兒出生率居高不下 (B)自然增加率大幅上升 (C)人口性別比不平均 (D)人口組成漸趨高齡化。
- 小丸子和爺爺到風景如畫的瑞士旅行，古靈精怪的她對風景沒興趣，反而覺得屋頂上的公雞造型特殊的風向標十分可愛。由上述推測，小丸子當時看見的公雞，比較可能是下列哪個圖示？



- 小堯準備前往北歐旅遊，他發現五國中有四個國家都使用自己的貨幣，只有這個鄰近俄羅斯的國家使用歐元，故遍遊五國要準備五種貨幣，相當麻煩。請問：上文中使用歐元的是哪一國家？ (A)瑞典 (B)丹麥 (C)挪威 (D)芬蘭。

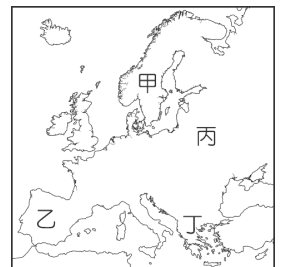
- 烏克蘭的疆域面積廣大，號稱歐洲糧倉。若以附圖中的高度表來判斷，波蘭境內主要的地形為何？

- (A) (B) (C) (D)



- 捷克在共產解體後，吸引許多外國廠商前往設廠。因為該國早期為何種工業的重心，工業基礎相當紮實？ (A)汽車工業 (B)資訊工業 (C)軍火工業 (D)紡織工業。

- 歐洲大陸依其區域特性可分為不同地區，附圖中的哪一個地區以多元化的宗教、族群為其特色，卻因地形崎嶇，族群不易統一，發展至今仍處於不穩定的狀態，故素有「歐洲火藥庫」之稱？ (A)甲 (B)乙 (C)丙 (D)丁。



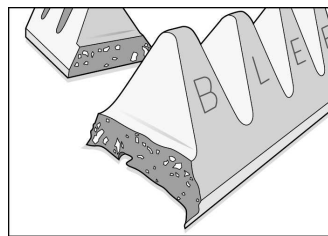
- 位於西伯利亞地區的河川，冬季多結冰，不利於水運。請問：在夏季融雪時，這些河川多流入哪一個海域？ (A)太平洋 (B)大西洋 (C)北極海 (D)印度洋。

二、題組（每題2分）

◎俄羅斯為全世界面積最廣大的國家，境內豐富的資源和獨特的自然環境，形成該國發展的特色。請問：

21. 俄羅斯境內的河運不發達，最主要的影響因素為下列何者？（A）地勢起伏大（B）氣候嚴寒（C）缺乏港口（D）聚落分散。
22. 西伯利亞今昔發展差異極大，對該地區發展影響最大的主要交通工具為下列何者？（A）公路（B）航空（C）鐵路（D）河運。

◎附圖是西歐某國家的巧克力品牌，巧克力外型是以當地阿爾卑斯山為靈感設計而成。請問：

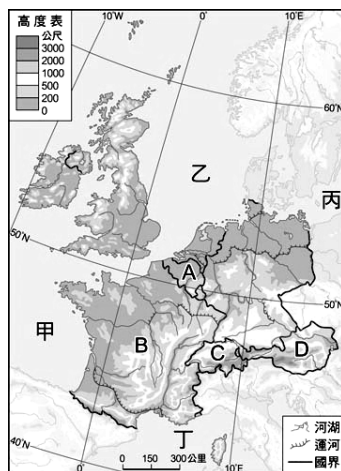


23. 此巧克力品牌可能來自哪個歐國家？（A）挪威（B）瑞士（C）英國（D）希臘。
24. 此山峰外型有許多谷地，主要是受到下列哪種地形營力的影響？（A）冰河侵蝕（B）板塊擠壓（C）火山噴發（D）風力侵蝕
25. 承上題，此地形的名稱為下列何者？（A）峽灣（B）谷灣（C）V形谷（D）U形谷

◎東歐各國在共產主義瓦解後，曾面臨經濟上的陣痛期，但近年來利用參與國際組織、吸引外資等政策，促進國內經濟發展，而逐漸走出自己的道路，也受到國際間投資機構的青睞，如美國富蘭克林投資公司即規畫了相關基金。請問：

26. 東歐各國在早期共產制度下，產業活動主要有哪一特色，因此導致解體後經濟面臨衰頹？（A）商品出口為主（B）仰賴外來投資（C）產業發展不均（D）勞工薪資低廉。
27. 投資機構針對過去實施共產主義的東歐國家所規畫的東歐基金，其主要投資國家不包括以下哪一國？（A）波蘭（B）希臘（C）烏克蘭（D）捷克。
28. 上文中的東歐基金將投資標的放在鋼鐵、煤礦的生產，鋼鐵、機械、汽車、造船等重工業方面，又須考量對外貿易的交通往來。請問：選擇東歐的哪一國家作為投資標的最為合適？（A）盧森堡（B）波蘭（C）荷蘭（D）烏克蘭。

◎西歐因經濟發展程度高，文藝與時尚氣息濃厚，不論是農牧業、工業、觀光、金融業等都十分發達，使西歐成為世界熱門的旅遊勝地。請配合圖(一)回答下面的問題。



29. 萊因河流貫歐洲中樞地區，為歐洲航運最盛的河川，這條河川出海的海域為下列何者？（A）甲（B）乙（C）丙（D）丁。

30. 附圖是某個歐元區國家發行的歐元硬幣，硬幣正面圖案上是著名音樂家阿馬迪厄斯·莫札特，象徵該國是一塊音樂的土地，音樂藝術氣息濃厚。試問此歐元發行的國家為下列何者？（A）A（B）B（C）C（D）D。

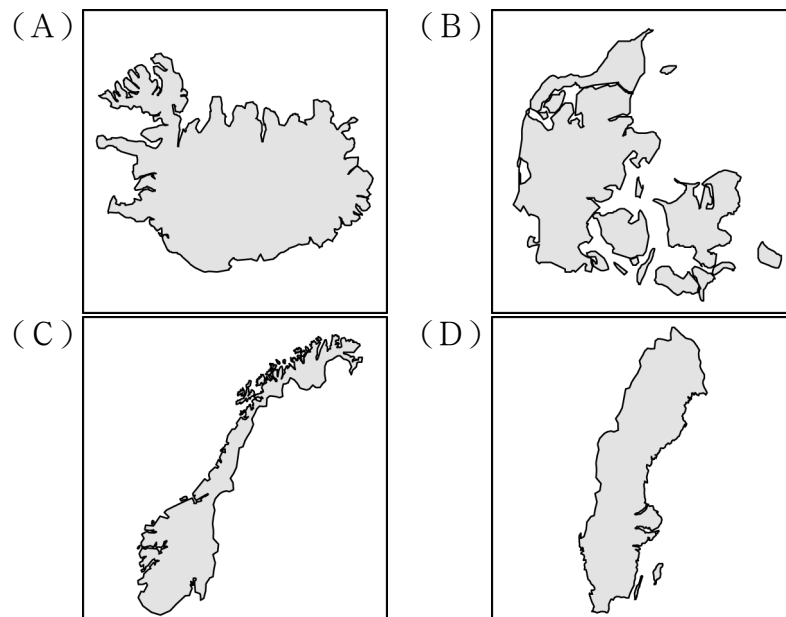


31. 「該國的銀行一直被認為是全球最令人信賴的銀行，世界上約有四分之一的個人財富存放在這裡，各國政要、商界鉅子和演藝明星對存款放在該國感到安心，這造就了該國

聞名於世的金融業。鐘錶生產也是該國著名的產業，Swatch 及勞力士手錶，都出於此。」上述這個國家是指何者？（A）A（B）B（C）C（D）D。

◎柯市長前往北歐唯一島國考察當地的福利政策，以便作為市政的借鏡。請問：

32. 柯市長飛抵該國後，在機場看到了該國的觀光資訊地圖。請問此地圖應為下列何者？

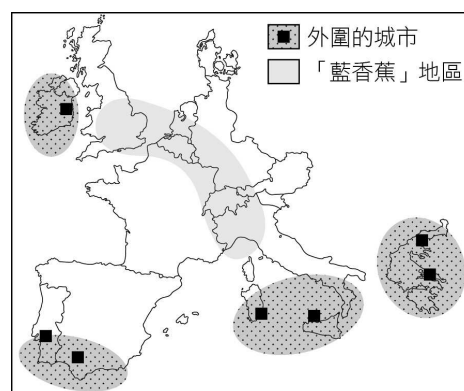


33. 該國的經濟官員向柯市長介紹其經濟發展，由於當地何種條件優越，因此煉鋁產業相當發達？（A）地熱（B）森林（C）煤礦（D）天然氣。
34. 該國的社會福利制度相當完善，其社會福利所需要的經費來源與下列何者關係最大？（A）壯年人口比例高（B）北海開採石油（C）居民須負擔高額稅金（D）國營企業經營良好。
35. 會談結束後，該國官員贈送柯市長一組能代表冰島特色的紀念物。請問這紀念物最不可能為下列何者？（A）鐵塔造型鑰匙圈（B）鱈魚罐頭（C）湖泥手工皂（D）火山景觀明信片。


◎2016年6月24日英國舉行脫歐公投，公投結果使英國成為史上第一個退出歐盟的國家，令世界震驚，全球金融市場也遭到重創。請問：

36. 英國是最早開始工業革命的國家，早期工業區集中在本寧山周圍。英國早期工業發展的區位條件為何？（A）原料（B）市場（C）交通（D）勞工
37. 1970年代，英國在何處發現豐富的石油資源？（A）地中海（B）黑海（C）愛琴海（D）北海
38. 英國退出歐盟後將出現下列何種狀況？（A）與美國結盟，對抗歐盟（B）退出歐元區，導致歐元貶值（C）南歐農產將受英國強烈競爭（D）與歐盟成員貿易無法免關稅

◎夜晚時分從太空觀看歐洲時，會出現一道光弧，這道光弧猶如藍色X光射線，這故將個歐洲經濟最核心區域稱為「藍香蕉」。而其涵蓋範圍，如附圖所示。請問：



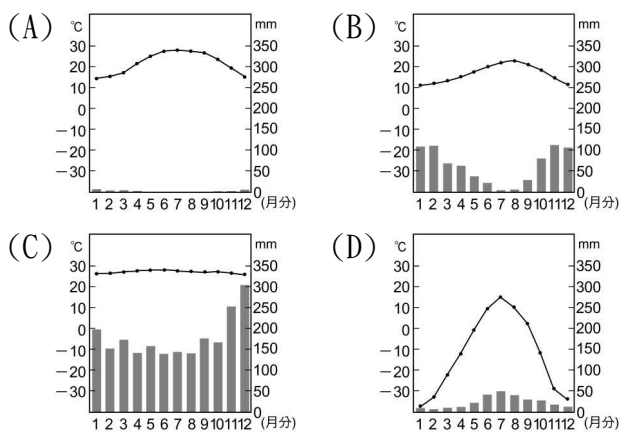
39. 「藍香蕉」地區大致與何種資源分布範圍一致？ (A) 石油 (B) 煤鐵 (C) 小麥 (D) 地熱。
40. 「藍香蕉」地區並未經過下列哪個國家？ (A) 西班牙 (B) 比利時 (C) 義大利 (D) 奧地利
41. 目前，世界工業大國幾乎都是汽車工業發達的國家。下列哪個車款是來自「藍香蕉」地區的國家所生產？



◎附圖為黛安娜收到的聖誕賀卡，由卡片上的郵戳可知，這是從「聖誕老人村」寄出來的。請問：



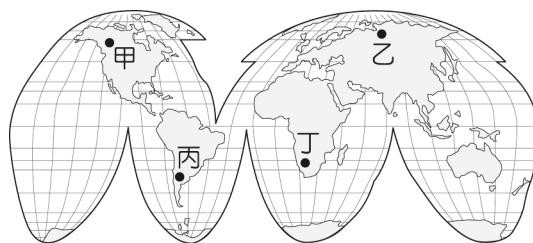
42. 這個位於北極圈附近的「聖誕老人村」，最接近下列何種氣候類型？



43. 當地在聖誕節前後晝夜變化相當大，甚至還會出現「永夜」現象。造成此現象的原因為何？ (A) 地軸傾斜 (B) 地質古老 (C) 板塊擠壓 (D) 暖流流經
44. 有關聖誕老人的故鄉——芬蘭，下列敘述何者正確？ (A) 號稱「峽灣王國」 (B) 以通訊產業聞名 (C) IKEA 家具全球熱賣 (D) 首都為斯德哥爾摩。

◎日前香港報導指出：「烏克蘭將成為中國最大的海外農場」，引來眾多國際間的關注。烏克蘭將向中國提供 300 萬公頃的土地從事各種農牧業的發展，成為主要的生產地，被稱為是近期中國向東歐擴展的重要一步。請問：

45. 烏克蘭農業興盛和下列何者關係最大？ (A) 土壤肥沃 (B) 終年多雨 (C) 生長季長 (D) 鄰地中海。
46. 從烏克蘭的地理位置、氣候條件來看，中國在烏克蘭進行的農業發展，可能以哪一作物的大規模種植為主？ (A) 稻米 (B) 甘蔗 (C) 小麥 (D) 茶葉。
47. 上述與中國的合作協議被認為是烏克蘭經濟自主的重要一步，希望藉由這些國際間合作，降低對共產時期以來對鄰近哪一大國的經濟依賴？(A) 甲 (B) 乙 (C) 丙 (D) 丁。



◎蘇聯解體後，由於經濟上的困窘，許多原本共產聯盟的國家紛紛朝向歐洲聯盟靠攏，俄羅斯總統普丁上臺後，對鄰國的態度漸強硬。2014 年俄羅斯派兵進入烏克蘭的克里米亞地區（位置如附圖），烏克蘭政府嚴厲指責俄羅斯的軍事干預與併吞，引發全球矚目，西方國家因此對俄羅斯採取經濟制裁。請問：



48. 為求短時間內攻占克里米亞地區，由其地理位置來看，普丁最可能派遣何處的軍艦就近支援？ (A) 地中海 (B) 大西洋 (C) 黑海 (D) 波羅的海。
49. 除了海線的進攻外，當時俄羅斯也派遣軍隊進入克里米亞，依圖中位置判斷，這群軍隊可能來自鄰近的哪一地區駐軍？ (A) 烏拉山 (B) 高加索山 (C) 西伯利亞東部 (D) 北極海沿岸。
50. 克里米亞事件後，西方國家對俄羅斯進行經濟制裁。請問：何種商品的禁止出口對俄羅斯造成的衝擊性最大？ (A) 木材 (B) 石油 (C) 小麥 (D) 汽車。