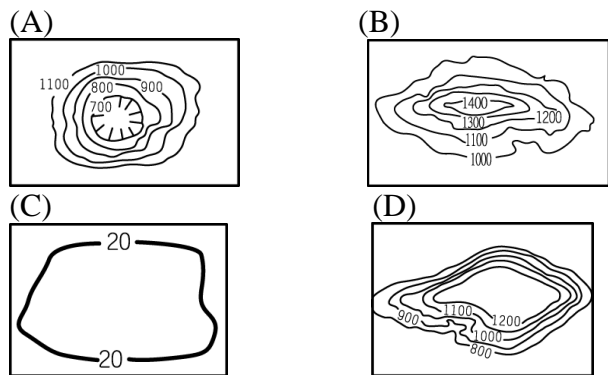


臺北市民族實驗國民中學 109 學年度第 1 學期第一次段考八年級地理科題目卷

一、基礎題 (30題，每題3分，共90分)

1. 下圖為中國地勢三階示意圖，請問以下各地形等高線圖所表示的地形種類，何者在甲區中出現的可能性最「低」？



2. 季風影響中國氣候甚為深遠，請問：亞洲東部之所以會有氣壓數值消長變化、並促成季風現象的原因，應為下列何者？

- (A) 境內地勢高低落差大
- (B) 受河流、湖泊等陸地內水體分布影響
- (C) 面積廣大，地跨熱、溫、寒三帶
- (D) 因大範圍海(太平洋)陸(歐亞大陸)分布比熱差異

反送中示威運動 2019 年如火如荼展開，曾吸引近百萬人共同上街抗議。運動雖然讓地方政府撤回逃犯條例草案，但北京今年 6 月底通過並實施「 國家安全法」，連本帶利壓迫公民的自由與人權，引發國際社會高度關注，自英國回歸中國以來，本地在自治與中央權力拉扯不斷；與相隔不遠的澳門形成明顯對比。經濟日報 2020.9.17

3. 請問：該新聞事件，其中「 國家安全法」。最有可能發生於中國哪一個省級行政區呢？

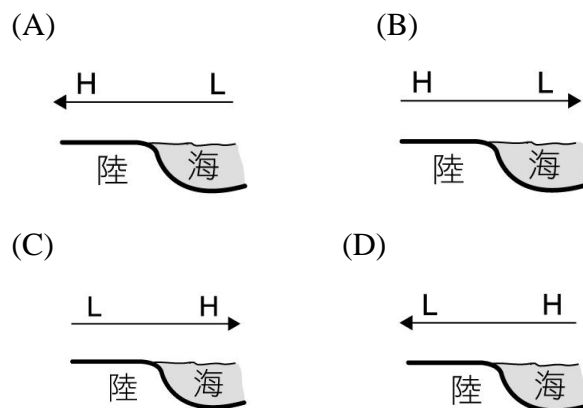
- (A) 廣西壯族自治區
- (B) 上海市
- (C) 香港特別行政區
- (D) 山東省

4. 季風氣候區因為氣候較為溼潤，因此成為重要的農業活動分布地區。中國境內的季風氣候類型分為熱帶、副熱帶、溫帶等三種類型。這三種氣候類型的分布最主要受到下列何項因素影響而有不同？

- (A) 緯度高低
- (B) 距海遠近
- (C) 面積大小
- (D) 降雨多寡。

◎【圖一】為中國地圖，請根據該圖回答 5~7 題：

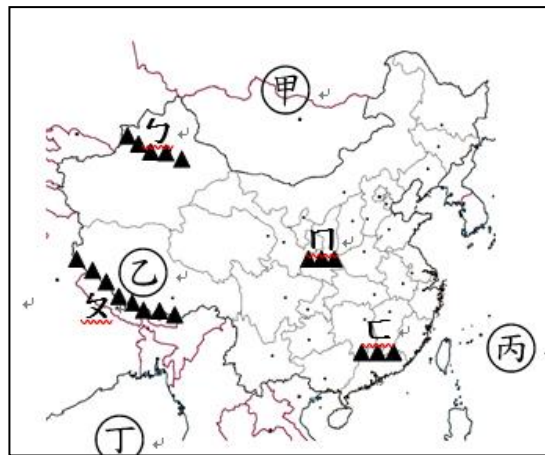
5. 下列為氣壓風向示意圖，H、L 各代表高、低氣壓，箭頭代表風向。請問：下列何者最能代表中國冬季時的氣壓風向圖？



6. 請問：此刻高氣壓中心，應位於【圖一】中的何處？

- (A) 甲
- (B) 乙
- (C) 丙
- (D) 丁

7. 請問：此刻 0°C 等溫線的分布位置，約與【圖一】中何座山脈相符？ (A) ㄅ (B) ㄆ (C) ㄇ (D) ㄊ



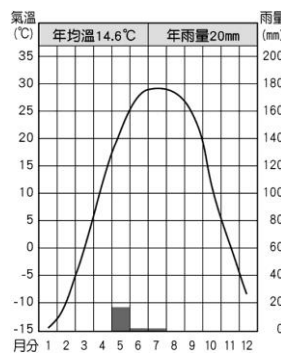
【圖一】▲

◎【圖二】是中國某都市的氣候圖，請根據該圖回答 8~9 題：

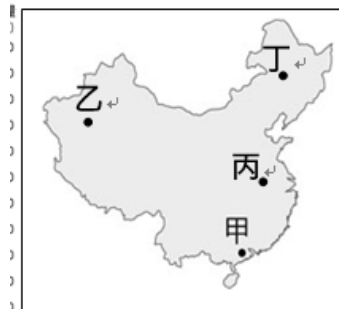
8. 氣候圖【圖二】最有可能是【圖三】中哪一個地點的資料？ (A) 甲 (B) 乙 (C) 丙 (D) 丁

9. 若由甲地啟航，向北依序瀏覽丙、丁地，沿途將會感受到以下哪個數值越來越大？

- (A) 年溫差
- (B) 冬季氣溫
- (C) 地勢高度
- (D) 年雨量



【圖二】▲



【圖三】▲

10. 西元 2006 年美國中央情報局出版的《世界概況》一書中，提到中國政策實施時的性別比兩項資料，分別是性別比為 106 與新生兒性別比 115。請問：造成此種現象的主因為何？

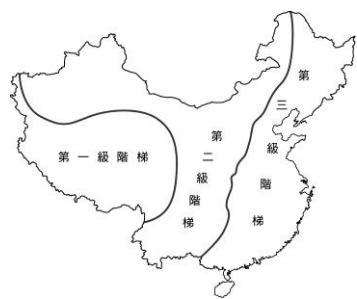
- (A) 人口數量眾多
- (B) 勞動人口不足
- (C) 重男輕女觀念
- (D) 人口成長快速。

班級座號：

姓名：

11. 小安想要解釋中國主要河川流向多由西向東流的原因，則他以下列哪一張圖來說明最適合？

(A) (B)

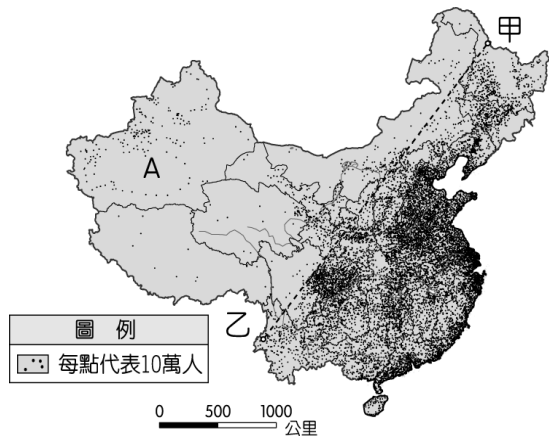


(C) (D)



12. 下圖為中國的人口分布狀況，其中甲乙連線以東的地區，因受到何種因素的影響而成為人口稠密區？

(A)地勢較高 (B)氣候溼潤 (C)礦藏豐富 (D)氣溫涼爽。

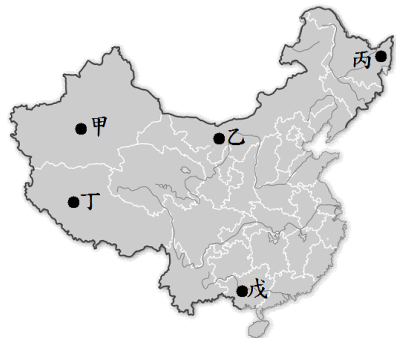


13. 下圖為中國某一少數民族的住屋形式，主要是以防潮濕與防蚊蟲為主(房屋底部架高)，根據其建築形式判斷，該民族應該分布在左圖中國哪一位置？

(A)戊 (B)丙 (C)丁 (D)乙。

14. 「藏族的聲音-青藏高原」為中國著名民謠之一，嘹亮的歌聲象徵著高原民族的遼闊心境與肺活量。請問：該歌曲的發源地為下列何地？

(A)甲 (B)丙 (C)丁 (D)乙。



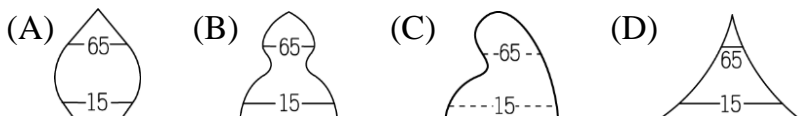
15. 小箴參加旅行社承辦的中國之旅。在遊覽車直行的路程中，沿途的農作物景觀由稻作水田漸漸轉變成小麥旱田的景象，若依據中國的緯度條件來判斷，旅行社的行程路線方向安排最可能為下列何者選項？

(A)從北部至南部 (B)從南部至北部
(C)從東部至西部 (D)從西部至東部。

16. 侗族是中國少數民族之一，古歌謠傳唱著「祖公的地盤好比一條船，人太多了要翻船；一棵樹上一窩雀，多了一窩就挨餓。」請問：其涵義最接近下列哪一種選項？

(A)扶養比 (B)性別比 (C)城鄉移動 (D)環境負載力。

17. 中國政府計畫生育政策實施之前，境內的人口問題相當嚴重，政策實施之後，為了控制人口成長，出現了下列標語：「寧可血流成河，不准超生一人」。請問：中國實施此項政策前的人口金字塔的型態接近下列何者？



18. 1978年後，中國於沿海成立經濟特區，吸引外商進駐。請問何者為中國當年吸引外國廠商的主要優勢？

(A)薪資低廉、交通便利 (B)資金充足、勞力優勢
(C)教育普及、人口眾多 (D)技術先進、交通便利。

19. 中國的人口數目前為世界第一，未避免人口爆炸成長甚至祭出一胎化政策抑制。其人口增加的主因與下列哪一種選項符合？

(A)自然增加多、社會增加多
(B)自然增加多、社會增加少
(C)自然增加少、社會增加多
(D)自然增加少、社會增加少。

◎中國政府因為防疫無力，導致所有省市區都爆發非洲豬瘟疫情，除了摧毀中國這個全球最大的豬肉產業，也持續威脅亞洲鄰近國家。聯合國糧農組織 (FAO) 擔憂，可能有更多亞洲國家淪陷，使其成為全球史上最嚴重的動物疫情。

自2019年8月中國爆發非洲豬瘟以來，中國高達1280億美元的豬肉市場就遭到重創，在大量撲殺之前，中國原本擁有全球規模最大的6億頭豬，去年平均每人食用30.6公斤豬肉，幾乎為食用禽肉的3倍。

荷蘭合作銀行 (Rabobank) 預估，中國豬隻因非洲豬瘟加上撲殺，今年可能減少1/3，高達2億頭，幾乎與美國和歐洲的豬隻相加一樣多。

20. 非洲豬瘟議題 2019年在中國爆發，不僅造成豬肉價格大漲，也連帶牽動臺灣緊張神經。請問：此現象反映了中國農業發展中所面臨的哪個問題？

(A)人均可耕地面積狹小 (B)水資源分配不均
(C)集約化牲畜飼養 (D)城鄉發展差異大。

班級座號：

姓名：

21. 中國從 2008 年開通第一條高速鐵路，至 2016 年總營運里程共 2 萬公里，其中時速達 300 公里的路線超過 1 萬公里以上(如下圖)，占了全世界的 60%，中國高鐵在短短幾年間，已成為世界最大規模的高鐵網。請問：造成中國高鐵分布東部較西部密集的現象與下列哪一因素較不相關？
(A)地勢低平 (B)人口密集 (C)礦產豐富 (C)工商繁榮。

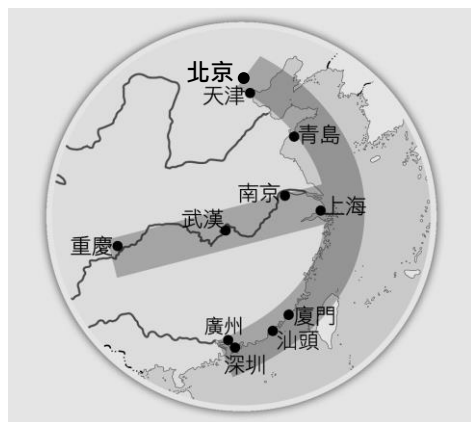


◎中國經濟高度發展的東部地帶，由北而南宛如一張弓，而河流就有如搭在這張弓且拉滿弦的箭(如下圖)，象徵了中國的經濟力將射向太平洋邁入全世界，而弓弦的四端點，北京、上海、廣州、重慶，更是經濟發展的重要核心。請回答下列 22-24 題：

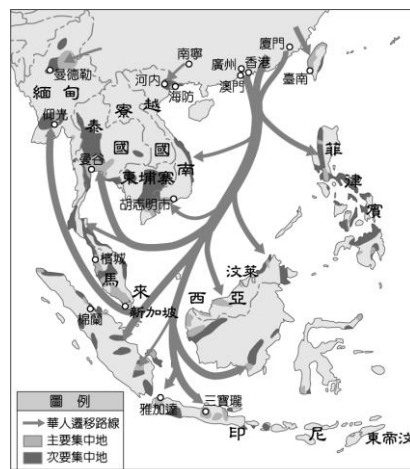
22. 以下對於此四個都市的優勢分析，正確者為何？

選項	城市	優勢分析
(A)	北京	氣候暖濕，物產豐饒
(B)	上海	交通位置優越，腹地廣大
(C)	重慶	重要海港，交通優勢重要
(D)	廣州	礦產豐富，為重工業重鎮

23. 位於弓弦四端的城市中，有一個行政位階明顯低於其他，請問是哪個城市？
(A)北京市 (B)上海市 (C)廣州市 (D)重慶市。
24. 「北漂」代表一種中國的人口移動，意思為青年離鄉背井到北京工作奮鬥，請問：這在人口推拉理論中，是因為第一線城市的何種作用力而產生北漂人口？
(A)推力 (B)拉力 (C)重力 (D)中間障礙。



◎下圖為華人移民遷移圖，中國人口眾多且資源分布不均，快速增加的人口可能造成糧食不足，促使人們離開家鄉尋找耕地或工作機會，而向國外遷移，請回答 25-27 題：



25. 在明清時期的華人主要是順應哪一個季節的季風，乘船移民到東南亞才順風？
(A)春季 (B)夏季 (C)秋季 (D)冬季
26. 若僅由上圖資訊判斷，華人遷徙到下列哪一個國家最少？
(A)泰國 (B)印尼 (C)寮國 (D)菲律賓。
27. 小城寒假至馬來西亞一遊，發現這裡文化多元，身受早期華人移民文化影響，語言混用情形非常明顯，反映祖先原鄉母語傳承。請問：根據移民文化原則，下列哪一種語言在馬來西亞聽到比例較低？
(A)福建話 (B)廣東話 (C)客家話 (D)上海話。

◎下文為一胎化政策相關報導，請閱讀完畢後，回答下列問題

中國的生育率(育齡期婦女平均生育子女數)從 1970 年代之前的 6 左右，降至 1990 年的 2 左右，再降至現今的 1.5 左右，不僅低於全球平均的 2.47，還低於高收入經濟體的 1.6。與此同時，適齡生育女性規模也正在縮減。2016 至 2019 年，15 至 49 歲育齡婦女數量按年分別減少 491 萬、398 萬、715 萬、502 萬。

人口學者、全球化智庫(CCG)特邀高級研究員黃文政表示，按照現有生育水平，新生兒下降趨勢難以扭轉，而且會下降得更明顯，2020 年代出生的「20 後」還會比「10 後」減少 3 到 4 成。「現在來看，如果生育政策不調整的話，人口負增長的拐點可能會早於 2027 年到來。」北京大學社會學系教授陸傑華則推算，預計到 2027 年前，中國人口就會呈現負增長。




21 世紀經濟報道 2020.7.8

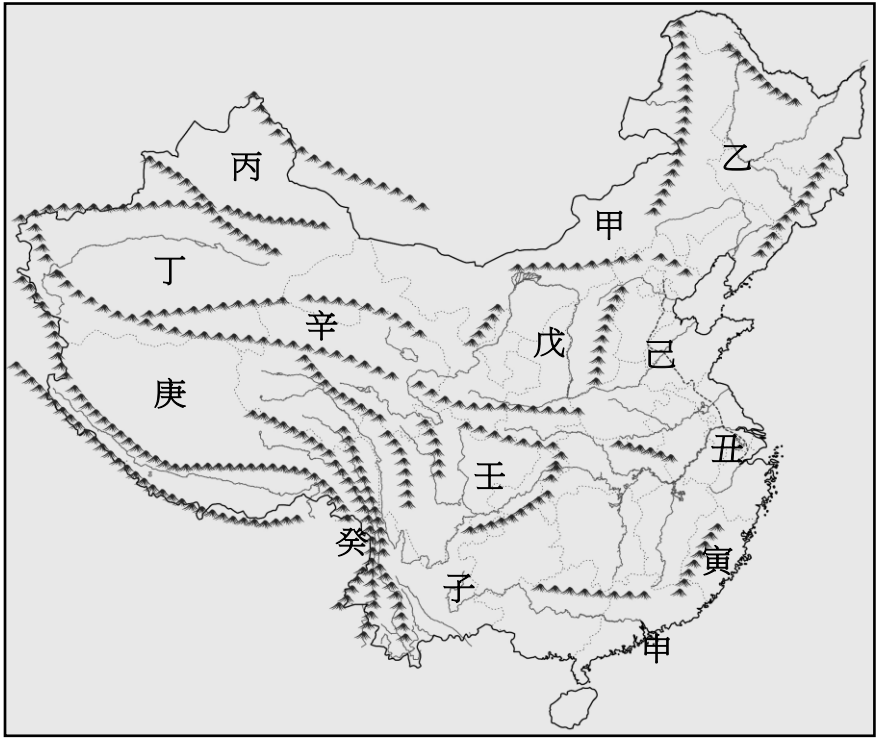
28. 根據上文，我們可以瞭解中國正面臨何種問題？
(A)中國未來可能因死亡率上升造成人口負成長狀態
(B)中國生育率與幼年人口縮減現象已無法忽視
(C)中國性別比失衡現象因性別平等觀念普及已逐漸消失
(D)2020 年出生的「20 後」人口比「10 後」人口多。
29. 1979 年實施的一胎化政策影響中國的人口結構，卻也造成新的問題，根據出生人口成長年齡判斷。請問：下列哪一個年齡層受到該政策的影響，造成性別比失衡的情況最為明顯？
(A)0~14 歲 (B)15~40 歲 (C)40~65 歲 (D)65 歲以上
30. 中國政府 2013 年 11 月實施單獨二孩政策，2016 年實施全面二孩政策後，出生人口卻不及預期。請問：若想要刺激生育率，應推動哪項配套政策較為合理？
(A)增加高齡人口照護機制經費
(B)男女雙方均可在申請產假延長至 365 天
(C)進一步開放生育限制，可以生育 3 胎以上。
(D)公立托兒所全面私立化，透過市場競爭提升照顧品質


本卷整張交回

三、填圖題(10題，共10分)



(一)請判斷以下文句分別為哪一個**地形區**的區域特色，並於答案卷上寫出地形區的「名稱」與「代號」：

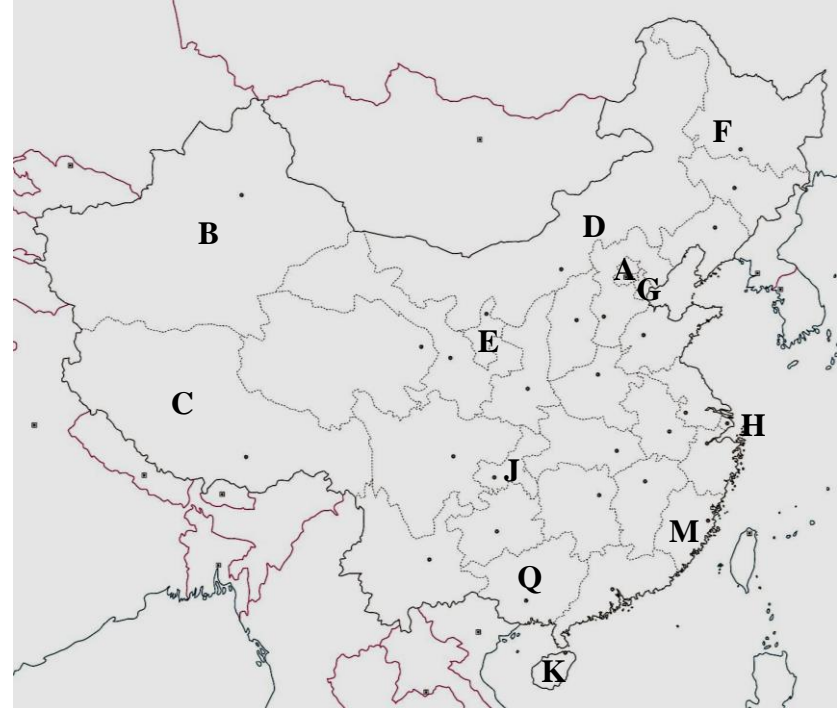
特色描述	
1.	黃河流經的高原，因高原土質而成滾滾黃湯，高原上的窯洞更是著名居住形式。 
2.	儘管這裡荒涼蕭瑟、遼闊的大地了無生氣，這個中國最大沙漠近期因蘊含石油，搖身一變從死亡之海變成希望之海。 
3.	高山環堵狀似搖搖欲墜的棧道成為進出本區的旅人或行軍者避不開的惡夢，古人甚至有「蜀道難於上青天」之嘆。今日部分古棧道在精心維修之下，成為此區觀光景點。 





4.	遼闊的草原，點點羊群點綴其間，一望無際的遼闊，讓人心曠神怡，蒙古包游牧民族景觀更是少見。 
5.	生活在這世界屋脊上的哺乳動物-犛牛，肉可食、奶可飲、糞便可當燃料，是當地居民日常生活不可或缺的牲畜。 

(二)請判斷以下文句分別為哪一個**行政區**的區域特色或描述，並於答案卷上寫出「名稱」與「代號」：

特色描述	
6.	這裡的獨特性不僅限於「首都」的地位，也包括了擁有歷史悠久的皇城、以及中國高科技中心的頭銜。 
7.	四季炎熱的熱帶海島風情，讓此處的觀光業如雨後春筍般蓬勃發展。 
8.	「集中營」與「再教育營」的國際爭議不斷。儘管受國際譴責，中國仍以「分裂主義」罪名判處一名和平抵制中共對當地維吾爾民族政策的大學教授終生監禁，並剝奪全部財產。此舉使中國的國際輿論再次升溫。



9.	清領時期前臺灣人的祖籍，大部份都源自於這個僅一海之隔的省分；武夷山區的茶園飄香，更是此處最醉人的景致。 
10.	冬季大雪紛飛冰封了河流，但也讓這個緯度最高的省份多了個哈爾濱冰雕展的觀光噱頭。 

作答欄 (勿撕下，本卷整張交回)

班級座號_____ 姓名_____ 得分_____

(一)地形區請寫下「完整地形名稱」(例如：內蒙古高原)與「代號」：(每格0.5分)

	1.	2.	3.	4.	5.
名稱					
代號					

(二)行政區與「代號」：(每格1分)

	6.	7.	8.	9.	10.
名稱	北京市	海南省	新疆特別行政區	福建省	黑龍江省
代號					