

臺北市民族實驗國民中學 109 學年度第 3 學季成就評量八年級地理科題目卷

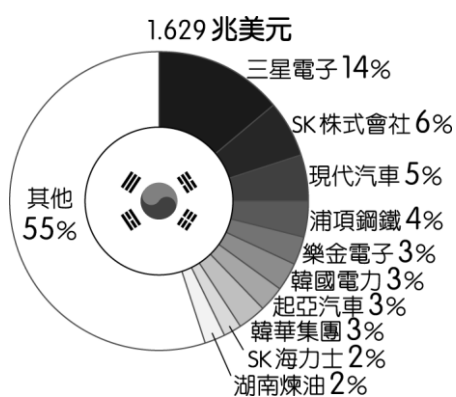
一、基礎題 (30題，每題3分，共90分)

1. 下列為四位學生在課堂上製作的海報。其中哪一張海報說明的地理現象，與該地位於火山地震帶上最有關係？

(A) 巴拿馬 鄰接大洋 航海運輸發達	(B) 臺灣 位置優越 工商產業發達
(C) 加拿大 洋流交會 近海漁業興盛	(D) 日本 地熱豐富 觀光溫泉興盛

2. 下圖是 2019 年南韓前十大企業營收占南韓 GDP 比例圖，由圖中資訊判斷，南韓企業有何特色？

- (A) 中小企業居多 (B) 個人創業盛行
(C) 多為大型財團 (D) 實施共產制度。

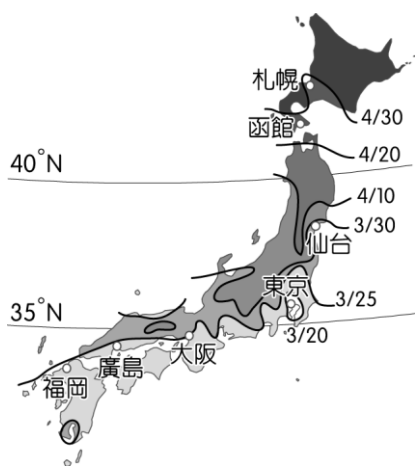


3. 阿城參加日本北海道的雪祭旅行團時，和其他團員們討論到北海道降雪水氣的主要來源。下列哪一位說法最正確？

- (A) 阿蓮：「因為有冬季旺盛的對流。」
(B) 阿蘭：「南下流經沿岸親潮的影響。」
(C) 阿龍：「越過太平洋的東南季風所引起的。」
(D) 阿德：「經過日本海的西北季風所導致的。」

4. 下圖為日本某種活動發生的不同日期(月/日)，請問：從日期的先後順序判斷，此活動可能為何？

- (A) 賞雪 (B) 賞櫻花 (C) 賞楓葉 (D) 賞花火



5. 季風氣候區因為氣候較為溼潤，因此成為重要的農業活動分布地區。日本境內的季風氣候類型分為副熱帶、溫帶等兩種類型。這兩種氣候類型的分布最主要受到下列何項因素影響而有不同？

- (A) 緯度高低 (B) 距海遠近 (C) 面積大小 (D) 降雨多寡。

6. 東南亞各國的經濟增長相當快速，自 1967 年當地的東南亞國協(ASEAN)成立以來，各國平均的 GDP 增長率約為每年 8~11%，成為重要的新興市場，也吸引了許多外資進入。此現象與當地具備哪些發展條件關係最大？(甲)人口眾多(乙)技術進步(丙)資源豐富(丁)資金雄厚

- (A)(甲)(乙) (B)(丙)(丁) (C)(甲)(丙) (D)(乙)(丁)

7. 中國籌畫在雲南縱谷區湄公河上游興建多座水庫，這些水庫興建完成後，將影響到下游的用水和生態環境。請問：下列哪一半島會受到影響？

- (A) 中南半島 (B) 印度半島
(C) 朝鮮半島 (D) 阿拉伯半島。

8. 2012 年，某作物的世界前四大出口國為泰國、印尼、越南和馬來西亞。根據這些國家的自然環境特徵判斷，該作物最可能為下列何者？

- (A) 小麥 (B) 棉花 (C) 橄欖 (D) 橡膠。

9. 傳統上日本人吃米飯壽司，而中國華北的居民則吃以麥類為原料的饅頭麵條。兩地緯度相近，主要的糧食作物卻不相同，這種差異與下列哪一要素關係最密切？

- (A) 氣溫 (B) 降水量 (C) 地形 (D) 人口。

10. 「泡菜」對韓國家庭而言非常重要，每個季節各家會醃製出許多口味的泡菜。請問：下列何種因素，促成泡菜文化的盛行？ (A) 地形 (B) 土壤 (C) 水文 (D) 氣候。

11. 下圖是某種食品的標章，說明處理的過程中，非常注意清潔衛生與程序。請問：何種信仰的人以食用此種標章的食物為主？

- (A) 佛教 (B) 印度教 (C) 基督教 (D) 伊斯蘭教。



12. 萌萌暑假到印尼的峇里島度假，參觀當地最著名的布沙基寺，欣賞其秀麗的建築特色。請問：峇里島地區主要的宗教信仰為下列何者？

- (A) 印度教 (B) 佛教 (C) 伊斯蘭教 (D) 基督教。

13. 漁產在日本人的飲食中占有重要地位，如生魚片(刺身)、章魚燒等，皆為日本飲食文化的特色。請問：日本的漁產豐富與下列何項條件關係最為密切？

- (A) 地形山多平原少 (B) 國土跨越緯度大
(C) 沿海有寒、暖洋流交會 (D) 受中國飲食文化影響。

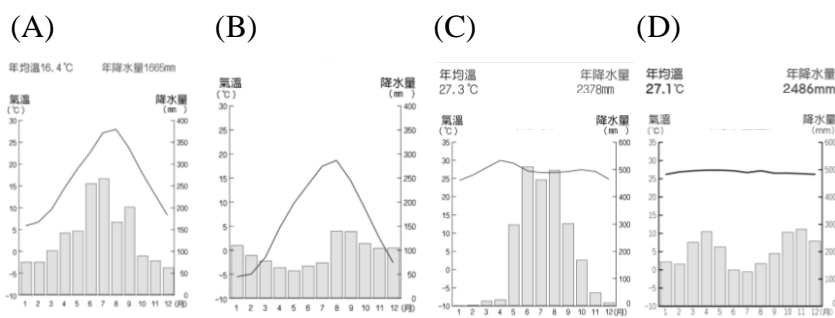
14. 東南亞除了人文景觀外，自然環境亦具有其獨特性。例如東南亞某國家被譽為火山王國，除可發展觀光活動外。充沛的勞動力人口(2.7 億人口)與肥沃的火山灰土使農業相當發達。經常噴發的火山更讓人們對於大自然的力量更加敬畏。依上述內容判斷，應是下列哪一個國家？

- (A) 新加坡 (B) 印尼 (C) 泰國 (D) 越南

班級座號：

姓名：

15. 臺灣夏季避暑的好去處，莫過於是北海道，不僅有著微涼的夏季，亦可品嚐在地的哈密瓜，賞薰衣草等景觀。請問：北海道溫帶季風氣候的特性，以下列哪一張氣溫雨量圖為代表？



*題組題，請閱讀短文回答問題：

日本自古以海洋立國，因此一直積極擴大經濟海域範圍，而與周圍國家衝突不斷。2012年9月和臺灣在釣魚臺經濟海域發生衝突，兩方船隻互噴水柱，引起區域間情勢緊張。在2015年也和韓國發生獨島爭議，2016年則和中國爭奪海域的石油開採權利，更成為國際間的焦點。請問：

16. 日本與周圍國家因經濟海域範圍而常有衝突，根據聯合國《海洋法公約》規定，其經濟海域應由領海基線向外推至多少浬的範圍？
 (A)12浬 (B)16浬 (C)200浬 (D)1200浬。
17. 日本和臺灣、中國發生爭議的釣魚臺海域，是位於下列哪一海域範圍？ (A)渤海 (B)南海 (C)東海 (D)黃海。

*題組題，請閱讀短文回答問題：

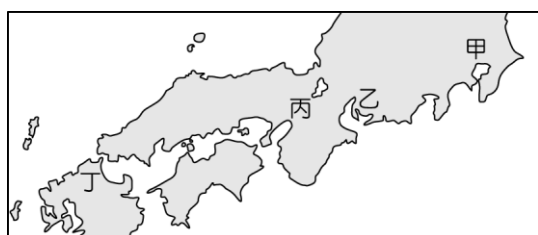
日本由四大島嶼和眾多小島構成，全國共有 6,852 個島嶼，總面積共 377,950.1 平方公里。境內約 75% 屬山地丘陵地帶，少數的平原成為人口聚集的精華區。請問：

18. 日本的山脈分布大致如圖(一)所示，其走向成因和下列何者的關係最大？
 (A)板塊擠壓方向 (B)地下岩層種類 (C)河川堆積作用 (D)面積大小差異。



▲圖(一)

19. 日本地形多山，山地地形對於降水分布有所影響，而形成下列何種特色？ (A)夏季降水西多東少 (B)夏季降水北多南少 (C)冬季降水西多東少 (D)冬季降水東多西少。
20. 日本的平原地形少，通常是重要的人口聚集精華區，例如京都即分布於圖(二)中哪一區，為該國早期的古都，歷史悠久，因此以古蹟著名？
 (A)甲 (B)乙 (C)丙 (D)丁。



▲圖(二)

*題組題，請閱讀短文回答問題：

韓國近年來在國際上的影響力漸趨明顯，並常藉由大型活動的舉辦增加在國際媒體上的曝光度，其經濟上的突飛猛進，更是令各國刮目相看。請問：


21. 朝鮮半島位於中國和日本群島之間，有「東亞橋梁」之稱。因為政治立場而分隔形成北韓及南韓，其中南韓農業活動較北韓發達，其主要原因為何？
 (A)地形較平坦 (B)熱帶氣候區
 (C)機械化耕作 (D)集體式耕作。
22. 朝鮮半島自 1945 年的雅爾達會議後，分裂為南北兩部分。今日兩地發展差距漸大，北韓國民所得約僅南韓的 1/16，其原因為何？ (A)南韓礦產豐富 (B)南韓水力發達 (C)北韓人口眾多 (D)政治制度影響。
23. 國際投資組織相當關注南韓經濟發展，下列為各財經媒體的評估報告標題，其中何者正確？



24. 韓劇近年來在臺灣大為風行，如《太陽的後裔》、《當你沉睡時》等電視劇。南韓利用影視產業的行銷，可以帶動其國內何項產業活動發展？
 (A)電子業 (B)觀光業 (C)汽車業 (D)紡織業。

*題組：請閱讀下列文章後回答問題

西元 2013 年，東京再度申奧成功，取得 2020 年的奧運主辦權(因受全球新冠肺炎疫情影響，將延期舉辦)，成為亞洲第一個兩次主辦奧運的城市，兩屆的東奧會徽如附圖所示。西元 1964 年，東京因



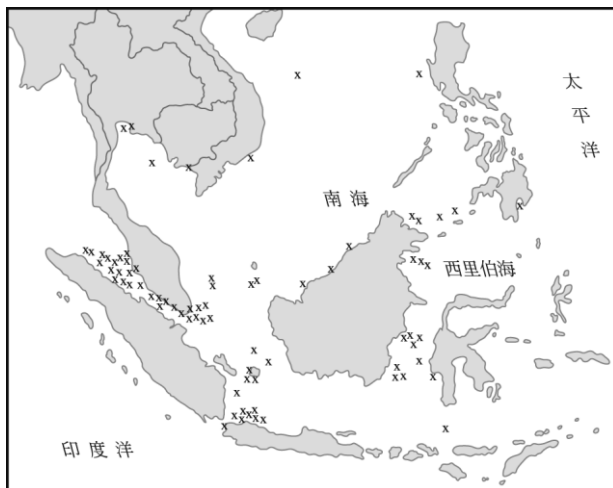
為獲得奧運的主辦權，讓日本得以成為經濟合作暨發展組織(OECD)的成員，而奧運舉辦期間所展示的科技，更大幅提升日本在國際上的地位，並帶動相關產業的發展。鑒於 1964 年東京奧運成功塑造國家形象，日本政府也想藉由再次主辦奧運，向全球展現「未來日本」的圖像，故確立 2020 東京奧運的科技主軸為「人工智慧」(AI)，並以「智慧迎客」(多國語言翻譯機器人)、「智慧醫療」(傳染病的即時應對)、「智慧輔助」(身障者與高齡者的行動輔助系統)、「智慧交通」(無人車與次世代都市交通系統)、「智慧創新能源」(氫能)、智慧影音(跨越空間的革新影像技術)等，呈現日本對「超智能社會」的想像。請問：

25. 日本兩次舉辦奧運的地點，位於附圖中何處？
 (A)甲 (B)乙 (C)丙 (D)丁。



26. 日本因在西元 1964 年獲得奧運主辦權，大幅提升在國際上的地位，不但帶動國內相關產業的發展，也讓日本得以成為亞洲經濟發展的領頭羊。日本的工業實力不容忽視，然其在發展工業過程中，較為劣勢之處為何？
 (A)缺乏礦產 (B)地形崎嶇
 (C)國土狹小 (D)地震頻繁。
27. 文中提及，2020 東京奧運期望能向世界呈現日本對「超智能社會」的想像，此與日本目前發展的何項工業類型相符？
 (A)加工出口業 (B)重化工業
 (C)高科技工業 (D)民生工業。
28. 2020 東奧會徽的設計名稱為「和諧的方格」，由三種不同的方形組成，代表來自世界各地參加奧運的隊伍各有不同的文化和思想，每個方形接連串起則傳達各國能超越彼此不同與共榮的願景。而此種市松紋(用兩種顏色方塊交叉排列出的圖樣)，從日本江戶時代即廣泛使用，不但帶有濃厚的傳統特色，也方便開發各種周邊商品。上述與日本目前哪一項致力推動的政策或產業可以相呼應？
 (A)機器人產業 (B)文化產業
 (C)扶植大型財團 (D)智慧型農業。

「海盜」是指出沒於海洋，憑藉暴力威脅等手段，搶劫過往船隻財物的歹徒。他們的存在對海運安全構成極大威脅，是國際間相當令人頭痛的問題。附圖是某雜誌報導 2004 年 1 月到 9 月海盜最常出沒的區域圖，其中「x」代表該區曾發生海盜攻擊事件的地點。請回答下列問題：



29. 從圖中資料判斷海盜攻擊事件發生最頻繁的地區，與該地區哪一項特徵最有關係？ (A)峽灣地形發達 (B)寒暖流交會帶 (C)位居交通要道 (D)年降雨量充沛。
30. 從領海主權的立場及海盜出沒的頻率來考量，下列哪些國家最需要透過國際合作打擊出沒在此地區的海盜？
 (A)美國、日本 (B)荷蘭、西班牙
 (C)越南、泰國、菲律賓 (D)新加坡、印尼、馬來西亞。