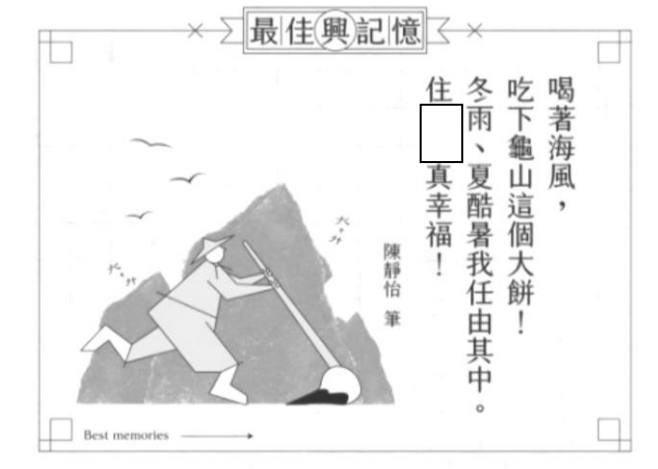


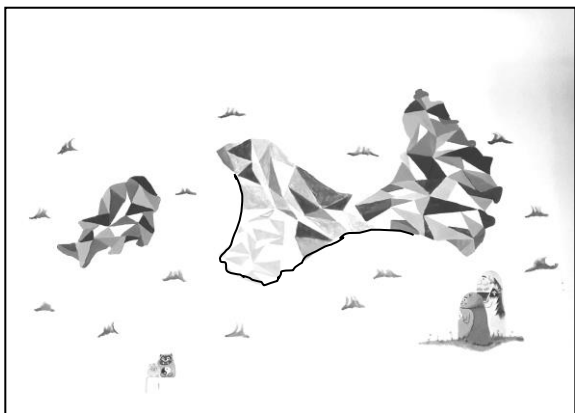
# 臺北市民族實驗國民中學 110 學年度第 2 學季成就評量 7 年級社會科題目卷

※選擇題：地理科第1-16題，歷史科第17-33題，公民科第34-50題(每題2分)

1. 臺灣各地氣候各有特色，下圖為某縣市意象新詩。請問：根據文中提及的線索，這個縣市最可能是下列何者？  
(A)基隆市 (B)宜蘭縣 (C)臺中市 (D)屏東縣




2. 臺灣離島有許多不同的類型。下圖某島嶼原為沿海丘陵地區，因海面上升，地勢較低的地區沒入海中，地勢較高的山頭突出於海面而成為島嶼。請問：下列有關此島嶼的名稱及島嶼類型配對何者正確？  
(A)金門-火山島 (B)馬祖-大陸島  
(C)馬祖-火山島 (D)金門-大陸島。

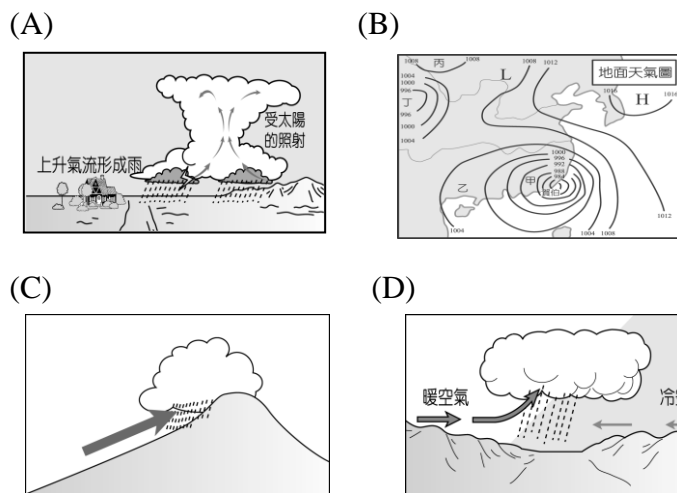


3. 日本海上保安廳8月宣布，在小笠原群島硫磺島以南約50公里的海底火山「福德岡之場」持續噴發，透過飛機觀測到形成一個直徑約1公里的馬蹄形新生島嶼。新島嶼的誕生不僅象徵國土的擴張，同時也增加經濟海域的面積。請問：上文中所稱經濟海域，指的是自海岸線起始向海延伸多少距離範圍？  
(A) 2海浬 (B) 12海浬 (C) 100海浬 (D) 200海浬。

4. 下圖是屏東縣佳冬鄉某處民宅景觀，當地部分民宅有下沉的情況出現，該現象的形成與當地何種產業活動密切相關？  
(A)晒鹽業 (B)茶葉 (C)養殖漁業 (D)畜牧業。

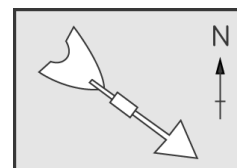


5. 小城趁著暑假的某一天出門逛街，出門時外頭還艷陽高照，可是才吃完午餐沒多久，卻下起一場大雨，害小花只得淋成落湯雞回家。回家問媽媽後才知道原來遇到了「午後雷陣雨。」請問：小花所遇到的降水類型為下列圖中的哪一種？



6. 附圖為氣象觀測站的風向標，風標箭頭是指風的來向。請問：此時的風向為何？

- (A)東北風 (B)西北風 (C)東南風 (D)西南風。



7. 下圖創意地形示意圖「烏岩角」位於臺灣某地區海岸，烏岩角位於南方澳與東方澳兩個城鎮的中間，是中央山脈北端的起點。請問，根據下圖與上文敘述，烏岩角最可能位在臺灣海岸中哪種海岸類型地區？  
(A)岬灣海岸 (B)斷層海岸 (C)沙岸 (D)珊瑚礁海岸



8. 下列有四位同學對於「天氣」的定義舉例說明，請問：哪一位同學的描述屬於天氣範疇的？

- (A)小夫：新竹多風，宜蘭多雨，常以竹風蘭雨稱之。  
(B)靜香：恆春位於臺灣南部，四季如春。  
(C)阿強：明日北部受鋒面影響，氣溫將降至攝氏12度  
(D)大雄：臺灣南部屬於熱帶季風氣候，夏雨冬乾。

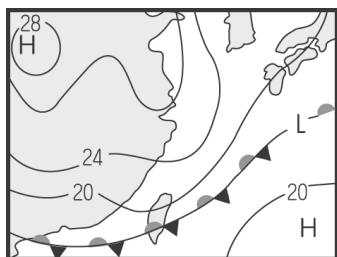
班級座號：

姓名：

9. 經濟部發現臺灣因為山坡地的過度墾植，造成水土流失相當嚴重，對經濟成長造成相當大的損失。為了解決這個問題，正積極推動「一人一樹」的山坡地造林工作。請問：若該計畫順利推動，河川的水資源將可能出現下列哪一種變化？

- (A)豪雨時河水水位變高 (B)雨季時河水流速加快  
(C)河水乾枯期時間縮短 (D)河川上游降雨量增加。

10. 附圖為某日地面天氣圖，圖上的「H」表示何種大氣狀態？(A)高氣壓 (B)低氣壓 (C)鋒面 (D)颱風。



\*下表為臺灣地區不同季節的地面天氣圖，根據圖中線索回答下列 11~12 題：

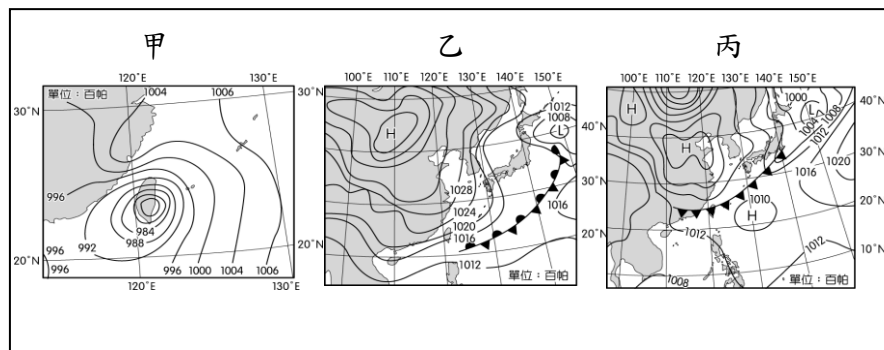
11. 下表中分別代表臺灣不同氣候，請問：若以梅雨季、颱風及冷鋒來襲三者為順序，正確排序為何？

- (A)甲乙丙 (B)乙丙甲 (C)乙甲丙 (D)丙甲乙。

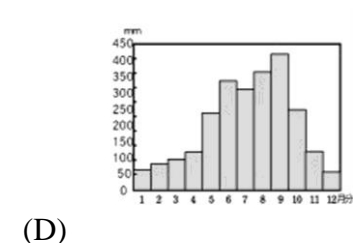
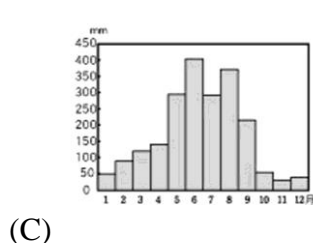
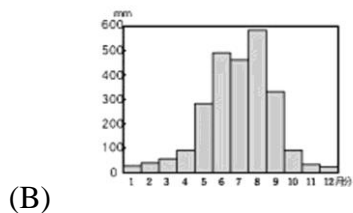
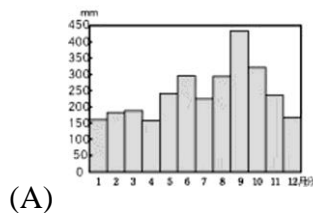
12. 國文課時，老師談及清明時節綿綿細雨，陡增惆悵。詩云「清明時節雨紛紛，路上行人慾斷魂。」

借問酒家何處有，牧童遙指杏花村。」

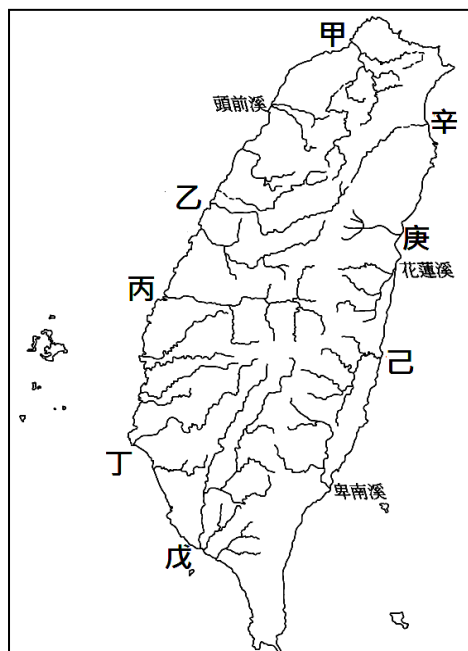
請問：詩中敘述的季節，當時的地面天氣圖，應該是下列何者？(A)甲 (B)乙 (C)丙



13. 臺灣的河川由於坡度太陡與降雨節分布不均，航運利用價值不高，少數例外的是淡水河。請問：下列四張雨量圖中，何者最可能是淡水河所在地區？



\*下圖  
河川分  
考該圖  
14~16



為臺灣主要  
布圖。請參  
回答下列  
題：

14. 此河川三大主要支流為新店溪、基隆河及大漢溪，早期更有航運之利，艚舨及大稻埕等著名河港即在此發展，請問：此河川與代號與名稱的配對為何？

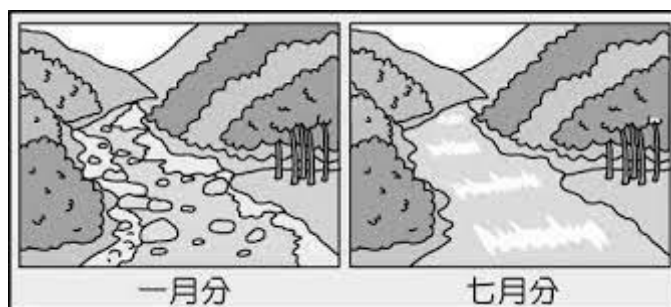
- (A)甲—淡水河 (B)甲—濁水溪  
(C)一蘭陽溪 (D)辛—淡水河。

15. 每年冬季，遠自東北亞地區前來臺灣過冬的嬌客「黑面琵鷺」，常出現在臺灣台江國家公園河口地區，請問：若想觀察黑面琵鷺的蹤跡，最可能前往圖中何處河川？

- (A)辛-蘭陽溪 (B)乙-大甲溪  
(C)丙-濁水溪 (D)丁-曾文溪。

16. 阿帆老師寒暑假返家搭火車時發現，所經過的河川寒假經過時與暑假經過時畫面完全不同(如下圖)，他推想可能是因為降雨季節不同的問題導致的。請問：下圖河川水流量狀態最可能出現在下列哪條河川中？

- (A)甲 (B)辛 (C)戊 (D)己。



17. 清朝官員曾說：「臺灣位居海外且範圍小，無助於中國疆域的擴增；當地人民難與我們和平共處。未來勢必花費政府許多金錢卻無益於國家，不如將人群遷回。」我們應如何解讀這段資料？

- (A)計畫強迫中國無業男性來臺拓墾  
(B)清廷收復臺灣後，官員認為臺灣不值得經營  
(C)施琅主張放棄台灣  
(D)清廷對保留臺灣一地有疑慮，促成廣設行政區



18. 《臺灣縣志》記載：「客頭夥同不肖船家，用溼漏小船載運數百人，並讓他們全擠入艙中，將艙蓋封釘，不讓這些人出來。船隻乘著黑夜出洋，若遇到大風浪，可能會船翻人亡。快到岸時，擔心被人發覺，因此靠近沙岸時，就會將人群趕下船，稱為『放生』。」這是在描述哪一歷史情景？

- (A) 移民偷渡過程相當困難且危險重重
- (B) 移民來臺普遍出現拋妻棄子的行為
- (C) 渡臺禁令導致臺灣的性別比例失衡
- (D) 外國屢次侵擾使臺灣社會動盪不安

19. 清代臺灣行政區劃經過數次改變，下列五張地圖分別代表清代五個不同時期的行政區劃圖。這些行政區劃圖的一連串變化，反映了什麼樣的統治特色？



- (A) 清廷因應內憂外患調整行政區劃
- (B) 清軍勇猛善戰，逐漸擴大占領區
- (C) 清廷針對臺灣社會動盪加強管理
- (D) 政府陸續將「熟番」、「生番」納入統治

20. 康康到墾丁國家公園旅遊，在屏東縣車城鄉看到一座墓碑上寫著「大日本琉球藩民五十四名墓」。下列哪一歷史事件與這個墓碑的記載有關？

- (A) 清法戰爭
- (B) 朱一貴事件
- (C) 牡丹社事件
- (D) 郭懷一事件

21. 兩國代表正為某一事件進行交涉：

甲國代表：「生番都是化外之民，不屬於我國。」  
乙國代表：「生番殺人，貴國不理，故我國將出師問罪，只是『生番』居住的地區與貴國府治相鄰，為免傷兩國和氣，所以先行奉告。」

甲國代表：「生番既屬我國化外，問罪不問罪，由貴國裁奪。」

劇本中的「甲國」是指哪個國家？

- (A) 日本
- (B) 英國
- (C) 法國
- (D) 清帝國

22. 承上題，劇本中的「乙國」是指哪個國家？

- (A) 日本
- (B) 英國
- (C) 法國
- (D) 清帝國

23. 這個地方製茶工房林立，茶葉產期，茶行必須雇用許多女工，多則五、六十人，少則二、三十人，甚至有漳、泉婦女來此短期工作，每日工資四、五錢不等。請問：這個地方應是下列何地？

- (A) 大稻埕
- (B) 艋舺
- (C) 安平
- (D) 打狗

24. 1860年代以後，臺灣政治經濟重心逐漸由南部轉移至北部，其主要原因為何？

- (A) 南部米糖生產下降，經濟蕭條，造成人口往北
- (B) 南部多颱風與地層下陷，天災頻傳，人口外移
- (C) 北部移民來源複雜，經常發生變亂，必須駐兵

(D) 北部發展茶與樟腦，外銷成長，經濟發展快速

25. 康熙23年，清廷同意開放□□與廈門進行貿易，此後臺灣各地生產的米穀，會先用牛車、小船載運至□□，然後裝載於大船上運往廈門，□□成為當時唯一與中國大陸進行商業貿易的港口。請問：□□應填入哪一個地點較適當？

- (A) 淡水
- (B) 基隆
- (C) 八里坌
- (D) 鹿耳門

26. 阿土哥是清康熙時期的泉州人，聽人家說臺灣未開發的土地廣大、工作機會多，決定到臺灣打拼。他來到臺灣，可能有怎樣的遭遇？

- (A) 多數平原地區已被開發，他只能前往深山開墾
- (B) 開墾土地時，水源不足，集資自行修築水圳
- (C) 他申請攜家帶眷來臺，獲得康熙政府許可
- (D) 政府主張土地國有，提供他工具與種子

27. 右圖為清代臺灣產業分布圖，茶葉、蔗糖、樟腦的產地分別位於圖中哪個區域？



- (A) 甲、丙、乙
- (B) 丙、乙、甲
- (C) 乙、甲、丙
- (D) 甲、乙、丙

28. 1860年開港通商後，關於臺灣主要外銷商品的敘述，何者正確？

- (A) 茶葉是開港後最大宗輸出品
- (B) 樟腦的出口歷史最為悠久
- (C) 蔗糖主要分布於丘陵地區
- (D) 輸出品主要經由郊商外銷到全球

29. 「臺灣茶葉之父」李春生為清帝國時期「買辦」出身，在臺灣開港通商後崛起，成為富甲一方的商人。關於當時的社會情形，下列敘述何者正確？

- (A) 李春生對臺灣茶葉的經營，帶動南臺灣的發展
- (B) 清帝國在清法戰爭中戰敗，被迫簽約開港通商
- (C) 「買辦」又稱「郊商」，指從事貿易的商人
- (D) 「買辦」是外國人和本地人之間的溝通橋梁

30. 平埔族人原本沒有姓氏只有名字，乾隆23年(西元1758年)，清廷諭令：「平埔各族薙髮同時賜姓」。當時賜給平埔族群的姓氏包括：潘、陳、劉、戴、李、王等，實際上取用潘姓最多。請問：這項政策的用意為何？

- (A) 傳播漢人信仰
- (B) 防止改信基督教
- (C) 「開山撫番」政策
- (D) 加速平埔族群漢化

31. 清代臺灣吏治不良，駐防軍隊軍紀敗壞，加上民間秘密結盟風氣盛行，經常發生反抗官府的民變。下列何者最能解釋民變的意義？

- (A) 奴隸反抗雇主
- (B) 人民反抗官府
- (C) 官逼民反
- (D) 佃農反抗地主

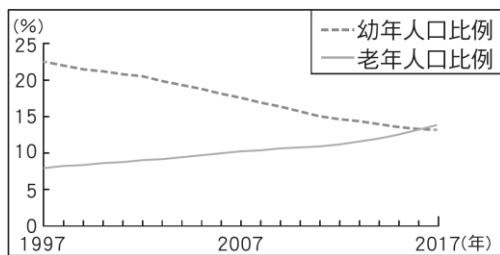
32. 臺灣開港之後，基督教長老教會對臺灣的影響很大，下列何者是長老教會在臺灣的貢獻？

- (A) 設立郵局
- (B) 設立炮臺
- (C) 興築縱貫鐵路
- (D) 設立醫院、學校

33. 開港通商對臺灣社會造成很大的影響，也對原住民族群產生巨大的衝擊，除了西方宗教的傳入、對原始山林的破壞等情況之外，清廷的「開山撫番」行動，導致原住民族嚴重的死傷。下列哪一事件即是清帝國時期的原漢衝突事件？  
 (A)牡丹社事件 (B)郭懷一事件  
 (C)大港口事件 (D)林爽文事件
34. 瑞典推動親職照顧假行之有年，剛開始時多半由母親請假照顧家裡，但當政府明訂父、母親各自擁有的親職假不能移轉給對方後，父親請親職假的比例逐漸增加，時至今日雙親各自擁有 90 天的親職假不能移轉給對方。上述瑞典政府的政策主要想達到什麼樣的目的？  
 (A)消弭家務勞動的分擔失衡  
 (B)減少男性公共參與的機會  
 (C)展現女性在家中的主控權  
 (D)擴大薪資在性別上的差距。
35. 為建立平權家庭，我國修訂民法，下表中關於修法前後的敘述，何者正確？

	修法前	修法後
(A) 夫妻姓氏	妻冠夫姓	夫冠妻姓
(B) 夫妻住所	以夫住所為住所	以妻住所為住所
(C) 夫妻財產	丈夫管理	妻子管理
(D) 未成年子女姓氏	從父姓	父母共同約定

36. 玟敏從小受到父親暴力虐待，數度進出醫院，父親從未盡到任何養育責任，母親後來帶她逃離並與父親離婚。待玟敏成年後，父親主動聯繫她，要求她給付金錢，盡到子女的扶養義務，玟敏並不願意，以下哪一位朋友給予的建議較為正確？  
 (A)小萍：公開登報聲明斷絕親子關係  
 (B)小卿：可向法院請求減輕扶養義務  
 (C)小昇：法律規定應負完全扶養義務  
 (D)小勉：離婚後，兩人已無血親關係。
37. 附圖為臺灣某段時期的人口變化圖，政府針對該變化趨勢可能引發的問題提出許多方案，下列何者最可能為政府提出的方案之一？



- (A)健全長期照護體制  
 (B)強化家庭暴力防治  
 (C)推行節制生育政策  
 (D)增加大學院校校數。
38. 附圖中甲、乙、丙、丁哪兩位同學的發言符合會議規則？

現在我宣布會議開始，請各位同學保持安靜。 	會議一開始我們先進行臨時動議，有沒有同學要提臨時動議？	甲：我要提權宜問題，應該進行提案討論。
	會議一開始我們先進行臨時動議，有沒有同學要提臨時動議？	乙：我要提權宜問題，應該處理目前場內喧嘩問題。
	會議一開始我們先進行臨時動議，有沒有同學要提臨時動議？	丙：我要提秩序問題，應該進行提案討論。
	會議一開始我們先進行臨時動議，有沒有同學要提臨時動議？	丁：我要提秩序問題，應該處理目前場內喧嘩問題。

39. 傑哥長期以來在網路上取笑彬彬的外表，甚至造謠破壞他與班上其他同學的友情，導致每次活動要分組時，都沒有人願意和他一組，讓他十分沮喪，不願意到校上課。依據上述內容，下列哪一項敘述正確？  
 (A)彬彬在身體上並未受到攻擊，所以不屬於校園霸凌行為  
 (B)為避免造成彼此間的行為衝突，彬彬應盡量忍耐  
 (C)教育部已修法，因此網路、電子通訊霸凌型態亦屬於校園霸凌  
 (D)傑哥的行為屬於同學間的玩笑，彬彬不應小題大作。
40. 附圖為一則新聞快報，內容所指案件是否受到家庭暴力防治法的保障？

快訊

知名政治人物遭同居男友暴力相向，傷勢嚴重，隱忍多時，終決定提告。

- (A)是，雙方依法具有親屬關係  
 (B)是，同居伴侶在保障範圍內  
 (C)否，彼此並非對方家庭成員  
 (D)否，兩人尚未正式登記結婚。
41. 鎮寧整理我國社會現況資料，但內容出現多處錯誤，如附圖所示，以下哪一段筆記完全正確？

(甲)我國 65 歲以上老年人口已達 14%，步入超高齡社會，(乙)而現今社會以大家庭為主，影響家庭老人照顧功能的發揮。除此之外，少子化問題嚴重，因此(丙)政府制定《幼兒教育及照顧法》，保障幼兒受到適當的教育與照顧，同時，(丁)要求女性辭去工作，專心在家相夫教子。

- (A)甲 (B)乙 (C)丙 (D)丁。
42. 近日新聞報導多有子女因意見不合、索要金錢未果，對父母親做出言語或肢體暴力行為，根據我國法律規定，為保護這些父母親免於恐懼，可供尋求協助的機關，及此機關所能採行的因應作為，下列配對組合何者正確？  
 (A)警察機關、核發保護令  
 (B)地方法院、核發保護令  
 (C)警察機關、宣告停止親權  
 (D)地方法院、宣告停止親權
43. 開班會是國中生最常進行的自治活動之一，以下對於開會程序的相關說明，下列何者正確？  
 (A)會議討論時須遵守「尊重少數、服從多數」的原則  
 (B)動議是開會前以書面提出，須有一人以上副署  
 (C)所有事物都可以採取「多數決」來決定  
 (D)老師必須處理提案的討論，最終做出結論。
44. 根據聯合國兒童權利公約，兒童都有表達意見與參與公共事務的權利，身為國中生的我們，以下何者屬於校園公共事務，可以透過學生自治途徑形成共識？  
 (A)學校營養午餐的菜色  
 (B)各門科目的教授內容  
 (C)每節下課時間的長短

(D)教師每天上課的節數。

45. 以下為阿勳所提出的問題，下列何者為其正確的解答？

求解

麻煩大家替我解答一下，若我想組一個無人機研究社，依學生自治的實施步驟，到底該怎麼做？

阿勳

- (A)成立社團→訂定社團組織章程→舉辦社團活動
- (B)訂定社團組織章程→成立社團→舉辦社團活動
- (C)成立社團→舉辦社團活動→訂定社團組織章程
- (D)舉辦社團活動→訂定社團組織章程→成立社團。

46. 小優和小櫻住在不同社區，根據兩人對話內容推斷，兩社區居民行為的差異應是受到哪一社區要素的影響？

小優：「每次颱風過後，街坊鄰居都會自動自發打掃社區環境，彼此幫忙。」

小櫻：「真羨慕你們，我們大廈的住戶都很冷漠，完全不重視公共環境的整潔。」

- (A)社區組織(B)社區公約(C)共同關係(D)社區意識。

47. 嘉茗在網上搜尋原住民部落的介紹，以下何者完全正確？

- (A)各部落的生活空間經常遷移，管轄區域並不固定
- (B)部落居民會召開部落會議，討論決定部落的事務
- (C)部落領袖產生的方式，各族均是由家族世襲產生
- (D)各部落的聚居型態是政府依照人口多寡而指定的

48. 臺東縣延平鄉公所與布農族部落、地方上學校共同合作，培育祭典導覽人員，經由導覽人員的解說，較能吸引遊客深度了解部落傳統，理解原住民族的文化內涵，以增加部落觀光資源。請問：文中的合作計畫，較可能是為了達成下列哪一項目標？

- (A)倡導互助文化，分擔對族人的照顧責任
- (B)營造民族生活環境，建構部落安全場域
- (C)發起社會運動爭取權益，要求政府回應
- (D)推動部落經濟產業，促進部落永續發展。

49. 下列原住民族的生活經驗中，何者最能體現生態平衡的觀念？

- (A)舉辦祭神慶典，感謝神靈恩惠
- (B)在共同外出狩獵時，不打幼獸
- (C)成員互相扶持，照顧長輩孩童
- (D)教唱傳統歌謠，傳承族中文化。

50. 郁恬和家人參加旅遊，聽導遊介紹阿里山鄒族人的庫巴制度，便隨手記錄下來，以下內容顯示部落對原住民族有何種重要性？

庫巴，是部落一個類似集會所的地方，除了舉行祭典、成年禮、鄒族男子在裡面學習狩獵技巧、進行軍事訓練外，當發生重大事件，也會聚集在此共同決定。即使到了現在，庫巴依舊是鄒族人重要的祭典聖地和精神象徵，繼續將鄒族文化傳承下去。

- (A)取代政府法治的規範
- (B)凝聚族人間的向心力
- (C)避免外族文化的侵擾
- (D)阻斷與其他族的互動。