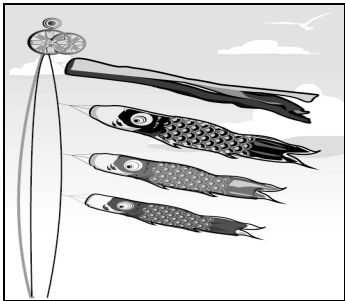


臺北市立新興國中 109 學年度第二學期第一次段考八年級地理科試題卷
本試題共 4 頁，50 題。

壹、單一選擇題（每題 2 分，共 70 分）

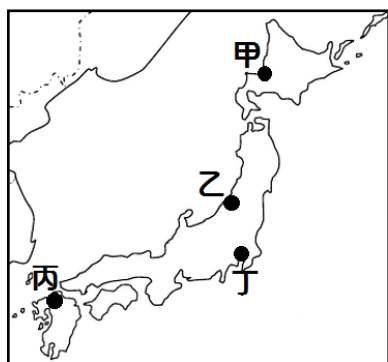
1. 日本夏季慶祝男孩節時，家會在門前掛起鯉魚旗，如附圖所示，期望自己家的男孩可以鯉躍龍門，一躍成龍。此時旗幟多朝哪一個方向飄去？ (A)東北 (B)東南 (C)西南 (D)西北。



2. 富士山是日本人眼中的聖山，也是日本的精神象徵，其標高為 3,776 公尺，比臺灣最高峰的玉山 3,952 公尺來得低，但富士山的山頭常年積雪。請問：影響此一情形產生的主要因素為何？ (A)距海較近 (B)降水較多 (C)四面環海 (D)緯度較高。
3. 日本陸地面積狹小，但經濟海域的範圍卻十分廣大的主要原因為何？ (A)岩岸眾多 (B)洋流交會 (C)島嶼眾多 (D)國力強大。
4. 下列日本的哪一項地理特性，和位於歐亞板塊及太平洋板塊的交會位置關係最大？ (A)氣候多變化，農林漁業皆盛 (B)海岸線長而曲折，航運發達 (C)河口沖積平原土地肥沃，人口稠密 (D)島窄山多，河短流急，中上游利於水力發電。
5. 關於日本北海道的降雪來源的敘述，下列何者最正確？ (A)越過太平洋的東南季風所致 (B)因為有冬季的旺盛對流 (C)南下流經的親潮所造成 (D)越過日本海的西北季風所致。
6. 附表有關日本列島及朝鮮半島的自然環境之比較，何者正確？ (A)地形主體 (B)平原分布 (C)氣候類型 (D)季風風向。

	日本列島	朝鮮半島
地形主體	山地、高原	高原、盆地
平原分布	本州島西岸	西側及南側
氣候類型	溫帶季風氣候	副熱帶季風氣候
季風風向	夏季：↖ 冬季：↘	夏季：↖ 冬季：↘

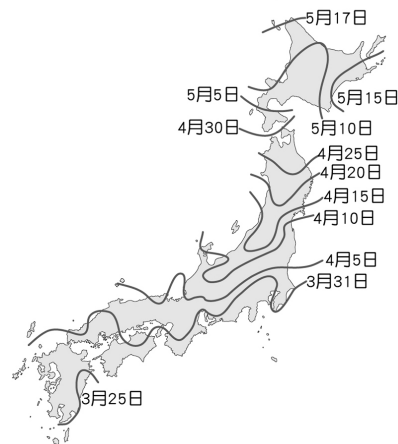
7. 日本是一個經常遭受海嘯襲擊的國家。請問：日本多海嘯襲擊最可能與下列哪一項環境特徵有關？ (A)位處中緯度地區 (B)溫和溼潤的氣候 (C)居環太平洋火山帶 (D)坡陡流急的河流。
8. 新潟市位於本州島，受冬季季風帶來海洋水氣的影響，西元 2010 年曾創下最深積雪 81cm 的紀錄，有「雪國」之稱。請問：新潟市最有可能位於附圖何處？ (A)甲 (B)乙 (C)丙 (D)丁。



9. 朝鮮半島的人口集中在黃海沿岸，日本人口則主要集中在

在太平洋岸，兩地人口分布的差異與下列哪一個因素的關係最密切？ (A)緯度高低 (B)降水多寡 (C)平原位置 (D)盛行風向。

10. 春季賞櫻是日本人民很重要的旅遊活動，附圖是日本氣象廳發表的各地櫻花開花季節預測數據，該數據的地理位置分布與下列何者最具相關性？ (A)冬季均溫 (B)年降水量 (C)海拔高度 (D)季風強度。

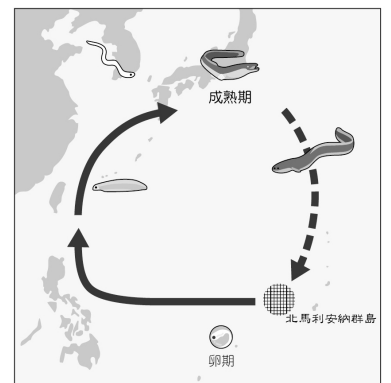


11. 北韓自西元 2009 年起，已在半島上地勢最高且位於廣闊區域上的萬塔山山區，進行多次核子試爆，引起國際矚目。請問：萬塔山山區最有可能為於圖中何處？ (A)甲 (B)乙 (C)丙 (D)丁。




12. 西元 2020 年 7 月 21 日是日本的「土用丑日」，日本人在這一天通常會吃鰻魚補充體力。附圖是鰻魚的洄游路徑，當鰻魚卵孵化後是順著哪一股洋流到日本附近海域再進入河口？ (A)黑潮 (B)親潮 (C)中國沿岸流 (D)東澳暖流。

13. 東日本大地震後，由於位於本州島宮城地區的福島電廠受到嚴重損害，導致有核汙染疑慮，日本北民眾對食用漁產品有疑慮，因為受輻射汙染的魚類，可能順著洋流被帶往北海道。」請問：上文中提及的洋流為何？ (A)黑潮 (B)親潮 (C)中國沿岸流 (D)本吉拉涼流。

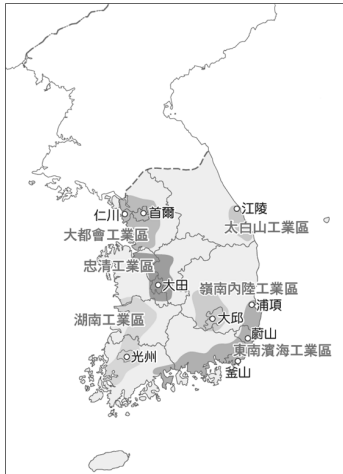


14. 南韓有句俗話說：「泡菜是半個糧食」。不管多奢華的宴會飲食，餐桌上也少不了泡菜，尤其過冬之前是醃泡菜的季節，傳統上每家大約要醃 100~150 顆白菜。請問：這種習俗主要是配合南韓何項環境特色而形成？ (A)梅雨季長，食物保存不易 (B)冬季嚴寒，缺乏新鮮蔬菜 (C)降水量稀少，無法種植蔬菜 (D)夏季酷熱，食物容易敗壞。
15. 日本近海漁獲量可觀，此一地理事實和日本哪一項特色關係最密切？ (A)氣候多變化，降水豐沛 (B)附近海面有寒、暖流相會 (C)貿易是日本的生命線 (D)地殼不穩，多火山、地震。
16. 傳統上日本人喜食米飯壽司，反觀中國北部區域的民眾則愛吃麥類麵食。兩地緯度相近，但主食作物卻不相同，這種差異與下列哪一個要素關係最密切？ (A)地形 (B)氣候 (C)人口 (D)交通。
17. 附圖是朝鮮半島韓屋中名為「溫突」的暖炕設施，利用

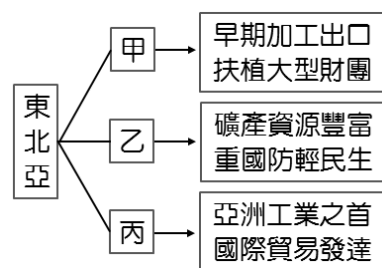
爐灶的熱氣傳導至床鋪或地板之下，用以取暖。若只考慮氣候條件，下列四個朝鮮半島的都市中，何者每年使用溫突的時間可能最長？ (A)首爾(約 37°N、126°E) (B)釜山(約 35°N、129°E) (C)平壤(約 39°N、125°E) (D)羅先(約 42°N、130°E)。



18. 近年來，南韓積極發展工業，具有相當的成效，如從事通訊業的三星公司，即在國際市場上占有一席之地。請問：南韓近來積極發展的是下列哪一種性質的產業？ (A)原料密集型產業 (B)動力密集型產業 (C)勞力密集型產業 (D)技術密集型產業。
19. 附圖為南韓工業區分布圖，由圖可看出半島的東部工業區分布明顯少於西、南部，其主要原因受限於東部哪一項地理因素？ (A)海運不便 (B)地勢崎嶇 (C)氣候嚴寒 (D)缺乏礦產。



20. 近年來，日本、南韓推動智慧型農業政策，如農業產銷輔助人工智慧、無人駕駛耕耘機等，這項政策的推動除了因應未來市場需求以外，還受到什麼因素的影響？ (A)氣候異常愈發頻繁 (B)國土空間嚴重不足 (C)農業勞動人口減少 (D)水土流失增加風險。
21. 附圖為東北亞經濟發展心智圖，圖中的甲、乙、丙應依序分別為下列何者？ (A)日本、北韓、南韓 (B)日本、南韓、北韓 (C)北韓、南韓、日本 (D)南韓、北韓、日本。



22. 「日本現有人口約 1.26 億，而 65 歲以上的人口已超過四分之一。其中，至少百萬人為癡呆患者，因此常發生失蹤或誤闖火車軌道不幸被撞身亡的事故。除了許多民間團體發起協助尋找失蹤人口的行動，政府也為了減輕家庭負擔，投入資源擴大社區看護範圍。」上述內容主要在說明目前日本哪一項人口現象所衍生出的問題？ (A)少子化 (B)人口老化 (C)勞動力不足 (D)都市人口過多。
23. 北韓的工業發展歷史比南韓早，但人民生活水準遠低於

南韓。請問：下列哪一項因素是對上述現象的較適當解釋？ (A)長期開發礦產已枯竭 (B)進口大量原料外匯耗盡 (C)人口較多物資消費量大 (D)長期忽略民生工業。

24. 近年來，南韓積極發展工業，具有相當的成效，如從事通訊業的三星公司，即在國際市場上占有一席之地。請問：南韓近來積極發展的是下列哪一種性質的產業？ (A)原料密集型產業 (B)動力密集型產業 (C)勞力密集型產業 (D)技術密集型產業。
25. 「中國東北地區主要的工業都市，如哈爾濱、瀋陽、大連等，沿主要鐵路呈帶狀分布；而日本的主要工業都市，如名古屋、大阪等則集中於沿海地區。」上述主要呈現兩地區的工業都市皆具備哪一項工業發展優勢？ (A)豐富的原料 (B)廣大的市場 (C)廉價的勞工 (D)便捷的交通。
26. 有關「國際貿易是日本的經濟命脈」這句話的含義，下列敘述何者正確？ (A)日本海岸線曲折多良港，世界各大海港均有日本輪船進出 (B)日本的陸運以鐵路為主，客貨運輸極為繁忙 (C)日本主要工、礦原料均依賴進口，工業產品運銷全球 (D)日本產品價格低廉且品質不差，在國際市場上極具競爭能力。
27. 下列是有關南韓的工業發展歷程，依時間由先而後排列，何者最為正確？ (甲)發展汽車、造船等重工業 (乙)扶植大型財團 (丙)以加工出口業為主 (丁)發展高科技產業 (A)甲乙丙丁 (B)甲乙丁丙 (C)丙乙甲丁 (D)丙乙丁甲。
28. 西元 2019 年全球百大品牌的排行中，南韓的三星獲得第 6 名，現代汽車與起亞汽車分別獲得第 36 名以及第 76 名。根據上述內容，可發現南韓汽車工業在世界占有一席之地。請問：下列關於南韓發展汽車工業的優劣分析，何者正確？ (A)結合大型財團，政府補助發展 (B)原料礦產充足，鋼鐵成本便宜 (C)工業區鄰近太平洋，產品出口方便 (D)地勢起伏大，水力發電佳。
29. 若觀察朝鮮半島的夜間衛星影像圖，會發現北韓除了首都平壤之外，其餘地方多呈現一片黑暗的景象。請問：導致該國出現此一特徵最主要的原因可能為何？ (A)缺乏礦產資源，工業基礎薄弱 (B)實施專制體制，高壓獨裁統治 (C)位居高緯地區，終年低溫寒冷 (D)屬於乾燥氣候，缺乏水力資源。
30. 附表為西元 2019 年南韓前十大企業的產值占該國國內生產毛額(GDP)的比重資料，而此一經濟模式主要與該國政府的經濟政策有關。請問：此一經濟政策可能導致該國出現下列何種問題？ (A)國內貧富差距擴大 (B)政治環境動盪不安 (C)國際影響力漸下滑 (D)國家外匯存底銳減。

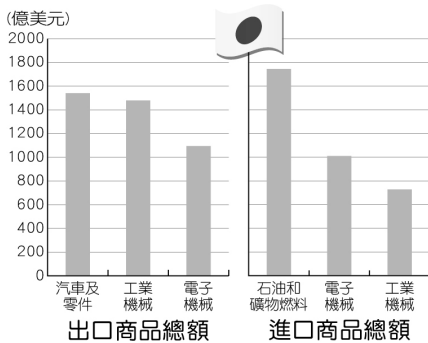
企業名稱	2019 年占南韓 GDP 比重
三星電子	14%
SK 集團	6%
現代汽車	5%
浦項鋼鐵	4%
樂金電子	3%
韓國電力	3%
起亞汽車	3%
韓華集團	3%
SK 海力士	2%
湖南煉油	2%
其他	55%

31. 南韓樂天集團(Lotte Group)為了強化線上零售事業，擴建化工廠的設施，計畫投資 440.5 億美元於中國，未料卻因把國內原本作為高爾夫球場的土地提供給南韓國防部設置美國薩德反導彈系統，引起中國民眾抵制且強烈抗議，導致位於北京的樂天超市業績慘澹而不得不關門。請問：南韓樂天集團投資巨額資金於中國，主要是著眼於中國具有下列何項優勢因素？ (A)豐富的礦產資源 (B)廣大的消費市場 (C)先進的生產技術 (D)充沛的黃河水電。
32. 日本大多數農產品都擁有高身價，如青森蘋果、山形櫻桃、北海道夕張哈密瓜等。請問：若不考量其他因素，以農業耕作來看，日本農產品價格較貴的主要原因為何？ (A)氣候寒冷，運用溫室栽培 (B)可耕地少，勞動力成本高 (C)水源缺乏，抽取灌溉用水 (D)政策限制，總生產量較低。
33. 附表是日本三級產業就業人口比例統計，下列關於日本產業發展的敘述或推論，何者最為正確？ (A)西元 1970~2005 年，就業人口從第一級產業為主變成第三級產業為主 (B)因氣候溫和、發展出口導向經濟，第一級產業就業人口比例高 (C)近年來農業就業人口比例過低，發展智慧型農業輔助勞力需求 (D)近年來因經濟衰退導致人口大量外移，工業就業人口比例降低。

年分 (西元)	農業	工業	服務業
1970	19.4	34.0	46.6
1975	13.9	34.2	51.9
1980	10.4	34.9	54.7
1985	8.9	34.5	56.6
1990	7.4	33.7	58.9
1995	5.8	33.0	61.2
2000	5.7	30.6	63.7
2005	4.8	27.4	67.8

單位：%

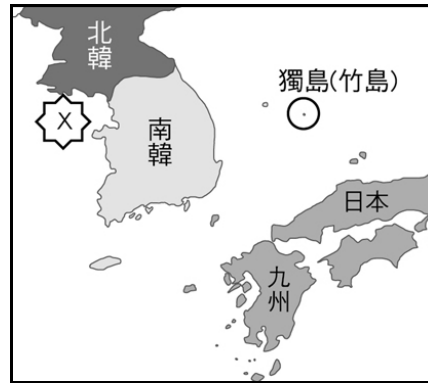
34. 日本森有一先生種植瓜果蔬菜不需要用地，也不用土。他將幼苗種在薄膜上，薄膜可以存儲水分和養分，這個薄膜其實本來是用來治療腎臟疾病的。用這項技術種菜，不僅不受環境條件的限制，還可以降低水耗 90%，而且完全不用殺蟲劑，因為薄膜可以阻擋病毒、細菌。這是日本持續推進農業革命的典範，在人工智慧、物聯網、高科技的幫助下，傳統的「田間地頭」華麗轉型，成為技術中心。請問：根據上述，日本為什麼要推行農業革命？ (A)耕地短缺 (B)人力過剩 (C)全球暖化 (D)降水過少。
35. 附圖是西元 2018 年日本進口與出口商品類別總額。請問：根據圖中資訊，下列哪一項敘述最正確？ (A)大量生產石油 (B)工業技術低階 (C)缺乏天然資源 (D)進口精密器材。



貳、題組題(每題 2 分，共 30 分)

一、朝鮮半島特殊的交通地位讓朝鮮深受兩個鄰國的勢力

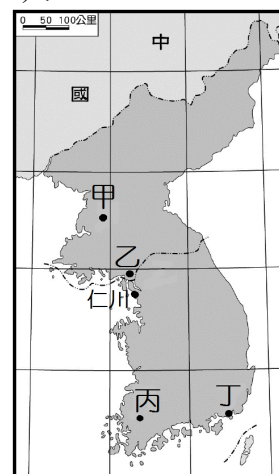
影響，更於第二次世界大戰後處於長期分裂、衝突的情勢。附圖為朝鮮與日本位置簡圖，請問：



36. 朝鮮半島與中國的國界大致以下列哪一條河流或山脈為界？ (A)太白山 (B)大興安嶺 (C)鴨綠江 (D)烏蘇里江。
37. 南韓總統曾因登上具爭議的領土獨島(日本稱為竹島)，引發日方不滿，其位置如附圖所示。請問：這個具爭議的島嶼，應位在下列哪一個海域？ (A)日本海 (B)南海 (C)黃海 (D)北極海。
38. 南、北韓雙方曾在圖中「X」附近的海域發生衝突，則臺灣媒體的相關報導中，最可能使用下列何者當作新聞標題？ (A)南海衝突，一觸即發 (B)北極海衝突，一觸即發 (C)黃海衝突，一觸即發 (D)日本海衝突，一觸即發。

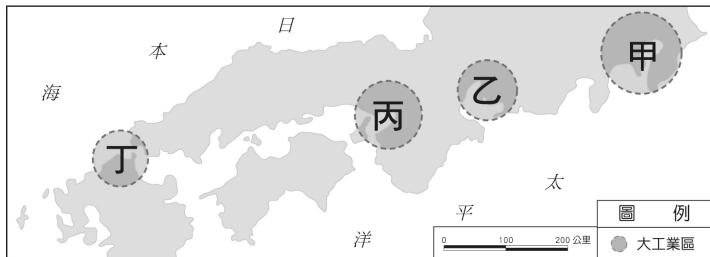
二、開城工業區是兩韓為了交流而設立的工業地帶，位於距離首爾不到 70 公里的停戰線附近。對南韓來說，北韓工資較低，且產品可就近從仁川外銷；對北韓而言，開城工業區的設立則是提供了人民許多就業機會。但政治現實讓開城工業區處於停擺狀態的消息時有所聞，尤其在西元 2020 年北韓炸毀開城工業區內的兩韓共同聯絡事務所後，雙方關係又再度陷入僵局。請問：

39. 開城工業區的位置應為於附圖中何處？ (A)甲 (B)乙 (C)丙 (D)丁。



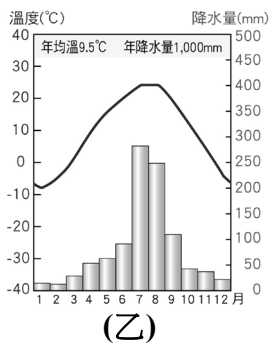
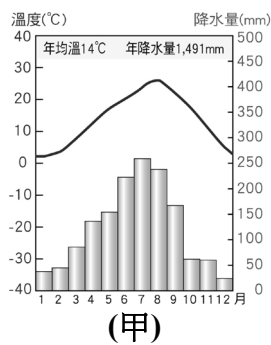
40. 南韓企業若在開城工業區製造產品後，透過鄰近的港口利用海運外銷至中國北部地區，會經過哪一個水域？ (A)南海 (B)黃海 (C)日本海 (D)太平洋。
41. 南韓企業將原先在中國的生產線部分移至開城工業區，主要是想利用北韓的何項條件？ (A)廉價勞力 (B)廣大市場 (C)交通便利 (D)動力充沛。

三、附圖為日本境內重要的工業區分布圖，請依圖回答下列問題。



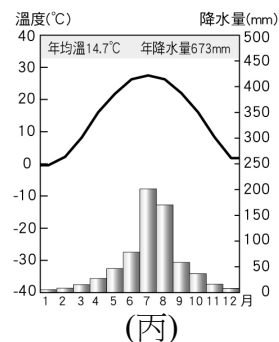
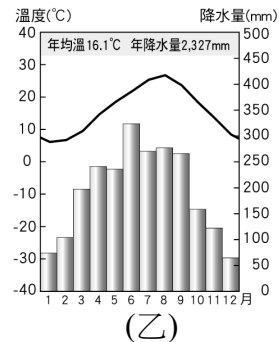
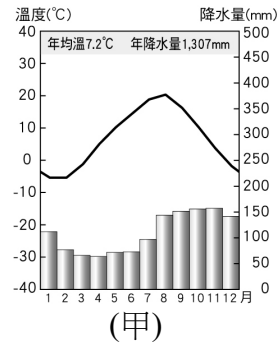
42. 日本工業區的分布和下列哪一項工業發展特色的關係最大？ (A)火山、地震頻繁 (B)天然資源缺乏 (C)經濟海域廣大 (D)工業技術進步。
43. 日本工業區此種分布情況與下列哪一項因素最「無關」？ (A)勞工眾多 (B)原料豐富 (C)方便出口 (D)運輸便利。
44. 日本的行政中心與第一大都市—東京，位於圖中哪一個工業區域？ (A)甲 (B)乙 (C)丙 (D)丁。

四、附圖甲乙兩圖為朝鮮半島兩大都市平壤與釜山的氣候圖。其中平壤位居北韓西部，釜山位居南韓東南部，請問：



45. 從附圖中可判斷，乙的氣候屬於下列何者？ (A)溫帶季風氣候 (B)溫帶地中海型氣候 (C)副熱帶季風氣候 (D)草原氣候。
46. 附圖甲地一月月均溫高過乙地一月月均溫，其主因為何？ (A)緯度 (B)經度 (C)地形 (D)距海遠近。
47. 列關於兩地氣候圖的解釋，何者正確？ (A)乙圖年溫差較大，代表緯度較低 (B)乙圖乾溼季較甲圖明顯，雨季集中在夏季 (C)甲圖年均溫較高，代表緯度較高 (D)甲圖應為北韓平壤、乙圖應為南韓釜山。

五、附圖是亞洲局部地圖與三個地區的氣候圖，請依據附圖回答問題：



48. 甲、乙兩地區同在日本，冬季均溫卻有明顯差異，原因為何？ (A)距海遠近不同 (B)緯度高低不同 (C)季風風向不同 (D)地勢高地不同。
49. 乙、丙兩地相比，氣溫方面差距不太，年雨量卻有明顯差異，原因為何？ (A)地勢高低不同 (B)緯度高低不同 (C)季風風向不同 (D)距海遠近不同。
50. 甲地的降雨主要在秋冬兩季，乙、丙兩地的降雨則以夏季為主，造成這種降雨時間分布差異的原因為何？ (A)緯度、地形 (B)緯度、洋流 (C)風向、地形 (D)風向、洋流。

試題結束