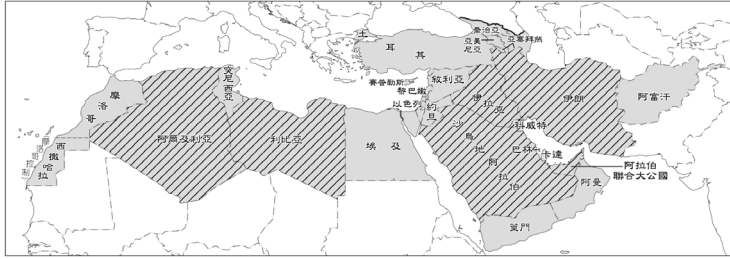


臺北市立新興國民中學 109 學年度 第二學期
壹、單一選擇題（每題 3 分，共 72 分）

1. 附圖為某項資源的生產量分布圖。斜線範圍最可能是哪一個組織的會員國？ (A)WTO (B)APEC (C)OPEC (D)ASEAN。



2. 連鎖經營的跨國企業，應考量在地的文化特色，推出適宜當地傳統習俗的商品。因此，麥當勞漢堡「不能」在阿拉伯國家推出下列哪一種產品？ (A)雙層牛肉堡 (B)豬肉滿福堡 (C)麥香魚漢堡 (D)板烤雞腿堡。

3. 「伊斯蘭聖城每年的大朝拜是全世界穆斯林們的重要活動，但西元 2020 年受到新冠肺炎疫情的影響，該地僅開放一萬人參與活動，再也看不到數百萬人繞行天房的壯觀場景。為了讓眾多信徒可以有親臨體驗的感受，德國還研發了一款線上虛擬朝聖軟體，讓無法前往的信徒，隔空體驗盛會。」上述聖城是指下列哪一座城市？ (A)麥地那 (B)麥加 (C)巴勒斯坦 (D)耶路撒冷。

4. 美索不達米亞平原又稱兩河流域，是西亞地區的精華地帶。請問：造成此現象的主要原因為何？ (A)氣候溫和宜人 (B)地底蘊藏豐富石油 (C)位居中央交通便利 (D)水源豐富可發展綠洲農業。

5. 西亞的部分地區氣候呈現夏乾冬雨的情形，造成其夏季乾燥的主因為何？ (A)副熱帶高壓籠罩 (B)沿海有涼流經過 (C)位居內陸，距海遙遠 (D)四周圍被高山阻擋。

6. 非洲東北端的蘇伊士運河為重要的航運通道，其徵收的船隻過境費成為埃及主要的收入來源之一。該運河主要為哪兩個海域之間的交通要道？ (A)太平洋、大西洋 (B)地中海、黑海 (C)大西洋、地中海 (D)地中海、紅海。

7. 小明在課堂上對某國家作了以下描述：(甲)地跨歐亞兩洲；(乙)國土以高原為主，地震頻仍；(丙)臨海地區為地中海型氣候；(丁)主要信仰為伊斯蘭教，穆斯林每日五次向南方麥加方向禮拜。根據上述，此國最可能為下列何者？ (A)印尼 (B)埃及 (C)土耳其 (D)沙烏地阿拉伯。

8. 「禮拜時間」是一款手機 APP，它可以利用 GPS 定位來告知穆斯林當前位置的禮拜方向(朝向麥加的方向)，並可以自動獲取當前位置的時區來確認禮拜時間。若輸入地點為高雄，則該軟體出現的朝拜方向應為下列何方？ (A)東方 (B)西方 (C)南方 (D)北方。

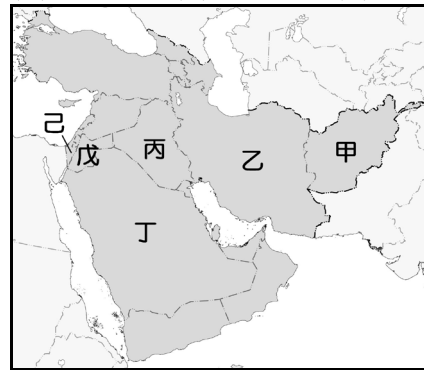
9. 土耳其是全球地震活動最頻繁的國家之一，西元 2020 年 1 月，發生規模 6.8 的淺層強震，包含鄰近的伊拉

線上期末考 八年級 地理科 題目卷

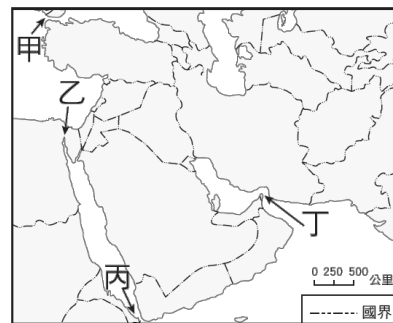
克、敘利亞和黎巴嫩等國，也感受到此強震的威力。請問：土耳其地震頻繁的原因為何？ (A)北回歸線經過 (B)板塊擠壓影響 (C)高山攔截水氣 (D)暴雨造成山崩。

10. 有別於東亞國家多「以農立國」，西亞的阿拉伯人很早就靠著貿易發展經濟，商人們組織商隊，長途跋涉進行商業活動，運送絲綢、奢侈品等，賺進了大筆財富，在小說、電影中也常能看到駱駝商隊的鮮明形象。請問：阿拉伯國家之所以很早就有高度的貿易行為，與當地何種優越條件有關？ (A)伊斯蘭教文化的傳統 (B)廣大的平原地形 (C)蘊藏豐富的石油資源 (D)三洲過渡的關鍵位置。

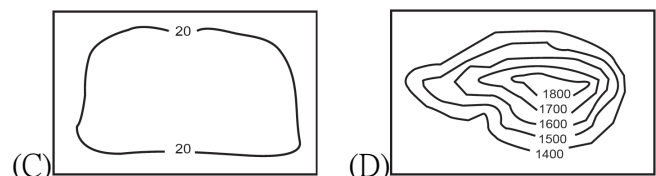
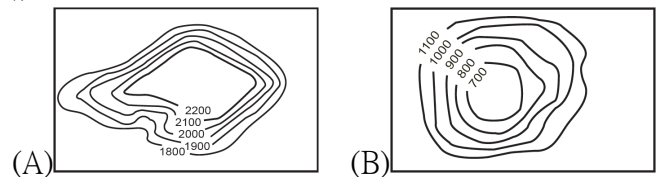
11. 鹽分密度高達 33.3%，是一般海水的六倍，人躺下去便自動浮了起來的死海是位於圖中哪兩個國家的交界？ (A)甲、乙 (B)乙、丙 (C)丙、丁 (D)戊、己。



12. 附圖為西亞簡圖。某一地區附近的海域為全球石油蘊藏量最豐富、世界航運十分繁忙的海域之一，一艘艘載運石油的貨輪駛向世界各地，為西亞帶來龐大的財富。該地區應為下列何處？ (A)甲 (B)乙 (C)丙 (D)丁。



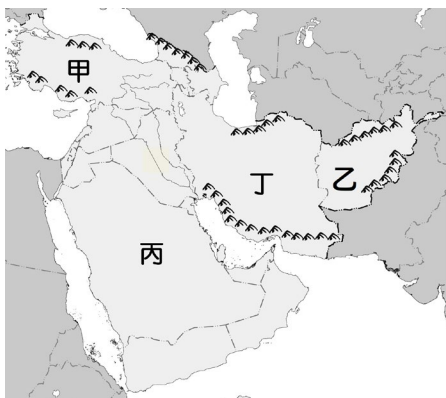
13. 下列哪幅等高線地形圖最能代表西亞地區的地形主體？



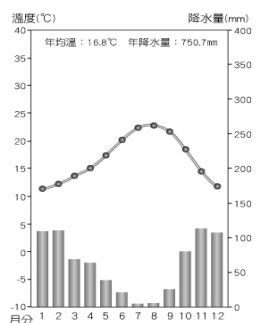
14. 西亞有世界最大的半島、氣候最為乾燥的地區及最為虔誠的宗教信徒，其獨特的自然環境對當地的發展起了十分重要的作用。請問：附表中有關西亞各主要地形區的特色敘述，何者「不正確」？ (A)甲 (B)乙 (C)丙 (D)丁。

	甲	乙	丙	丁
地形區	伊朗高原	美索不達米亞平原	阿拉伯高原	安納托利亞高原
地區特色	地震活動	人口集中精華區	地跨歐亞兩洲	板塊活動頻繁

15. 波斯灣地區的國家卡達將在西元 2022 年舉辦世界盃足球賽，比賽將在當地時間 11 月 21 日 13 時正式開戰，這是第一次在北半球冬季進行的世界盃比賽。這次世界盃足球賽選擇在冬季開賽，最主要的原因為何？ (A)配合南半球國家季節 (B)避免炎熱高溫的氣候 (C)石油銷售淡季的期間 (D)擴大參賽國家的數量。
16. 西元 2020 年世界博覽會主辦城市揭曉，由西亞的城市杜拜以 116 對 47 票，打敗俄羅斯的耶卡特林堡，奪下主辦權。這是西亞地區第一次主辦世博會，整個阿拉伯世界徹夜慶祝狂歡，這不只是杜拜的成功，也是所有穆斯林國家的榮耀。杜拜快速的經濟發展與下列何者有關？ (A)石油獲利轉型多元投資 (B)供給美軍戰爭時的軍用品 (C)利用滴灌技術開發農業 (D)開發海水淡化廠銷售飲用水。
17. 底格里斯河雖為美索不達米亞平原重要的水源，卻也在歷史上發生多次大洪水，造成許多古王國的消逝。請問：若要掌握底格里斯河的水位變化，應注意下列哪個地區的降水情形？ (A)甲 (B)乙 (C)丙 (D)丁。



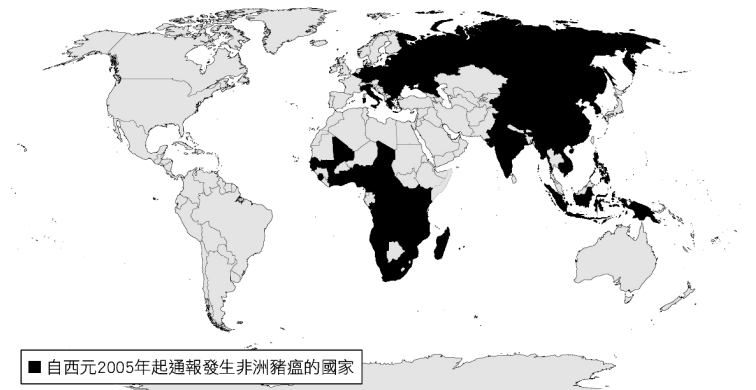
18. 附圖為西亞某地區的氣候圖。請問：該地區最可能位於何處？ (A)紅海和波斯灣沿岸 (B)波斯灣和黑海沿岸 (C)黑海和地中海沿岸 (D)地中海和阿拉伯海沿岸。
19. 附圖是某地區的房屋及人民服飾的特色，請依據圖中資訊判斷，此一特色與該地區的何種地理環境有關？ (A)地形起伏 (B)氣候環境 (C)政治體制 (D)土壤貧瘠。



20. 附圖為沙烏地阿拉伯的國徽，其由兩個圖案構成：上方為西亞乾燥地區最常見的樹，代表農業和綠洲；下方兩柄交叉的彎刀代表對伊斯蘭信仰的捍衛。請問：其國徽上方的樹種最可能為下列何者？ (A)橄欖樹 (B)棕櫚樹 (C)棗椰樹 (D)椰子樹。



21. 附圖為西元 2019 年 4 月，國際非洲豬瘟的疫情狀況。西亞與北非不易成為非洲豬瘟傳播疫區的主要原因為何？ (A)氣候乾燥 (B)宗教信仰 (C)地形阻隔 (D)經濟落後。



22. 西亞和北非的埃及常被合稱為中東，當地戰事不斷，因此素有火藥庫的稱號。請問：附表中有關該地區的紛爭原因，何者錯誤？ (A)民族不同 (B)宗教不同 (C)石油礦藏 (D)戰略地位。

民族不同	宗教不同	石油礦藏	戰略地位
猶太人與阿拉伯人紛爭	猶太教與伊斯蘭教紛爭	主要分布於紅海沿岸	位歐、亞、非三洲接觸地帶

23. 長久以來，以色列和巴勒斯坦不斷發生武力衝突。關於當地衝突原因的敘述，下列何者正確？ (A)以色列當地石油蘊藏豐富，各國都想要爭奪 (B)巴勒斯坦面臨印度洋，自古以來就是交通要衝 (C)雙方信仰不同，爭奪聖地及土地引發了許多仇恨 (D)兩國互相爭奪幼發拉底河的水資源。
24. 西元 2020 年應是石油輸出國家組織慶祝成立 60 週年的時刻，在這一甲子的時間，此組織實現了「協調和統一各成員國能源政策和價格，確保國際油價穩定，保障產油國收入」的宗旨，但卻因新冠肺炎(COVID-19)疫情持續，造成油價的下跌，也影響了產油國的經濟利益。關於石油輸出國家組織的敘述，下列何者正確？ (A)所有成員國皆信奉伊斯蘭教，有著共同的宗教規範 (B)為經濟合作組織，成員國間減免關稅及有流通的貨幣 (C)同時保障文化資產，確保伊斯蘭文化區的珍貴古文明不被破壞 (D)由主要產油國組成，主導國際間的石油利益。

貳、題組 (每題 2 分，共 28 分)

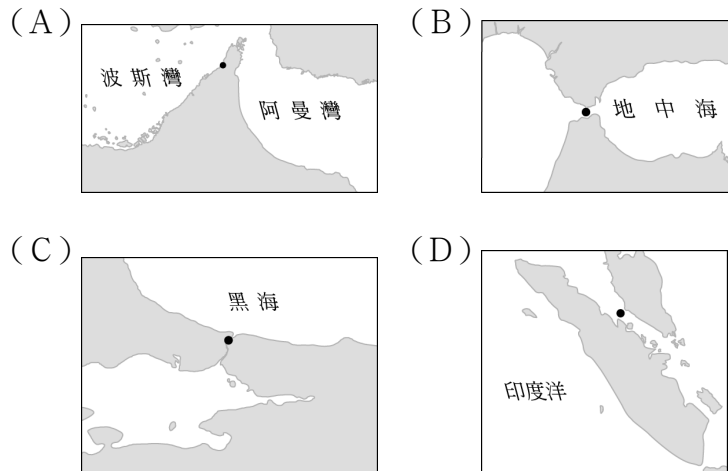
- 一、居住在乾燥地區的人民，會利用珍貴的水源發展灌溉農業，有些在河岸形成「帶狀綠洲」，有些則在山麓地帶利用人工引水形成「點狀綠洲」。請問：
25. 北非的帶狀綠洲主要分布於下列哪一條河流的沿岸？ (A)尼羅河 (B)約旦河 (C)幼發拉底河 (D)底格里

斯河。

26. 北非的點狀綠洲主要出現在下列哪一個地區？ (A) 伊朗高原 (B) 阿拉伯高原 (C) 高加索山區 (D) 亞特拉斯山區。

二、杜拜是西亞最富有的地區之一，自 1970 年代起，杜拜即進行的包含觀光業、金融業、國際貿易轉運站建設與發展，成為眾所矚目的發展地區。

27. 促使杜拜自 1970 年代起即進行多元化的建設與發展的主要原因為何？ (A) 降低對單一礦產資源的依賴 (B) 勞力成本提升，促使產業升級 (C) 國家基礎建設不足，經濟發展受限 (D) 國內族群複雜多元，社會動盪不安
28. 杜拜因位於下列哪個位置而成為西亞的貿易轉運站？

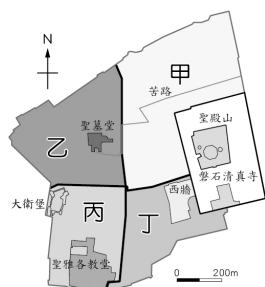


三、這個城市在巴勒斯坦被稱為三教聖城，對以色列而言，猶太人最早在這裡建立他們的聖殿，後來羅馬帝國又在這裡建立基督教城市。然後，阿拉伯帝國為了紀念穆罕默德，在這裡建立了兩座清真寺，阿拉伯人視此地為第三大聖城。西元 1881 年俄國掀起屠殺猶太人的風潮，一部分住在俄國的猶太人，為逃避屠殺，遷居到巴勒斯坦。爾後，第一次世界大戰期間，美英支持以色列在巴勒斯坦建國，並將巴勒斯坦一分為二，變成一個猶太人國家和一個阿拉伯國家。這引起了阿拉伯居民的不滿，他們不同意將巴勒斯坦土地一分為二，也絕不放棄聖城，也因此導致該地區的紛亂不斷。請問：

29. 文中提到被稱為三教聖城的城市應為何者？ (A) 麥加 (B) 麥地那 (C) 伊斯坦堡 (D) 耶路撒冷。
30. 紛爭不斷的巴勒斯坦瀕臨圖中哪一個海域？ (A) 甲 (B) 乙 (C) 丙 (D) 丁。



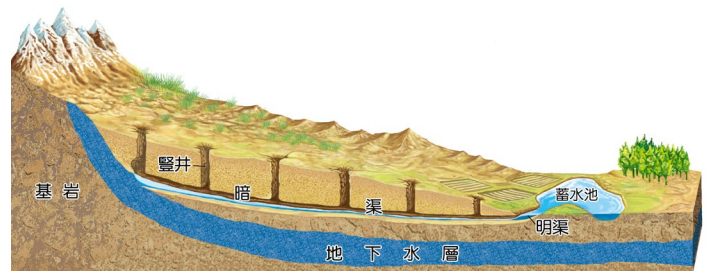
31. 附圖是該城市舊城區的宗教建築分布，其中「丁區」有非常著名的哭牆，丁區應為哪一個宗教的文化區？ (A) 東正教 (B) 基督教 (C) 猶太教 (D) 伊斯蘭教。



四、小說《牧羊少年奇幻之旅》的故事為一位少年為了追尋夢想，從地中海北岸的西班牙出發，穿越北非沙漠，前往尼羅河畔金字塔的歷程。請回答下列問題。

32. 北洲是世界上最乾旱的地區之一，在烈日曝曬下，沙漠地區甚至出現十年不雨的紀錄。這是因為該地區的大氣現象會出現下列何種特色？ (A) 上升氣流、水氣抬升 (B) 下沉氣流、地表增溫 (C) 旋轉氣流、水氣蒸發 (D) 下沉氣流、溫度變低。
33. 故事主角是以牧羊為生。在西亞與北非，受限於氣候條件，在沙漠邊緣的草原區生活的人民，需透過哪些方式維持生態的平衡？ (A) 打深井取水畜養牛隻、控制牲畜數量 (B) 大量購買外國廉價草飼料、減少用水 (C) 控制牲畜數量、牧民與牲畜不斷遷移 (D) 興建坎井灌溉、飼養高經濟價值牛隻。
34. 尼羅河畔的金字塔是牧羊少年旅程的終點，當他來到這個孕育古埃及文明的河流時，下列場景敘述，何者為真？ (A) 該地為溫帶地中海型氣候，氣候炎熱 (B) 處處可見棗椰樹結滿果實供人類食用 (C) 種姓制度的規定女性必須以面紗蒙面 (D) 傾斜的屋頂可蒐集沙漠中珍貴的雨水。

五、附圖為坎井示意圖，請回答下面問題。



35. 此項水利設施所運用的水資源主要為何？ (A) 雨水 (B) 海水 (C) 河水 (D) 地下水。
36. 此種水源利用方式主要是想達到什麼目的？ (A) 減少蒸發 (B) 防止下毒 (C) 方便取用 (D) 保護生態。
37. 這種水源利用方式，最可能出現在下列何處？ (A) 阿拉伯高原 (B) 兩河流域 (C) 伊朗高原 (D) 尼羅河三角洲。
38. 承上題，請問此地的氣候圖最可能為下列何者？

