

臺北市大同區太平國民小學 112 學年度第一學期一年級數學領域期末評量試卷

一年級 班 號 姓名：

家長簽名：

一、圖畫一圖畫：16 分

1. 把答案為 8 的圖畫起來。(10 分)


9-5 5+1 2+5 1+6 8+0

7+2 6+2 4+4 3+5 4+3

2. 下面哪一個鐘面上面的長針位置是錯誤的？請把這個時鐘圖畫起來。



3. 依照下面圖形排列的規律性，() 裡會是什麼圖形？請畫起來。



()

4. 想一想，做哪一件事花的時間比較長？請畫起來。



二、畫圖算算看看：12 分

(1) $5 + 4 = ()$

(2) $7 - 2 = ()$

(3) $3 + 3 = ()$

(4) $10 - 6 = ()$

三、連連看看：8 分

1. ● 可以堆高，不容易滾動。

2. ● 可以堆高，也容易滾動。

3. ● 容易滾動，不能堆高。

4. ● 容易滾動，不能堆高。

四、填一填：46 分

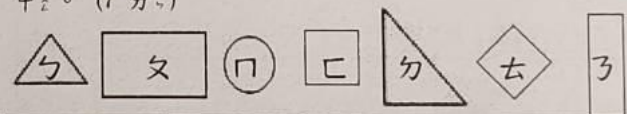
1. 想一想，填填看看(7 分)



左邊的籃子有 () 顆球，右邊的籃子有 () 顆球，左邊的籃子比右邊的籃子多了 () 顆球。

算式：() \square () = ()

2. 下面是什麼形狀，把代號填在框框中。(7 分)

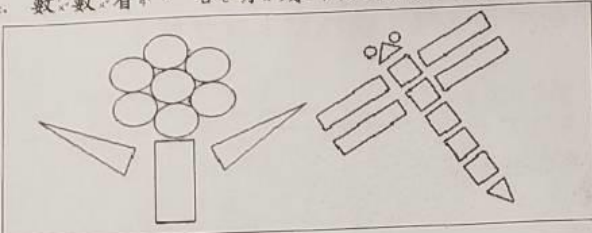


圓形	長方形	正方形	三角形

3. 請問下面時鐘是什麼時刻？(12 分)

ㄅ	ㄨ	ㄩ
() 點鐘	() 點半	() 點鐘
(:)	(:)	(:)

4. 數數看看，各有幾個圖形？(8分)



- (1) 圓形共有()個。
 (2) 三角形共有()個。
 (3) 正方形共有()個。
 (4) 長方形共有()個。

5. 小如再過2小時就要回家了。(2分)

現在是幾時幾分？



2小時之後



()點半的時

候，小如要回家。

6. 小美1個小時之前正在打球。(2分)

現在是幾時幾分？



1小時之前



()點鐘的時

候，小美在打球。

7. 先寫出時刻，再依事情發生的先後順序，在□中填上1, 2, 3, 4。(8分)

順序，在□中填上1, 2, 3, 4。(8分)

□ 上午()點半



出門上學

□ 下午()點



星期二放學

□ 上午()點



交功課

□ 上午()點



起床

五. 把做法用算式記下來。(18分)

1. 一枝鉛筆5元，買兩隻鉛筆要幾元？

()元

2. 操場上有9隻麻雀，飛走了3隻後，還剩下幾隻麻雀？

()隻

3. 哥哥烤了5塊餅乾，要送給8個朋友，1人1塊，請問不夠幾塊餅乾？

()塊

4. 爺爺種了2棵樹，奶奶種了6棵樹，請問爺爺和奶奶共種了幾棵樹？

()棵

5. 圍欄裡有8隻小貓，3隻小狗，請問圍欄裡的小貓比小狗多幾隻？

()隻

6. 小雄從6樓往上爬3樓到小香家，請問小香家住幾樓？

()樓