

一、選擇題(每題 2 分，共 20 分)

- () 哥哥收集了 46 張卡片，弟弟收集了 29 張卡片，比哥哥少 17 張，兩個人收集卡片共有幾張？
① 80 張 ② 75 張 ③ 63 張 ④ 29 張
- () 花店裡有 50 朵紅花和 43 朵黃花，賣出 38 朵後，還剩下幾朵？
① 12 朵 ② 17 朵 ③ 55 朵 ④ 93 朵
- () 小文和 2 位同學，每人都有 2 雙鞋子，一共是幾隻鞋子？
① 4 隻 ② 8 隻 ③ 10 隻 ④ 12 隻
- () 9 個一數：18-□-36-45，□中應該填入什麼數？
① 9 ② 24 ③ 27 ④ 35
- () 鐘面上有 12 大格，從 1 時到 2 時，時針共走了多少？
① 1 大格 ② 1 小格 ③ 1 圈 ④ 1 圈半



- () 現在是上午 10 時，再過 2 小時書店才開始營業，書店開始營業的時間是什麼時候？
① 8:00 ② 9:00 ③ 10:00 ④ 11:00
- () 老師發給 5 個小朋友，每個小朋友發給 6 張，共要準備幾張貼紙？
① 6 張 ② 24 張 ③ 25 張 ④ 30 張
- () 一盒禮盒有 5 顆蘋果和 3 顆水梨，阿姨買了 7 盒，共有幾顆蘋果？
① 21 顆 ② 35 顆 ③ 48 顆 ④ 56 顆
- () 下面哪一個容器的水量最多？
① ② ③ ④ 一樣多
- () 如圖，哪一個最重？
① ② ③ 香蕉 ④ 不能比較

二、填充題(每題 2 分，共 42 分)




- 現在鐘面時間是 3 時 30 分，分針再走 5 小格是 () 時 () 分。
- 「8+8+8+8+8+8」也可以表示成 () 的 () 倍。
- 「2×8」比「2×6」多 () 個 2，是多 ()。

- 「6×5」比「6×6」少 () 個 6，是少 ()。
- 被乘數都是 3，當乘數增加 1 時，積會 ()。
- 看圖做做看

橡皮擦	筆記本	鉛筆盒	鉛筆	剪刀
10 元	29 元	69 元	15 元	? 元

- 姐姐買了 1 個鉛筆盒、1 枝鉛筆和 1 個橡皮擦，一共花了 () 元。
- 一把剪刀比一本筆記本貴 3 元，哥哥買一本筆記本和一把剪刀，共要付 () 元。
- 妹妹買了一把剪刀、1 枝鉛筆和 1 個橡皮擦，錢剛好用完，妹妹原來有 () 元。
- 接第③題，請問妹妹原來有的錢夠不夠買 1 個鉛筆盒？答 ()

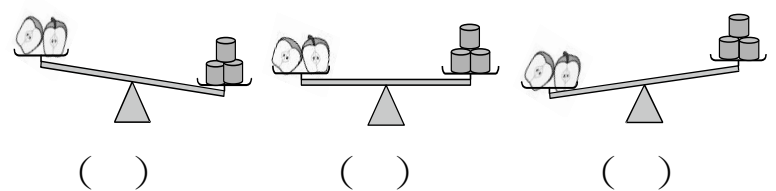
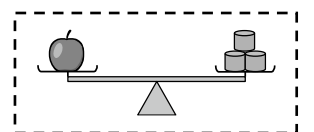
7. 按照重量由重到輕，寫上 1、2、3。



8. 依照水量由少到多，寫上 1、2、3。




9. 蘋果切開後，哪一個比較重？在 () 裡打√。

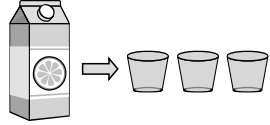


10. 小威和小雄比賽喝果汁，比賽結束後，將剩下的果汁倒入相同的杯子裡，誰喝的果汁比較多()

小威喝剩下的果汁：




小雄喝剩下的果汁：



三、連連看(每答1分，共12分)

1. 鐘面是幾時幾分，再連連看



• 6 : 36

()時()分




• 11 : 29

()時()分



• 2 : 45

()時()分



• 1 : 05

()時()分

四、應用題(每題4分，共20分)

1. 小明在商店買了每包45元的果凍2包和1包36元的洋芋片，一共要付多少元？

答：

2. 書架上原有83本書，昨天被借走39本，今天又被借走26本，現在書架上還剩幾本書？

答：

3. 【絕句】這首詩共有幾個國字？

遲日江山麗，春風花草香；
泥融飛燕子，沙暖睡鴛鴦。
用乘法算式做做看。

答：

4. 教室裡有6排座位，每排坐了4個學生，教室裡共有幾個學生？用乘法算式做做看。

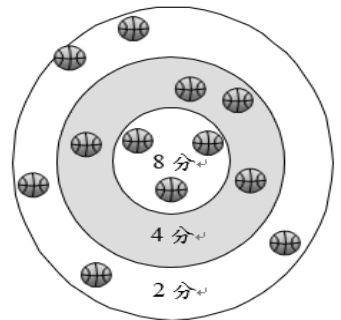
答：

5. 跳一次舞蹈的時間是7分鐘，小美連續練習跳3次，需要幾分鐘？用乘法算式做做看。

答：

五、素養題(每題1分，共6分)

1. 右圖是小新參加丟球比賽的得分紀錄。



- ① 2分球得分用連加算式記成()
- ② 4分球得分用連加算式記成()
- ③ 8分球得分用乘法算式記成()
- ④ 小新總共得了()分。

2. 看圖寫出乘法問題和乘法算式。



① 乘法問題：

② 乘法算式：