
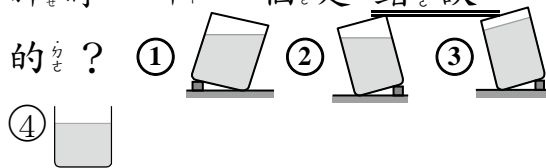


得分		家長 簽名		年 班	學生
				號	姓名

一、選擇題：(每題 2 分，共 16 分)

- () 1. 1 個漢堡和 4 個電池一樣重，2 個漢堡和幾個電池一樣重？
 ① 6 個 ② 8 個 ③ 2 個 ④ 12 個
- () 2. 下面哪一個容器可以裝的水最多？

- () 3. 鍋子裡有 79 顆湯圓，班上女生吃了 43 顆，大約還剩下幾顆湯圓？
 ① 50 顆 ② 60 顆
 ③ 40 顆 ④ 30 顆
- () 4. 教室裡，哪些地方沒有垂直現象？
 ① 數學課本 ② 窗戶
 ③ CD 光碟片 ④ 桌子
- () 5. 9 個一數：18-27-□-45，□中應該填入什麼數？
 ① 9 ② 54 ③ 28 ④ 36
- () 6. 哪裡不能看見水平面？
 ① 湖泊 ② 瀑布
 ③ 游泳池 ④ 學校的魚池
- () 7. 小竹比小延重，小竹比小元輕，小延和小元誰比較重？
 ① 小元 ② 小延 ③ 一樣重
 ④ 無法比較

- () 8. 下面裝水的容器傾斜時，哪一個是錯誤的？


二、連線看：(每題 2 分，共 10 分)

- | | | | |
|----------------|---|---|-----------|
| ① 4×5 | • | • | 勺 5 的 6 倍 |
| ② 5×6 | • | • | 勺 4 有 5 個 |
| ③ 3×2 | • | • | □ $3 + 3$ |
| ④ 6×5 | • | • | □ 7 有 6 個 |
| ⑤ 7×6 | • | • | 勺 6 的 5 倍 |

三、填填看：(每格 2 分，共 26 分)

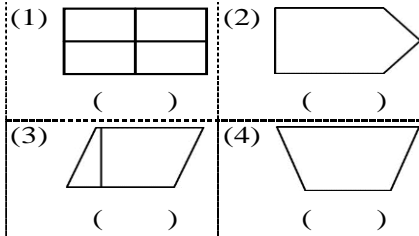
1. 「3 的 7 倍」比「3 的 4 倍」多()個 3，也就是多()。
2. 8×6 比 8×9 少()。
3. $9 \times 6 = 54$ 的算式中，被乘數是()，乘數是()，積是()。
4. 甲容器比乙容器大，丙容器比乙容器小，哪一個容器最大？()容器。
5. 把杯子裡的水，倒進另一個杯子裡，倒過去的水和原來的水一樣多嗎？()
6. $2 + 2 + 2 + 2 + 2 = ()$
 2 的 5 倍是 $2 \times () = ()$

7. 49 大約接近 50 還是 40? ()

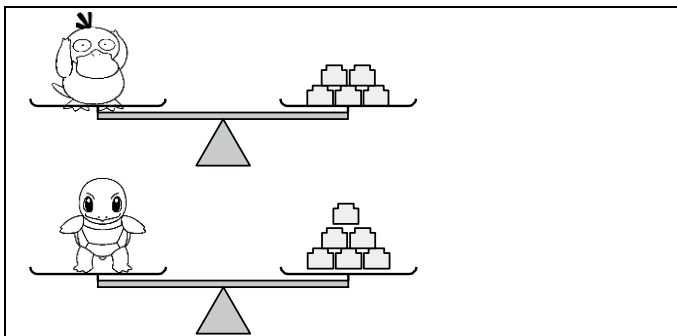
8. 一塊黏土壓扁，做成游泳圈造型，重量會改變嗎?
()

四、看圖回答問題：(20分)

1. 有平行也有垂直現象的畫√。



2.




1 隻 和 () 個 一樣重。

1 隻 和 () 個 一樣重。


1 隻 比 1 隻 重 () 個 。

3. 由重到輕寫上 1、2、3。




() () ()

4. 哪些指針是鉛直線? 請將它圈起來



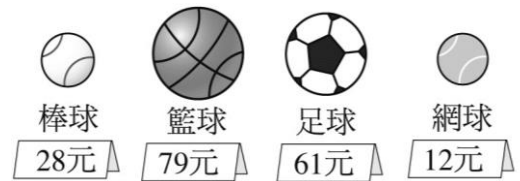
5. 下圖中共有幾顆糖果?



() × () = ()

共有 () 顆糖果

6. 估估看看，在正確的□裡打√。



(1) 買一顆足球和一顆網球，大約要多多少元?
 70 元 80 元 50 元

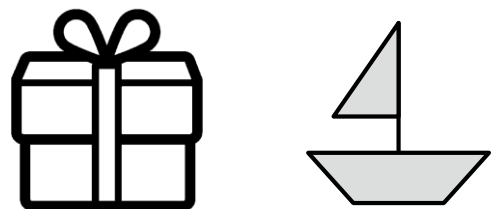
(2) 買一顆籃球和一顆棒球，大約要多多少元?
 90 元 100 元 110 元

(3) 一庭有 100 元，夠不夠買一顆棒球和一顆籃球?
 夠 不夠 不一定


五、動動腦：(共28分)

1. 聖誕節到來，聖誕老公公又開始忙碌的送孩子們禮物了，但是今年他必須回答一些問題，才能開始發送，請大家一起來幫他完成吧!

(1) 請在每個禮物上圈出 2 條平行線。(4分)



(2) 玩具布偶中哪一個比較重？比較重的在()裡畫○，比較輕的打×：(2分)




() ()

(3) 他家裡有97個禮物，早上要送24個禮物到德國小學教務處，下午要送39個禮物到輔導室，現在家裡還剩幾個禮物？請將做法跟答案記下來。(4分)

(4) 他必須畫出4個相同的雪人，他一共需要畫幾個圓形呢？請用乘法算式做做看。(4分)

() × () = ()



答：_____個圓形

(5) 下面是聖誕老人的英文字母，請把它們有垂直現象圈起來。(2分)

SANTN CLAUS

2. 德國小運動會，活動相當精彩，場地布置吸引許多來賓的目光，以下請你幫忙動腦回答當天活動中的問題。

(1) 二年級繞場，手拿著風車，1枝風車有5片葉扇，9枝風車共有多少片葉扇？(4分)

() × () = ()

答：_____片葉扇

(2) 當天家長會賣豆干一包40元，一枝棉花糖比豆干少17元，買一包豆干和一枝棉花糖共要多少元？請將做法跟答案記下來。(4分)

(3) 已經有32枝風車插在木棍上，又插了15枝，最後再插上12枝，現在總共有多少枝風車插在木棍上？請將做法跟答案記下來。(4分)



恭喜完成本階段學習，請再檢查一遍喔！