

得分	家長簽名	年 班 號	學生姓名
----	------	-------	------

**臺灣的美麗與哀愁**

一、看見臺灣：每題 2 分，共 30 分

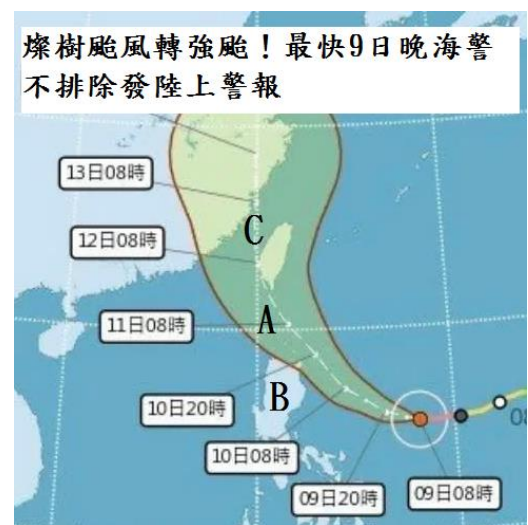
- ( ) 1. 若想要搭乘公主號郵輪前往日本參加 2021 年東京奧運會，從基隆港出發，會先經過臺灣哪一個鄰近海域？  
 ①南港 ②日本海 ③東海 ④巴士海峽。
- ( ) 2. 已於暑假結束的奧林匹克運動會強調以運動來促進世界各國的交流，會旗上設計了象徵世界五大洲的五環。請問：地球上的五大洲不包含下面哪一個？  
 ①美洲 ②澳洲 ③亞洲 ④大洋洲。
- ( ) 3. 而世界上的三大洋，不包括下列何者？  
 ①印度洋 ②大西洋 ③北極海 ④太平洋
- ( ) 4. 下列何者是地球經緯線的主要功能？  
 ①用來觀察地球的形狀  
 ②用來畫分世界各國的範圍  
 ③用來表示地球的重量  
 ④用來表示各地的位置。
- ( ) 5. 下面表格內關於經緯度的比較，何者錯誤？



	經線	緯線
①長度	都一樣長	都一樣長
②方向	南北向	東西向
③度數	東、西經各有 180°	南、北緯各有 90°
④半球畫分	0° 經線通過格林威治天文臺，畫分東、西半球	0° 緯線，也就是赤道，畫分南、北半球

- ( ) 6. 下列哪一個可能是成德國小的經緯度標記？  
 ①(121.3° W, 25° N)  
 ②(121.3° E, 25° S)  
 ③(121.3° W, 25° S)  
 ④(121.3° E, 25° N)。
- ( ) 7. 關於緯度與氣候的關係，下列敘述何者錯誤？ ①世界各地的氣候型態，可以從緯度位置的高低來了解 ②臺灣的氣候以北回歸線為界 ③較低緯度的地區，四季炎熱 ④只要是同緯度的地區，氣溫都會一樣。
- ( ) 8. 若想要到四季如夏的熱帶天堂度假，你會選擇下列哪一個地方呢？ ①北極地區  
 ②英國倫敦 ③泰國普吉島 ④加拿大。
- ( ) 9. 以北回歸線來看，臺北市屬於什麼氣候？  
 ①熱帶氣候 ②副熱帶氣候 ③極地氣候  
 ④沙漠氣候。

- ( ) 10. 若想要收集臺灣北回歸線標誌景點打卡照，到哪一個地區無法收集到？  
 ①花蓮瑞穗鄉 ②嘉義水上鄉  
 ③臺南七股區 ④花蓮豐濱鄉。
- ( ) 11. 關於臺灣本島的敘述，下列哪一個正確？  
 ①東西距離大於南北距離  
 ②臺灣北端富貴角到南端鵝鑾鼻的距離大約 140 公里  
 ③甘薯形狀的臺灣總面積大約 36000 平方公里  
 ④臺灣第一高山玉山，高度大約 1000 公尺
- ( ) 12. 臺灣擁有優越的地理位置，從下列哪個敘述無法證明？  
 ①黑面琵鷺常會來臺灣過冬  
 ②擁有與世界航運往來頻繁的高雄港  
 ③經過臺灣四周海域的魚類種類繁多  
 ④桃園機場往來亞洲東部主要城市間的平均飛行距離最長。
- ( ) 13. 根據下面新聞畫面，燦樹颱風預計於 10 日 20 時暴風圈擦過 B 國東北角，再進入 A 後碰觸臺灣南部陸地。圖中的 A、B 各是什麼？



- ①A: 南海 B: 韓國  
 ②A: 臺灣海峽 B: 菲律賓  
 ③A: 巴士海峽 B: 菲律賓  
 ④A: 菲律賓海 B: 菲律賓
- ( ) 14. 承上題，燦樹颱風登陸臺灣後，將經過 C 侵襲中國大陸，圖中的 C 是什麼？  
 ①臺灣海峽 ②巴士海峽  
 ③太平洋 ④菲律賓海
- ( ) 15. 臺灣多地震、形狀狹長，且地形多樣，與下列何者關係最密切？ ①臺灣有北回歸線經過 ②臺灣位於板塊交接處 ③臺灣天然災害多 ④臺灣山地起伏小

二、悠遊臺灣：

1. 成聰明一家人利用暑假的尾聲進行了一趟環島旅行，下列是成聰明旅行中隨手記錄的旅行筆記，請將他遺漏了部分內容，在下方表格填入相對應的「代號」。每格 1 分，共 12 分

A 丘陵	B 台地	C 盆地	D 岩岸
E 斷崖	F 珊瑚礁	G 瀉湖	H 池塘
I 高屏溪	J 淡水河	K 濁水溪	L 蘭陽溪
M 太平洋	N 臺灣海峽	O 屏東平原	P 嘉南平原
Q 海岸山脈	R 雪山山脈	S 玉山山脈	

因臺北為( ① )地形，氣候悶熱難耐，為了離開這濕黏的臺北，我們決定進行一趟環島之旅。首先我們往北開，來到了曲折多海灣的北部( ② )海岸地形，看到了許多奇形怪狀的石頭，讓我大呼驚奇！過了東北角後一路往東部海岸開，遇到的第一條溪是( ③ )，這條溪灌溉著平坦美麗的蘭陽平原，最後注入( ④ )。

東部是( ⑤ )海岸地形，岩壁幾乎垂直入海，這裡的海岸地形讓我印象深刻。筆直的東部海岸，除了可以看到美麗的海景，還會經過位於臺灣最東邊的那座( ⑥ )，暢遊在這座山脈及中央山脈間的花東縱谷平原上，心曠神怡呀！

沿著東部繞過臺灣島最南端後到達我最期待的墾丁，附近就是( ⑦ )海岸地形，我迫不及待參加潛水活動欣賞各種魚類的海中美景。離開墾丁後，我們去臺南七股區搭乘觀光漁筏登上網仔寮沙洲，暢遊在沙洲與陸地間這片平靜的海面，兩旁滿是養殖蚵仔的棚架，原來我們所在的這片海域稱作( ⑧ )。

看完海上風光，一路奔馳往北的公路兩旁，是四周廣闊低平由河川沖積而成的臺灣大穀倉( ⑨ )，中途還看到了那條臺灣最長的河川( ⑩ )。行經中部地區後，進入位於海拔 1 6 0 公尺到 2 4 0 公尺之間的苗栗縣，由於地勢由東向西緩緩傾斜，因此開發了多層次的梯田景觀，可見這裡是( ⑪ )地形。

車子離開苗栗、新竹後，就進入桃園，這裡大多是海拔高度約在 1 0 0 公尺以上，頂部平坦的高地，這裡的地形是( ⑫ )。最後車子駛離林口台地後，回到溫暖臺北的家，結束這趟環島之旅。

①	②	③	④
⑤	⑥	⑦	⑧
⑨	⑩	⑪	⑫

2. 以下是成聰明在網仔寮沙洲島上看到的導覽說明。請回答問題。每題 2 分，共 12 分

移動的國土—網仔寮沙洲

臺南西南沿海嘉義到高雄一帶，曾文溪長年自上游挾帶而下的泥沙淤積，將臺灣西南部海岸線緩緩向西推進。但每逢大雨常造成曾文溪改道、洪水氾濫，才使臺南西南沿岸逐漸淤積形成多個沙洲島。

曾文溪擁有豐富的水力資源，全臺灣最大的水庫曾文水庫，即在曾文溪上游，主要為提供嘉南地區灌溉用水，另具發電、防洪和觀光的功能，是個多目標利用的水庫。

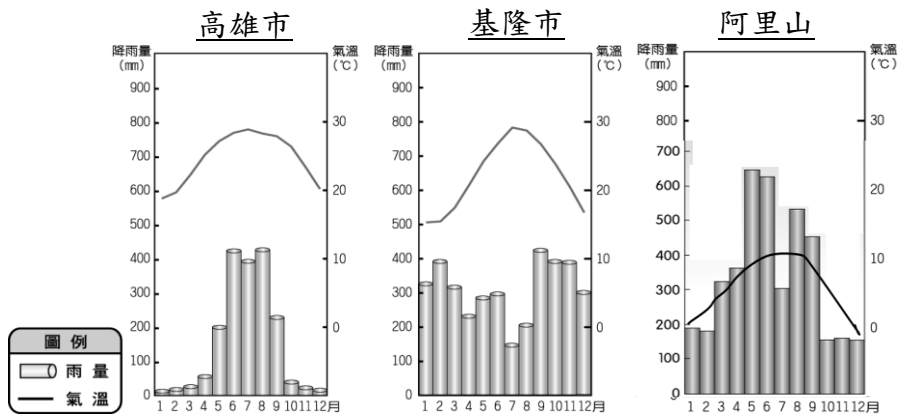
沙洲也是外海風浪襲擊的第一線，無端遭受侵蝕，加上沿岸海流沖刷與季風吹拂，沙土來來去去。在曾文溪上游興建水庫及攔沙壩後，曾文溪含沙量大減，河口堆積減少，近而影響沙洲面積，沙洲面積逐漸縮小，向海岸遷移，因此網仔寮沙洲如移動小島，於海面上飄浮載沉……

- ( ) (1) 根據導覽說明，臺灣沙洲的面積逐漸縮小的原因哪個是錯誤的？  
 ① 河口堆積減少 ② 曾文溪含沙量增加  
 ③ 興建水庫 ④ 季風吹拂。
- ( ) (2) 曾文水庫為一個多目標大型水庫，下列哪一項不是其興建目的？  
 ① 防洪 ② 生態保育 ③ 觀光 ④ 灌溉。
- ( ) (3) 臺灣由於地狹山高，所以河川具有許多特色，下面哪一項河川特性與興建水庫的原因最相關？ ① 河川長度短  
 ② 河川流速急 ③ 河川坡度陡  
 ④ 季節流量變化大。
- ( ) (4) 資源利用等人為開發，勢必多少會影響自然生態的改變。下列敘述何者錯誤？  
 ① 曾文水庫的建造→移動的國土慢慢消失  
 ② 移動的國土消失→黑面琵鷺的棲息地減少  
 ③ 翡翠水庫的建造→翡翠樹蛙有更佳的棲息地  
 ④ 花蓮秀林鄉開採水泥→破壞美麗的山林
- (5) 今年上半年由於降雨量不足，導致多座水庫面臨缺水危機，因此我們更應該珍惜水資源，請寫出兩項自己做得到的具體節約用水方法。(4分)

① \_\_\_\_\_

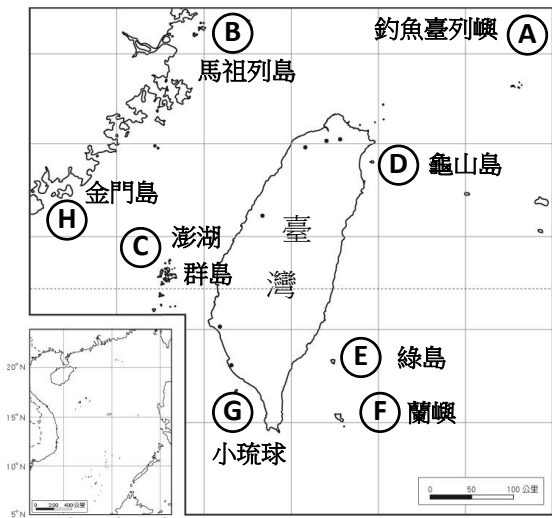
② \_\_\_\_\_

3. 成聰明在這趟環島之旅也發現各地的氣候明顯得不同，也影響著當地的生活。看圖回答問題，請將對的敘述畫○，錯的敘述打×。每題1分，共7分



- ( ) (1) 我們居住的南港區冬季潮濕多雨，是受到東北季風的影響。
- ( ) (2) 無論夏季或冬季，南部的氣溫變化較北部小。
- ( ) (3) 北部氣溫較高，南部氣溫較低。
- ( ) (4) 夏、秋兩季常有颱風侵襲臺灣，帶來豐沛的降雨。
- ( ) (5) 山區的地勢愈高，平均氣溫愈低。
- ( ) (6) 北部地區屬於夏雨冬乾的氣候型態
- ( ) (7) 新竹縣新埔鎮的農民會強風日照的特性，來生產柿餅。

4. 成聰明結束環島後，計畫明年要進行離島旅遊，以下是他收集到的資料。看下圖回答問題，並填入地點代號：每題2分，共6分




- ( ) (1) 成聰明規劃了以下跳島行程：先去欣賞原住民的地下屋及品嚐飛魚料理；接著去欣賞像倒蓋的臉盆「桶盤嶼」的特殊地形；最後去欣賞因戰爭開挖，曾是運用補給用品的翟山坑道。上述行程依序應為上圖中的哪些島嶼？  
 ① D→E→G    ② E→C→B  
 ③ F→C→H    ④ F→C→B
- ( ) (2) 哪座島嶼是由海底火山噴發而成的？  
 ① D    ② G    ③ H    ④ B
- ( ) (3) 行經哪一個島嶼時要特別注意避免碰撞到珊瑚礁而發生船難？  
 ① D    ② E    ③ F    ④ G

公民臺灣 第1~4題每個答案1分，共30分

1. 看圖回答(1)~(3)題：



- (1) 以下哪些網路上的行為與上圖一樣屬於違法行為？在□中打√。
  - ① 未註明出處引用他人的文章
  - ② 網路購物
  - ③ 在臉書上罵辱同學
  - ④ 分享偷拍同學照片
  - ⑤ 使用同學帳號玩線上遊戲
- (2) 若收到這則假簡訊並點開裡面的網址，有可能落入罪犯的圈套，釣魚網站會偷偷記錄你電腦裡的資料並且回傳給歹徒，將你的個人資料用來犯罪.....。所以看到類似這樣未經證實的訊息，應該怎麼做？在□中打√。
  - ① 趕緊轉發給所有人。
  - ② 向警方查證或舉報。
  - ③ 謠言止於智者，不轉傳分享。
  - ④ 只發給自己的親朋好友。
- (3) 圖中「轉傳假訊息，違者最高罰 300 萬」，法律明確的規定犯罪行為與違反法律的處罰，是為了什麼目的？在□中打√。
  - ① 維護公共秩序
  - ② 確保社會安寧
  - ③ 保障人民權利
  - ④ 政府透過罰金賺取收入。
- 2. 下列哪些是屬於犯罪的行為？在正確的□中打√。
  - ① 大明偷拿同學書包裡的錢。
  - ② 小強為了搶足球而把同學毆傷。
  - ③ 曉華乘坐摩托車未戴安全帽。
  - ④ 阿國的考卷分數太低不敢給爸爸簽名，自己偽造爸爸的筆跡簽名。
  - ⑤ 阿豪放學時，恐嚇低年級小朋友用悠遊卡幫他買飲料。
- 3. 為了保護兒童及少年身心健全發展，法律禁止兒童及少年從事哪些行為？請在□中打√。
  - ① 我們小學五年級可觀看  的電影。
  - ② 生日時開派對喝酒狂歡。
  - ③ 兒童和少年也可以嚼食檳榔。
  - ④ 可到賭博性電動玩具店。
  - ⑤ 可嚼食口香糖。

4. 社會規範是一種社會準則，請你根據以下畫線部分的敘述，找出分別與哪種社會規範有關，將代號填入社會規範所屬的（ ）中：

中秋節那天，我們邀請來臺灣交換學生的美國人 Sunny 在她白天去①教堂做完禮拜後，相約大佳河濱公園②賞月。我們一見面，③她就給了我一個熱情的擁抱，月色很美，可是看到公園旁④車子任意並排停車，許多人隨意⑤在路旁亂丟垃圾，看了不禁令人搖頭。

搭捷運回家的路上，捷運站的門口，⑥有宗教團體發贈勸人為善的書籍，人手一本，我正好在捷運上⑦讓座給行動不便者，日行一善。

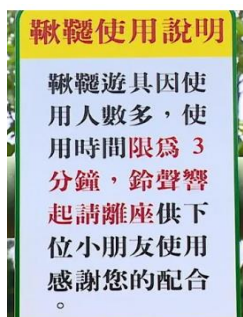
- (1) 風俗習慣：( )
- (2) 倫理道德：( )
- (3) 宗教信仰：( )
- (4) 法律：( )

5. 根據新聞報導回答以下問題: 共 3 分

### 北市 6 公園試辦盪鞦韆「限時分享」 3 分鐘換人玩

【中時新聞網／記者楊亞璇／台北報導】

公園處指出，許多小朋友因排隊排太久而發生衝突，為了讓孩子們都有玩到盪鞦韆的機會，領會遊戲中「分享、禮讓」精神，選定大安森林、青年、南港、前港、碧湖公園、花博公園美術園區 6 個公園遊戲場，在假日試辦友善限時分享方案，為期 2 周，輔導小朋友排隊，並按壓計時器 3 分鐘提醒，若試辦成效良好，將評估擴大實施。



【資料來源: 中時新聞網 2021.10.10

<https://www.chinatimes.com/realtimenews/20211010001520-260405?chdtv>】

( ) (1) 在遊具玩盪鞦韆中領會「分享、禮讓」的精神，是屬於哪一種社會規範? (1 分)

- ① 風俗習慣 ② 倫理道德 ③ 宗教信仰
- ④ 法律。

(2) 請問玩盪鞦韆限時 3 分鐘的這項政策，你贊成嗎?(請說明支持或不支持的理由) (2 分)

---

---

---



作答完請仔細  
檢查喔!